



Adım-Soyadım:



Yukarıda ; şapka, atkı ve eldiven fiyatları verilmiştir. Alttaki soruları buna göre yapınız. (1-2-3-4) (TL = Türk Lirası)

1) Bir eldiven, bir de şapka alan Naz kaç TL ödeme yapmıştır?

[illegible]


2) Ali, şapka ile atkı alırsa kaç TL ödeme yapar?

[illegible]

3) Üçünü birden alan Tanem kaç TL öder?


[illegible]

4)İki şapka alan Gizem, kasaya 20 TL vermiş. Kaç TL para üstü alır?


[illegible]

Yukarıda kaz, tavuk ve ördeğin kütleleri verilmiştir. Aşağıdaki soruları buna göre yapınız. (5-6-7-8) (kg= kilogram)


5) Üç tavuk bir kazdan kaç kg ağırdır?



6) İki ördek bir tavuk kaç kg gelir?



7) İki kaz üç ördekten kaç kg ağırdır?

A blank grid consisting of 10 columns and 4 rows, intended for drawing.

8) Kazın kütlesi, ördeği kütlesinin yarısından kaç kg fazladır?

[illegible]