

TÜRKÇE GENEL DEĞERLENDİRME 8

1- Dışarıda kar yağıyor.

Yukarıdaki cümlede hangi sorunun cevabı yoktur?

a- nerede b- ne c- ne zaman

2- Aşağıdaki cümlelerin hangisinde soru cümlesi doğru yazılmıştır?

a- Okula gidecekmisin?
b- Yemeğini yedin mi?
c- Kitap okudunmu?

3- Aşağıdaki kelimelerden hangisi anlamca diğerlerinden farklıdır?

a- okul – mektep b- yaz – kış
c- soru – cevap

4-



Yukarıdaki görsellerin adlarını alfabetik sıralamaya göre doğru sıralanışı nasıldır?

a) kalem – masa – elma
b) elma – kalem– masa
c) elma – masa – kalem

5- Bardaktan içtim.

Noktalı yere aşağıdaki kelimelerden hangisi gelmelidir?

a- elma b- muz c- çay



6- Yandaki görselin eş anlamlısı nedir?

a-sınıf b- tahta c- muallim


7-Aşağıdakilerden hangisi cümledir?

a- Yarın okula. b- Dün seni.
c- Yemek yedim.

8-Aşağıdaki görsellerden hangisinin hece sayısı en azdır?



a-



b-

c-

2

9- sene – bu- Beşiktaş- üç-aldı –kupa

Yukarıda karışık olarak verilen kelimelerden anlamlı ve kurallı bir cümle kuralım.

10. Aşağıdaki cümlelerden hangisi olumsuz cümledir?

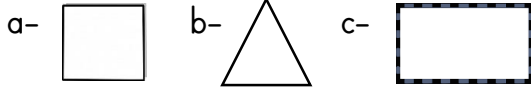
a-Kitap okumak çok güzel.


b-Oğuz, hasta olduğu için okula gelemedi.

c- Bahçede top oynadık.

MATEMATİK GENEL DEĞERLENDİRME 8

1- Dört köşesi ve kenarı olan, tüm kenarları eşit olan geometrik şekil aşağıdakilerden hangisidir?



2-  Yandaki şeklin özellikleri hangi şıkta doğru verilmiştir?
a) Köşesi ve kenarı vardır.
b) Köşesi ve kenarı yoktur.
c) Bir kenarı vardır.

3- 53 sayısının 9 fazlasının 15 eksiği kaçtır?

4- Galatasaray 22, Fenerbahçe 19, Beşiktaş 16, Trabzonspor ise 6 kez şampiyon olmuştur. Bu dört takımın toplam şampiyonluk sayısı kaçtır?

5- Bir kova 5 bardak su ile doluyorsa 3 kova kaç bardak su ile dolar?

6- Aşağıdakilerden hangisi üçgenin özelliklerindendir?

- a) 3 kenarı , 4 köşesi vardır.
- b) 3 kenarı, 3 köşesi vardır.
- c) Köşesi ve kenarı yoktur.

7- Dört köşesi ve dört kenarı vardır
Karşılıklı kenarları eşittir.

Yukarıda özellikleri verilen geometrik şekil hangisidir?

a-Diktörgen b- Kare c- Üçgen

8- Şeyma 76 sayfalık kitabın ilk gün 14 sayfasını okudu. İkinci gün 22 sayfasını okudu. Şeyma'nın okuması gereken kaç sayfası kaldı?

9- Aşağıdakilerden hangisi geometrik şekil değildir?

a- İp b-Kare c- Çember

10- Aşağıdaki boşluğa birer adet kare, diktörtgen, çember ve üçgen çiziniz.