





2. SINIF - EVDE EĞİTİM - MATEMATİK

Veri, Tablo Ve Grafikler - 1







Sınıfımızda sevilen meyvelere ait bir liste oluşturduk. 5 kişi elma, 4 kişi armut, 6 kişi karpuz ve 8 kişi çilek cevabını verdi. Bu bilgilere göre;

- Çetele tablosu çiziniz.

Sevilen meyveler	Çetele
	
	
	
	

- Sıklık tablosu çiziniz.

Sevilen meyveler	Çetele
	
	
	
	

Yıldız 3 mavi, 5 kırmızı, 6 yeşil kalem almıştır. Bu bilgiye göre;

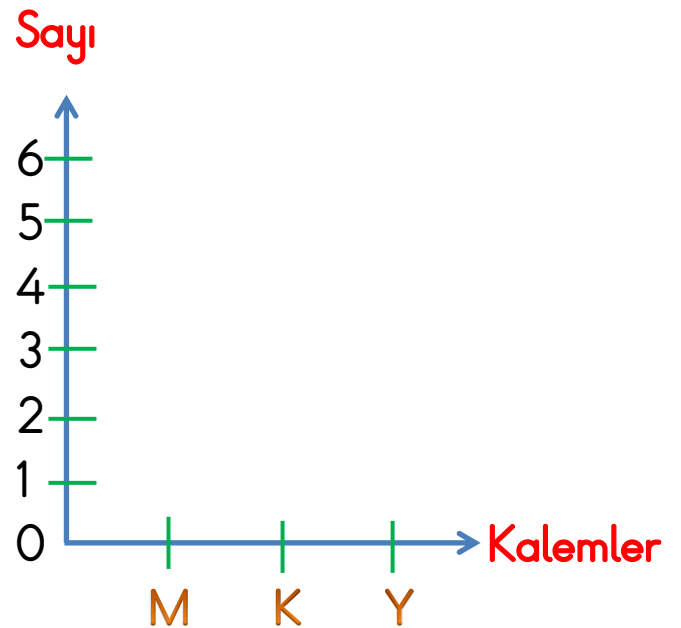
- Çetele tablosu çiziniz.

Kalemler	Çetele
Mavi	
Kırmızı	
Yeşil	

- Sıklık tablosunu çiziniz.

Kalemler	Sayı
Mavi	
Kırmızı	
Yeşil	

- Grafik çiziniz.




➤ Çetele tablosunda çizgi çizilir.

➤ Sıklık tablosunda sayı yazılır.

2. SINIF - EVDE EĞİTİM - MATEMATİK

Veri, Tablo Ve Grafikler - 2

Hayvan Sayısı



Cıvıv

Kedi

Koyun

Tavşan

Hayvanlar

(Her şekil 2 hayvanı göstermektedir.)

Yukarıdaki nesne grafiğine göre aşağıdaki soruları yanıtlayınız.

- Kaç civciv vardır?
- Kaç kedi vardır?
- Kaç koyun vardır?
- Kaç tavşan vardır?

- Sıklık tablosunu çiziniz.

Hayvanlar	Sayı





- Çetele tablosu çiziniz.

Hayvanlar	Çetele

2. SINIF - EVDE EĞİTİM - MATEMATİK

Veri, Tablo Ve Grafikler İle İlgili Problemler

Sevilen Hayvanlar

Balık	
Kuş	
At	
İnek	

(Her nesne 4 hayvanı göstermektedir.)

Aşağıdaki soruları yukarıdaki tabloya göre yanıtlayınız.

- 1.) Kaç inek vardır?
- 2.) Atlar, balıklardan kaç fazladır?
- 3.) Balıklar, ineklerden kaç eksiktir?
- 4.) Kuşlara kaç nesne eklersek kuşların sayısı 40 olur?

Sevilen meyveler

Kiraz	++ ++ ++ ++ ++ ++
Elma	++ ++ ++
Armut	++ ++
Muz	++ ++ ++ ++

Aşağıdaki soruları yukarıdaki tabloya göre yanıtlayınız.

- 1.) Kaç kişi elma sevmektedir?
- 2.) Muz ve kiraz sevenler toplam kaç kişidir?
- 3.) Armut sevenler 1 desteden kaç eksiktir?
- 4.) Kiraz, elma ve armut sevenler toplam kaç kişidir?

2. SINIF - EVDE EĞİTİM - MATEMATİK

Uzunluk Ölçme

Standart Olmayan Uzunluk Ölçü Birimleri

Aşağıdaki soruları yanıtlayınız.

1.) Kaleminiz kaç **parmak** uzunluğundadır?

2.) Odanızın kapısının eni kaç **kariş** uzunluğundadır?

3.) Odanızın herhangi bir duvarı kaç **kulaç** uzunluğundadır?

4.) Odanızın halısının boyu kaç **adım** uzunluğundadır?


5.) Odanızın halısının eni kaç **ayak** uzunluğundadır?

Standart Uzunluk Ölçü Birimleri

Kısaltmalar

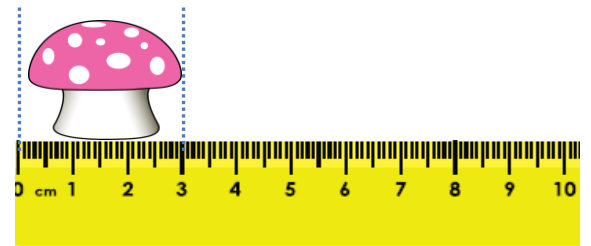
➤ Metre:

➤ Santimetre:



- Yukarıdaki çiçek resmi kaç santimetredir?

- 5 çiçek kaç santimetre eder?



- Yukarıdaki mantar resmi kaç santimetredir?


- 3 mantar kaç santimetre eder?

2. SINIF - EVDE EĞİTİM - MATEMATİK

Uzunluk Ölçme Problemleri



Yukarıdaki kalem 5 silgi uzunluğundadır. Yan yana konulan 4 kalem toplam kaç silgi uzunluğunda olur?



- Yukarıdaki yıldız resmi kaç santimetredir?

- Yukarıdaki kuş resmi kaç santimetredir?

- 6 kuş resmini üst üste koyarsak bulduğumuz uzunluk kaç santimetreye olur?



- Yukarıdaki kalem kaç santimetredir?

1.) Kerim'in 1 adımı 70 cm'dir. Ayten'in 1 adımı 55 cm'dir. Kerim'in 1 adım uzunluğu, Ayten'in 1 adım uzunluğundan kaç cm daha fazladır?



2.) Ev ile okul arası 36 m'dir. Okul ile postane arası 48 m'dir. Ev ile postane arası kaç m'dir?

2. SINIF - EVDE EĞİTİM - MATEMATİK

Tartma

Kilogram ile tartılanları işaretleyiniz.



➤ Tartı ya da terazi gibi aletlerle ağırlık değil **kütle** ölçülür.

➤ Kütle ölçü birimi **kilogram**dır. Kısaca **kg** ile gösterilir.




1.)

Her biri 25 kg olan iki un çuvalından önce 18 kg un kullanılıyor. Sonra da 21 kg un kullanılıyor. Bu durumda çuvallarda toplam kaç kg un kalmıştır?

2.) Mert 43 kg'dır. Ece, Mert'ten 19 kg daha hafiftir. Buna göre ikisi toplam kaç kg'dır?

3.) Jale 28 kg, Tahir 23 kg'dır. Can'ın kütlesi Jale ve Tahir'in kütlelerinin toplamından 9 kg fazladır. Buna göre Can kaç kg'dır?

4.) Tuna 3 kg'lık sütlerden 5 kutu, 2 kg'lık ballardan 4 kutu alıyor. Tuna toplam kaç kg ürün almıştır?



5.) Yukarıdaki teraziye göre elmalar kaç kilogramdır?