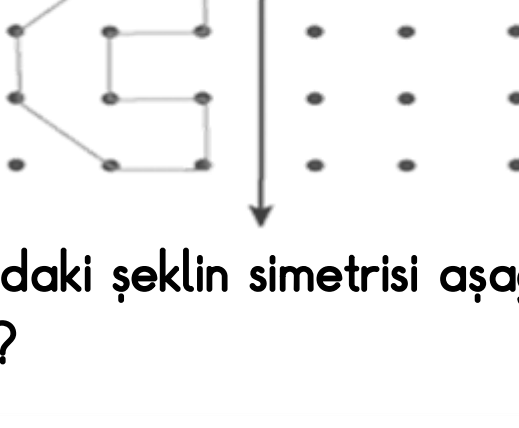






1.



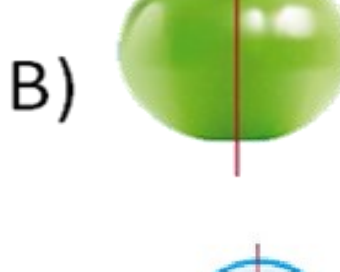
Yukarıdaki şeklin simetrisi aşağıdakilerden hangisidir?



2. Aşağıdakilerden hangisinin simetrisi doğru çizilmiştir?



3. Aşağıdaki şekillerden hangisinin simetrisi yanlış çizilmiştir?



4. Aşağıdaki harflerden hangisine hem yatay, hem de dikey simetri doğrusu çizilebilir?

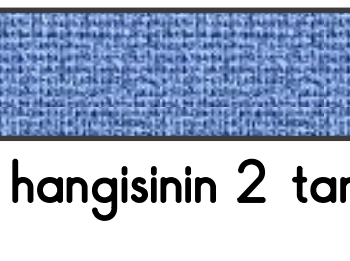
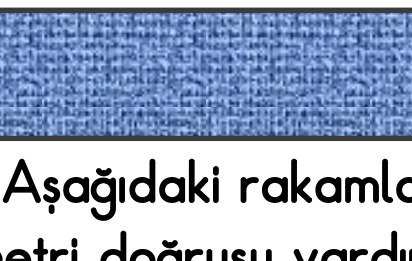
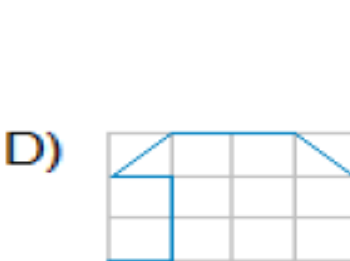
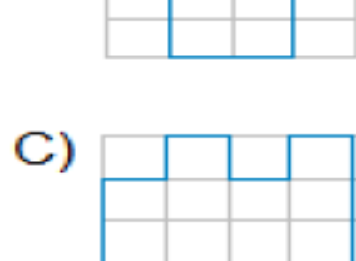
A) T

B) U

C) P

D) H

5. Aşağıdaki şekillerin hangisine simetri doğrusu çizilemez?



6. Aşağıdaki rakamlardan hangisinin 2 tane simetri doğrusu vardır?

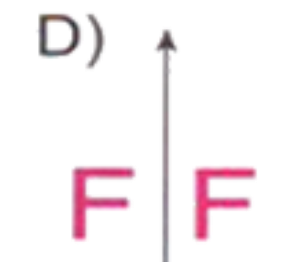
A) 8

B) 7

C) 6

D) 5

7. Aşağıdakilerden hangisi simetri değildir?



8.

M L Y T G H

Yukarıdaki harflerden kaç tanesinin simetrisi vardır?

A) 5

B) 4

C) 3

D) 2

9. Aşağıdaki harflerden hangisinin simetri doğrusu yoktur?

A) Y

B) U

C) F

D) C

10. Aşağıdakilerden hangisinin simetrisi doğru çizilmiştir?

