



1 - Kumbaramda çıkan paralar görülmektedir. Paralarımın toplamı kaç liradır ?
(8 puan)

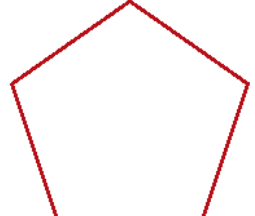


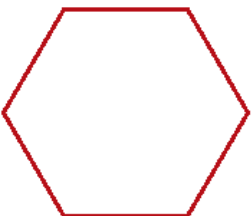


.....

2 - Sare Hülya 'nın 18 lirası vardı . Halası 25 lira okul harçlığı verdi . Sare Hülya 'nın kaç lirası oldu ? (10 puan)

3 - Alican 'ın 3 tane 5 lirası ; Kıvanç 'ın bir tane 10 lirası ile 8 tane 1 lirası var . Alican ile Kıvanç 'ın paraları toplamı kaç liradır ? (12 puan)

4 - Aşağıdaki şekillerin yarısını boyayınız .(8 puan)



MATEMATİK DEĞERLENDİRME SORULARI

5 - 3 bütün kaç yarım eder ? Şekil çizerek gösteriniz .(10 puan)

6 - 12 tane yarım kurabiye kaç bütün eder ? Şekil çizerek gösteriniz .
(10 puan)

7 - Biz 6 kişilik bir aileyiz. Bir günde ; biz çocuklar yarımşar ekmek , annem ile babam birer ekmek tüketmektedir. Gün içerisinde bizim ailede kaç tane ekmek tüketmekteyiz ? Şekil çizerek gösteriniz . (12 puan)

8 - Aşağıdaki saatlerin okunuşlarını yazınız. (9 puan)



Saat :



Saat :



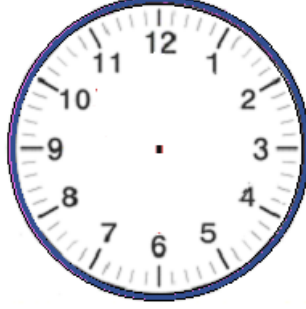
Saat :

MATEMATİK DEĞERLENDİRME SORULARI

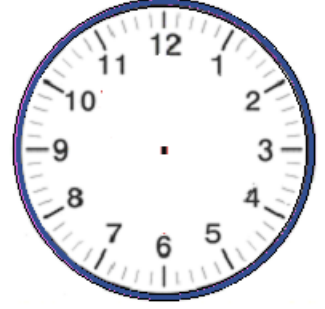
9 - Okunuşları verilen saatlerin , akrep ve yelkovanlarını çiziniz . (9 puan)



Saat : 03.30



Saat : 04.00



Saat : 08.30

10 - Aşağıdaki tablo üzerinde günleri yazarak boşlukları doldurunuz .(6 puan)

Dün	Bugün	Yarın
... Mart Mart	5 Mart Perşembe
16 Mart Pazartesi	... Mart Mart
... Mart	21 Mart Cumartesi	... Mart

11 - Aylarla ilgili sorulardaki boşlukları doldurunuz . (6 puan)

* Yılın ilk ayı :

* Yılın son ayı :

* Yılın 7. ayı :

* Yılın 10. ayı :

* Nisan , yılın kaçınıcı ayı :

* Eylül , yılın kaçınıcı ayı :