


GRAFİK OKUMA SORULARI (Hayvanlar Alemi)



timsah penguen kaplan kelebek

Not: Her şekil 5 hayvanı göstermektedir.

Grafiğe göre en az olan hayvan hangisidir?

Grafiğe göre kaç tane timsah vardır?

Grafiğe göre kelebek ve penguen sayıları toplamı kaçtır?

Grafiğe göre penguen ve kaplan sayıları farkı kaçtır?

Grafiğe göre kelebek ve kaplan sayıları farkı kaçtır?

SAATLER (ÖĞLEDEN ÖNCE - ÖĞLEDEN SONRA)

Saatlerin kaç gösterdiğini öğleden önce ve sonra olma durumlarına göre yazınız.



Öğleden Sonra



Öğleden Önce



Öğleden Önce



Öğleden Sonra



Öğleden Sonra



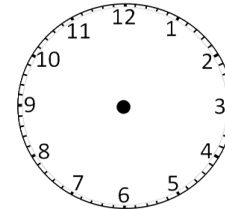
Öğleden Sonra

ŞEKLİ SUDOKULAR (Seviye 3)

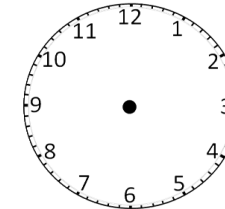
Çember, üçgen, kare ve dikdörtgen şekillerini; her satır, sütun ve koyu renkli alanlara, benzerleri olmayacak şekilde yerleştiriniz.

AKREP VE YELKOVANI ÇİZELİM

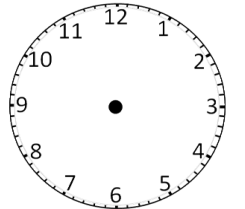
Akrep ve yelkovanı belirtilen saatlere uygun şekilde çizin.



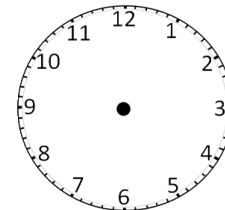
14.00



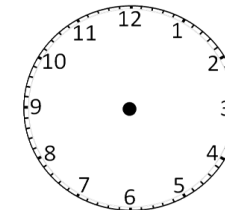
21.45



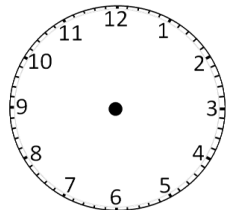
17.00



00.15



21.15



11.15