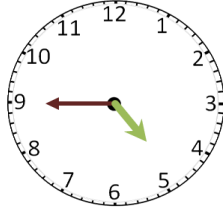
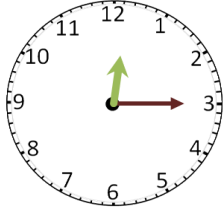
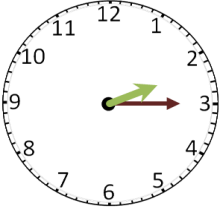
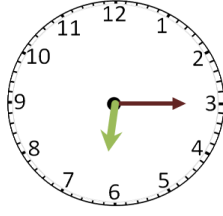
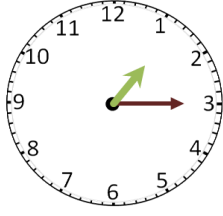
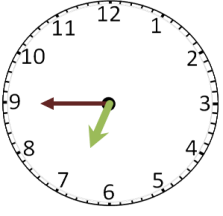


ÇEYREK SAATLER

Noktalı alanları "çeyrek var", "çeyrek geçiyor" ifadelerini kullanarak doldurun.



ZAMAN ÖLÇME BİRİMLERİ

Bir ay gündür.

Nisan ayı gündür.

Bir yıl aydır.

Okullar ayında açılır.

Bir yıl haftadır.

Cumhuriyet Bayramı ayında kutlanır.

Bir saat dakikadır.

Yaz mevsimi ayları
..... ve aylarıdır.

Okullar mevsiminde açılır.

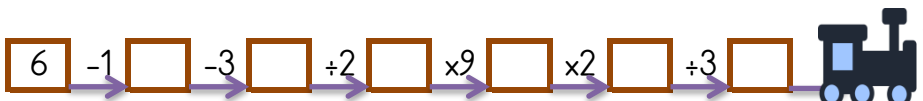
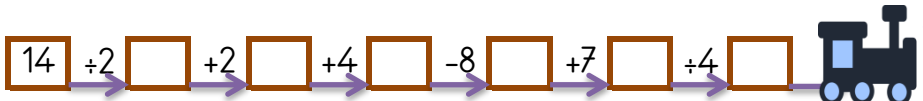
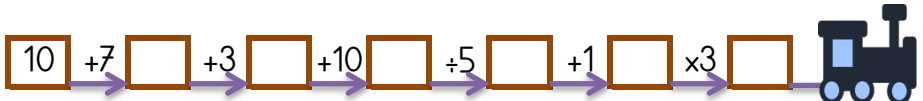
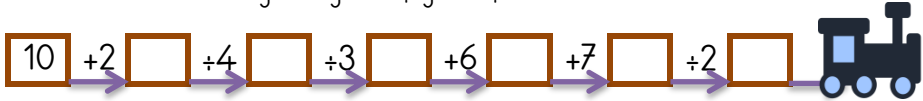
Yılın 9. ayı aydır.

Atatürk'ü Anma, Gençlik ve Spor Bayramı ayında kutlanır.

Mart ayı, yılın kaçınıcı aydır?

VAGONLARI DOLDUR (DÖRT İŞLEM)

Son vagona verilen sayıdan başlayıp verilen işlemleri yaparak bütün vagonları doldurabilir misin? Her trende son bulduğun vagonu aşağıdan işaretlemelisin.



EŞİTLİK - 2

Eşitliklerde verilmeyen sayıları bulunuz.



$$13 - 6 = \dots - 10$$

$$\dots - 3 = 18 - 7$$

$$8 + 8 = 19 - \dots$$

$$15 - \dots = 12 - 10$$

$$18 + 7 = 12 + \dots$$

$$17 - 3 = 15 - \dots$$

$$\dots - 2 = 4 + 11$$

$$10 - 5 = \dots + 3$$

$$\dots + 1 = 3 + 6$$

$$19 - 1 = 8 + \dots$$