

ADI SOYADI:

TÜRKÇE



Kahverengi Ayıcık okula gitmek için annesiyle vedalaşarak, yaşadığı mağaradan çıktı. Çıkarken annesi: "Çok dikkatli ol. Yolda oyalanmadan çabucak okuluna git." dedi. Kahverengi Ayıcık: "Tabi ki anneciğim, sen merak etme." deyip yola koyuldu.

Okula giderken havada

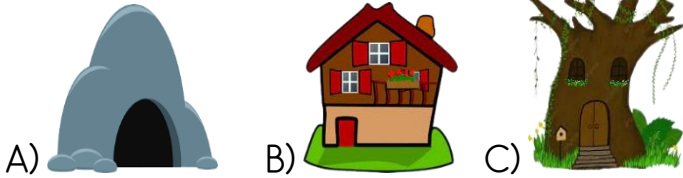
uçuşan kelekleri görüp peşlerinden koşmaya başladı. Peşlerinden koşarken ormanın içlerine geldiğini farketmemişti. Ormanı bilmediği için kaybolmuştu. Korkudan koşmaya başladı. Ayağı takılıp düşünce bayılmıştı. Gözlerini açtığında daha da korkmuştu. Hiç tanımadığı bir kız gülümseyerek ona bakıyordu. "Korkma, benim adım Meryem. Seni bulduğumda yaralıydın. Seni evime getirip, tedavi ettirdim." dedi. Meryem'in iyi bir insan olduğunu anlayınca rahatladı. Annesi gelince sözünü dinlemediği için mahcup bir şekilde ondan özür diledi.

Meryem'e hediye olarak çok sevdiği baldan getirdi. Kahverengi Ayıcık ile Meryem iyi bir arkadaş oldular.

Berra SERBEST

(İlk dört soruyu metne göre cevaplayınız.)

1-Kahverengi Ayıcık ailesiyle nerede yaşıyormuş?



2-Kahverengi Ayıcık annesine ne yapacağına söz verdi?

- A) Okulda derslerimi dikkatli dinleyeceğim.
- B) Okula oyalanmadan gideceğim.
- C) Okulda sağlıklı gıdalar yiyeceğim.

3- Kahverengi Ayıcık, Meryem'e yardımlarından dolayı ne hediye etmiş?

- A) çiçek
- B) meyve
- C) bal

4- Yukarıdaki metnin konusu aşağıdakilerden hangisidir?

- A) Kahverengi Ayı'nın oyalanması
- B) Kahverengi Ayı ile Meryem'in arkadaşlığı
- C) Kahverengi Ayı'nın okuldaki başarısı

1.				
2.				
3.				
4.				
5.				

Üzüm

Petek

Kapı

Reçel

Ördek

5-Yukarıdaki sözcükler alfabe sırasına göre sıralandığında renkli bölümde hangi kelime ortaya çıkar?

- A) KÖPEK
- B) KÖPRÜ
- C) KÜREK

6-Aşağıdaki cümlelerin hangisinde zıt anlamlı kelimeler kullanılmamıştır?

- A) Toplama ileri, çıkarma geriye doğru saymadır.
- B) Cesurlar kazanır, korkaklar kaybeder.
- C) Evdeki görevimiz ile okuldaki vazifemiz farklı.



7-Yandaki görselin adını oluşturan harf ve hece sayısını hangi seçenekte doğru olarak gösterilmiştir?

	Harf sayısı	Hece sayısı
A)	6	3
B)	6	2
C)	7	1

Kuzenim Eyüp(...)le beraber dedemin çiftliğinde gezerken inek(...)koyun ve tavukları gördük(...)Eyüp aniden köpeği görünce: "Eyhah, köpek var(...)" diye bağırды.

8-Yukarıdaki ifadelerle göre noktalı yerlere sırasıyla hangi noktalama işaretleri gelmelidir?

- A) . ! . ' B) ' , . ! C) , . ! '

Dün gece rüyamda yeni bir oyuncak aldım.

9-Yukarıdaki cümlede altı çizili kelimenin yerine aşağıdaki kelimelerden hangisi yazılabilir?

- A) düş
- B) pazar
- C) armağan



10-Yandaki görsele bakarak aşağıdaki kelime çiftlerinden hangisini söyleyebiliriz?

- A) öğrenci-talebe
- B) büyük-küçük
- C) güzel-çirkin

- 1- Biletleri alıp filmi izledik.
 - 2- Hazırlanıp, arabaya bindik.
 - 3- Ailece sinemaya gitmeye karar verdik.
 - 4- Film gerçekten muhteşemdi!
- 11-Yukarıdaki ifadeler olayların oluş sırasına göre sıralaması aşağıdakilerden hangisidir?
A)1-3-2-4 B)3-2-1-4 C)2-1-4-3

- 12- Aşağıdaki cümlelerin hangisinde büyük harflerin yazımıyla ilgili bir **yanlışlık** yapılmıştır?
A) 29 Ekim, 23 Nisan, 19 Mayıs ve 30 Ağustos önemli milli günlerdir.
B)Okulumuz Üçevler Mahallesinde bulunmakta.
C) Bu hafta seyt onbaşı parçasını işleyeceğiz.

Nasrettin Hoca ,bir yaz gecesi geç saatte yürüyormuş.

Hocayı gören bekçi:

-Hoca bu saatte ne arıyorsun, diye sormuş.

Nasrettin Hoca, bu soruya şöyle cevap vermiş:

-Uykum kaçtı da onu arıyorum.



- 13-Yukarıdaki metinde aşağıdaki hikaye unsurlarından hangisi **yoktur**?

- A) Kahraman B) zaman C)yer

1-Heceleri dikkatli say.	2-Çevremizi temiz tutmalıyız.
3-Arda bizi özledi mi?	4-Elimi yüzümü yıkadım.

- 14-Yukarıdaki cümlelerden hangilerinin hece sayısı aynıdır?

- A)1 - 2 B)1 - 3 C)2 - 4

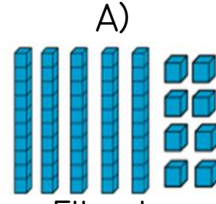
çocukların	aile	vermelidir	değer	görüşüne
1	2	3	4	5

- 15-Numaralanmış sözcüklerle anlamlı ve kurallı bir cümle oluşturulduğunda sıralama aşağıdakilerden hangisi olur?

- A)2-1-5-4-3 B)2-4-3-1-5 C)1-5-4-3-2

MATEMATİK

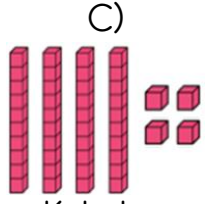
- 1-Aşağıda onluk taban bloklarıyla gösterilen sayılardan hangisinin okunuşu yanlıştır?



Elli sekiz



Yirmi sekiz



Kırk dört

- 2-Mete, her birinde 30 tane çikolata olan iki kutu getiriyor. Öğretmenimiz çikolataların 33 tanesini öğrencilerine dağıttı. Geriye kaç tane çikolata kalmıştır?

A)27

B)24

C)46

8 onluk + 5 birlik

- 5 onluk + 3 birlik

- 3-Yukarıda verilen çıkarma işleminin sonucu kaçtır?

A) 35

B) 32

C) 38



4-Ben 9 yaşındayım. Babam ben-den 26 yaş daha büyük olduğuna göre benimle babamın yaşları toplamı kaçtır?

A)44

B)40

C)36



1.kova



2.kova

- 5- 1.sepette 6 deste elma, 2. sepette ise 3 düzine elma bulunmaktadır. Buna göre 1.sepetteki elmalar 2.sepetteki elmalardan kaç tane fazladır?

A)24

B)36

C)18

- İşil'in sayısı 4 düzinenin 10 fazlasıdır.
- Eylül'ün sayısının en yakın onluğu 90'dır.
- Tesnim,6 birlik 3onluktan oluşan sayıyı tutuyor.



6-Yukarıdaki ipuçlarından yararlanarak çocukların isimlerini sırasıyla yazdığımızda sıralama nasıl olur?

- A) Eylül-Tesnim-İşil B) Tesnim-İşil-Eylül
C) İşil - Eylül - Tesnim

7- 70 sayısına yuvarlanabilen en büyük ve en küçük sayılar aşağıdakilerden hangisidir?

- A)65 - 74 B)69 - 71
C)66 - 75



8- Aşağıdaki sayılardan hangisinin basamak değerleri doğru gösterilmiştir?

- A) $\begin{array}{c} 56 \\ \swarrow \searrow \\ 50 \quad 6 \end{array}$ B) $\begin{array}{c} 16 \\ \swarrow \searrow \\ 1 \quad 6 \end{array}$ C) $\begin{array}{c} 72 \\ \swarrow \searrow \\ 7 \quad 20 \end{array}$

9-Enes, bahçeden topladığı 78 cevizin 15 tanesini Esmaya, 23 tanesini de Yusuf abisine verdi. Enes'in geriye kaç ceviz kaldı?

- A) 20
B) 35
C) 40

●	41 - 43 - 45 - 47 - 49
☾	18 - 22 - 26 - 30 - 34
★	52 - 56 - 60 - 64 - 68
■	60 - 63 - 66 - 69 - 82

10-Yukarıdaki örüntülerden hangilerinin kuralı aynıdır?

- A) ● ★ B) ☾ ★ C) ☾ ●

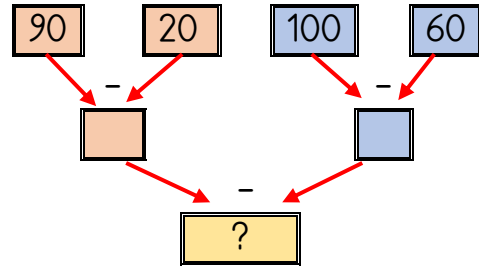
11- 2/H sınıfında 33 öğrenci bulunmaktadır. Sınıftaki öğrencilerin 17'si kız olduğuna göre erkek öğrenci sayısı kaçtır?

- A)14
B)16
C)18

$$\begin{array}{c} \triangle + 45 = 79 \\ 11 + \star = 65 \end{array}$$

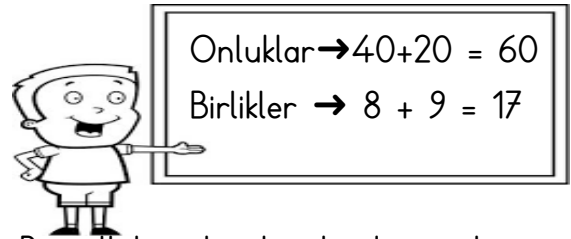
12- Tablodaki işlemlere göre $\triangle - \star$ işleminin farkı kaçtır?

- A)10
B)20
C)30



13-Yukarıdaki çıkarma işlemlerini, okları takip ederek zihninizden yaptığımızda ? yerine hangi sayı yazılmalıdır?

- A)20 B)30 C)40



14-Beytullah, tahtada zihinden toplama işlemini yapıyor. Yukarıdaki işleme göre aşağıdakilerden hangisini zihinden toplamıştır?

- A) 75 + 37 B) 48 + 29
C) 29 + 46

$$72 + 16$$

15- Yandaki toplama işleminin, gerçek ve tahmini işlem arasındaki fark kaçtır?

- A)2
B)4
C)6

HAYAT BİLGİSİ



Benim ay yüzlü, beyaz saçlı, tombiş bir babaannem var. Babaannem özellikle torunlarını ve onlara börek yapmayı çok sever.

1- Yukarıdaki metinde aşağıdaki özelliklerden hangisi **yoktur**?

- A) yetenek B) ilgi C) fiziksel özellik



Bu ay elektrik, doğal gaz ve su faturaları gereğinden fazla geldi. Bundan böyle evdeki kaynakların kullanımında yapmalıyız.'

2-Elif'in babası, aile üyelerine faturaların daha az gelmesi için aşağıdakilerden hangisinin yapılmasını istemiştir?

- A) cimrilik B)israf C)tasarruf

Ailece salonda toplanıp, hafta sonu yapılacak eğlence için benim de fikrimi sordular. Bende aileme fikirlerimi söyledim. Sonra hep beraber ortak karar aldık. Çünkü biz ailece bir aileyiz.

3-Metindeki aile için aşağıdakilerden hangisini söyleyebiliriz?

- A) demokratik B) ilgili C) kararlı



Evlilik yoluyla akrabamız olan amcam ve dayımın eşine , halam ve teyzemin eşine diyoruz.

4-Yukarıdaki ifadenin anlamına uygun olarak noktalı yerlere sırasıyla hangi kelimeler yazılmalıdır?

- A) elti , enişte B) yenge , enişte
C) enişte , yenge

5-Aşağıdaki cümlelerden hangisi 2.sınıfa giden tüm öğrenciler için doğrudur?

- A) Öğrencilerin yetenekleri aynıdır.
B) Öğrencilerin fiziksel özellikleri aynıdır.
C) Öğrencilerin sınıfları aynıdır.

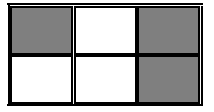
6-Aşağıdakilerden hangisi evde yapmamız gereken sorumluluklardan biri **değildir**?

- A) Parmak kaldırmadan konuşmamak.
B) Okul çantasını programa göre hazırlamak.
C) Oynadıktan sonra oyuncakları toplamak.

Amca	Dayı	Anneanne
Hala	Babaanne	teyze

7-Tablodaki akrabalardan **baba tarafından** tarafı olanlar boyanırsa tablo nasıl görünür?

- A) B) C)



8- Aşağıdakilerden hangisi oyun oynarken dikkat etmemiz gereken durumlardan biri **değildir**?

- A) Belirlenen kurallara uymak.
B) Kaybedeni teselli etmemek.
C) Hile yapmayı uyarmak.

1. Cadde ismi	2. Mahalle . adı	3. Bina adı
4. Evin . numarası	5. İl /İlçe adı	6. Sokak adı

9-Kerem, arkadaşı Arda'ya mektup yazdı. Zarfın üzerine sırasıyla hangi yer adlarını yazmalıdır?

- A)2-1-6-3-4-5 B)5-3-2-4-1-6
C)2-3-1-6-5-4

10-Adresimi ve büyüklerimin telefon numara larını ezbere bilmek, hangi durumda işimize **yaramaz**?

- A) Acil durumlarda B) Güvenlik olaylarında
C) Takım oyunlarında

Başarılar...