

ADI SOYADI:

Sayıların okunuşunu yazalım

357

601

195

834

220

Sayıların okunuşunu yazalım.

Dört yüz kırk sekiz

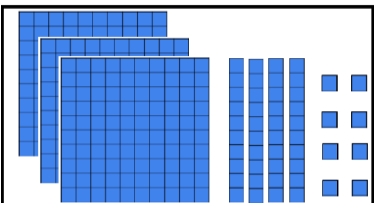
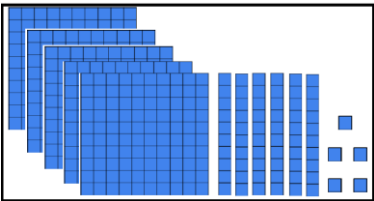
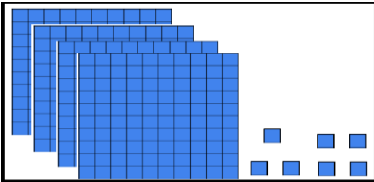

Altı yüz doksan bir

Yüz elli

Üç yüz yetmiş beş

Sekiz yüz seksen iki

Sayıları yazalım.



MINİ TEST

"Dokuz yüz yirmi beş" okunuşu verilen sayı hangisidir?

A) 952

B) 925

C) 920


412	Dört yüz on iki.
505	Beş yüz beş
371	Üç yüz yetmiş

Yukarıdaki ifadelere doğruysa "D" harfi, yanlışsa "Y" harfi yazıldığında ,hangi seçenekteki sıralamaya ulaşırsınız?

A) DDY

B) YYD

C) DYY



Yukarıdaki modellenen sayı hangisidir?

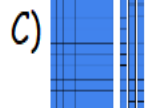
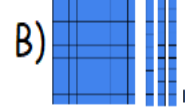
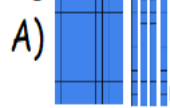
A) 212

B) 222

C) 223

yüz kırk bir

Yukarıdaki sayı hangi seçenekte gösterilmiştir?



14	21	49
77	84	64
28	56	91

Yukarıdaki tabloda yedışer ritmik saymada söylenmeyen sayı hangi renktedir?

A) beyaz

B) pembe

C) mor

Altışar ritmik saymada söylediğimiz sayıları boyayalım.

1	2	3	4	5	6	7	8	9	10
11	12	13	14	15	16	17	18	19	20
21	22	23	24	25	26	27	28	29	30
31	32	33	34	35	36	37	38	39	40
41	42	43	44	45	46	47	48	49	50
51	52	53	54	55	56	57	58	59	60
61	62	63	64	65	66	67	68	69	70
71	72	73	74	75	76	77	78	79	80
81	82	83	84	85	86	87	88	89	90
91	92	93	94	95	96	97	98	99	100

Verilen sayıyla başlayarak ilerleyelim.

3. SINIF MATEMATİK 1

Beşer	55								
Altışar	42								
Yedişer	28								
Sekizer	16								
Dokuzar	9								
Onar	10								

Yedişer ritmik saymada söylediğimiz sayıları boyayalım.

1	2	3	4	5	6	7	8	9	10
11	12	13	14	15	16	17	18	19	20
21	22	23	24	25	26	27	28	29	30
31	32	33	34	35	36	37	38	39	40
41	42	43	44	45	46	47	48	49	50
51	52	53	54	55	56	57	58	59	60
61	62	63	64	65	66	67	68	69	70
71	72	73	74	75	76	77	78	79	80
81	82	83	84	85	86	87	88	89	90
91	92	93	94	95	96	97	98	99	100

Sekizer ritmik saymada söylediğimiz sayıları boyayalım.

1	2	3	4	5	6	7	8	9	10
11	12	13	14	15	16	17	18	19	20
21	22	23	24	25	26	27	28	29	30
31	32	33	34	35	36	37	38	39	40
41	42	43	44	45	46	47	48	49	50
51	52	53	54	55	56	57	58	59	60
61	62	63	64	65	66	67	68	69	70
71	72	73	74	75	76	77	78	79	80
81	82	83	84	85	86	87	88	89	90
91	92	93	94	95	96	97	98	99	100

Dokuzar ritmik saymada söylediğimiz sayıları boyayalım.

1	2	3	4	5	6	7	8	9	10
11	12	13	14	15	16	17	18	19	20
21	22	23	24	25	26	27	28	29	30
31	32	33	34	35	36	37	38	39	40
41	42	43	44	45	46	47	48	49	50
51	52	53	54	55	56	57	58	59	60
61	62	63	64	65	66	67	68	69	70
71	72	73	74	75	76	77	78	79	80
81	82	83	84	85	86	87	88	89	90
91	92	93	94	95	96	97	98	99	100

Noktalı yerlere gelecek rakamları yazalım.

...6...	Dört yüz altmış yedi
5...2	Beş yüz iki
...1...	Dokuz yüz on sekiz
1...5	Yüz kırk beş
...3...	Sekiz yüz otuz üç
2...4	İki yüz doksan dört
...5...	Altı yüz elli

Çözümlemiş sayıları yazalım.

230	2 yüzlük + 3 onluk
	5 birlik + 6 yüzlük + 1 onluk
	8 onluk + 3 yüzlük
	9 birlik + 4 yüzlük
	700 + 50 + 3
	8 + 800 + 20
	10 + 100 + 9

Verilen rakamlarla oluşturulan sayıları yazalım.

9	1	6
---	---	---

Üç basamaklı en büyük sayı ⇒

Üç basamaklı en büyük sayı ⇒

0	4	5
---	---	---

Üç basamaklı en büyük sayı ⇒

Üç basamaklı en büyük sayı ⇒

1	3	8
---	---	---

Üç basamaklı en büyük sayı ⇒

Üç basamaklı en büyük sayı ⇒

2	7	0
---	---	---

Üç basamaklı en büyük sayı ⇒

Üç basamaklı en büyük sayı ⇒

Görsellerle oluşturulan sayıları yazalım.

