



3. Sınıf Deneme Sınavı

-6-

123

ADI : _____
SOYADI : _____
SINIFI : _____
NO : _____
OKULU : _____



2018
Mayıs

Muhammet ÖZENÇ
Salih ÖZENÇ

3. SINIFLAR DENEME SINAVI

TÜRKÇE

1) "Salonda bulunan kırmızı koltuğun altında üç boncuk var. Bu boncukların hepsi mavi renklidir."

Yukarıdaki cümlede boncukları sayı açısından ifade eden kelime hangisidir?

- A) kırmızı B) üç
C) bu D) mavi

Ahmet()in çantasında kalem ()
cetvel var () Acaba boyaları da
var mı ()

2) Yukarıdaki anlatımda boşluklara hangi
noktalama işaretleri gelmelidir?

- A) ' . , .
B) , , . ?
C) ' , . ?
D) ' , ! ?



Ali

Benim kedim en çok dört ayaklı,
sırt tarafına yaslanılabilen ve
ayaklarında tekerlek olan bir oturma
eşyasında uyumayı çok seviyor.

3) Ali' nin kedisi hangisinde uyumayı çok
seviyordür?

- A) B) C) D)

4) " Dedem bahçede çukur kazıyor. "

Aşağıdaki cümlelerden hangisi yukarıdaki
cümledeki altı çizili kelime ile eş sesli bir cümle
oluşturmuştur?

- A) Babam fidan dikmek için çukur kazdı.
B) Komşumuz toprağı kazdı.
C) Dayımlar su kuyusu kazıyorlar.
D) Gölde kazlar yüzüyor.

karanlık

koyun

kalem

kelebek

5) Yukarıdaki kelimeler sözlük sırasına göre
sıralandığında hangisi en önce gelir?

- A) kelebek B) kalem
C) karanlık D) koyun

6) Aşağıdaki cümlelerden hangisinde abartılı
bir ifade kullanılmamıştır?

- A) Ahmet, binlerce bilmece biliyor.
B) Oyun oynayınca çok mutlu oluyorum.
C) Dev gibi bir köpek.
D) Dedem bin yaşında.

Göz

Görme duyu organımızdır.

7) Aşağıdakilerden hangisinde göz kelimesine
getirilen ek yukarıdaki anlamın değişmesine
neden olmuştur?

- A) Gözlerimizin sağlığına dikkat etmeliyiz.
B) Defne gözlük kullanıyor.
C) Selim' in gözleri mavi renklidir.
D) Ayşe' nin gözleri sulandı.

3. SINIFLAR DENEME SINAVI



8) Yukarıdaki yazılan kelimelerin eş anlamlıları hangi seçenekte doğru verilmiştir?

Fakir	Sınıf	Öğretmen	Kafa
A) yoksul	derslik	talebe	baş
B) zengin	derslik	muallim	baş
C) yoksul	derslik	muallim	baş
D) yoksul	okul	muallim	ayak

yaz	yüzme	tatilinde
gideceğim	Gelecek	kursuna

9) Yukarıda karışık verilen kelimeler hangi seçenekte düzgün bir cümle oluşturmuştur?

- A) Gelecek yaz tatilinde yüzme kursuna gideceğim.
B) Yaz tatilinde yüzme kursuna gideceğim.
C) Gelecek yaz yüzme kursuna gideceğim.
D) Gideceğim yüzme kursuna gelecek tatilinde.



Öğretmenimizin dediğine göre, büyük balıklar derin sularda yaşarmış.

Zeynep

10) Zeynep' in cümlesindeki altı çizili olan kelimelerin zıt anlamlıları hangi seçenekte doğru verilmiştir?

- A) Ulu - Sığ B) Küçük - Sığ
C) Küçük - Tenha D) Küçük - Çok

11) Aşağıdaki kelimelerden hangisinin yazımında yanlışlık yapılmamıştır?

- A) ahmet' in B) kirbit
C) pantolon D) picama

KÜÇÜK LIMON AĞACI

Büyük bir portakal bahçesinin kenarında, yolun hemen yanı başında, tek başına bir limon ağacıydı o. Daha dikileli beş yıl olmuştu. Bu sene baharın gelmesiyle ilk çiçeklerini açmıştı. Çiçekleri çok güzel kokuyordu. Kendi kendine bu kadar güzel kokan çiçeklerin çok tatlı meyveleri olacağını düşünüyordu. Çevresindeki portakal ağaçları ondan daha büyüklerdi. Hep tatlı meyvelerinden bahsediyorlar ve bunu gururla anlatıyorlardı. Bizim küçük limon ağacı da kendi meyvelerinin de tıpkı onların meyveleri gibi tatlı olacağını düşünüyordu.

Bahçenin sahibi bu limon ağacına çok özen gösteriyor ve onunla daha çok ilgileniyordu. Çünkü onu yaşlı annesi için dikmişti. Limon meyvesi bir çok rahatsızlığa iyi geliyormuş. Ondan toplayacağı limonları yaşlı annesine götürecekmış.

12.-13.-14. ve 15. soruları yukarıdaki metne göre cevaplayınız.

12) Limon ağacı meyvelerinin nasıl olacağını düşünüyormuş?

- A) Tatlı olacağını. B) Acı olacağını
C) Ekşi olacağını D) Çok olacağını

13) Bahçe sahibi limon ağacını neden dikmiş?

- A) Para kazanmak için dikmiş.
B) Yaşlı annesi için dikmiş.
C) Çok sevdiği için dikmiş.
D) Tarla boş kalmasın diye dikmiş.

14) Bu metinde anlatılanlar hangi mevsimde geçiyor olabilir?

- A) Kış B) Yaz
C) İlkbahar D) Sonbahar

15) Limon ağacı kaç yaşındadır?

- A) 2 B) 3 C) 4 D) 5

3. SINIFLAR DENEME SINAVI

MATEMATİK

1) Aşağıdaki işlemlerden hangisinin sonucu tek sayıdır?

A) $\begin{array}{r} 468 \\ +346 \\ \hline \end{array}$

B) $\begin{array}{r} 837 \\ -255 \\ \hline \end{array}$

C) $\begin{array}{r} 342 \\ \times 3 \\ \hline \end{array}$

D) $\begin{array}{r} 87 \\ \times 3 \\ \hline \end{array}$

2) Bir terzi elinde bulunan 14 m kumaşın, 200 cm si ile etek ve kalanın 300 cm si ile de gömlek dikiyor. Terzinin elinde kaç metre kumaş kalmıştır?

A) 500 m

B) 10 m

C) 9 m

D) 500 cm



3) Dikdörtgen şeklindeki bir parkın kısa kenarı 25 m , uzun kenarı ise kısa kenarından 10 m fazladır. Bu parkın çevresinde iki tur koşan birisi kaç metre koşu yapmış olur?

A) 35 m

B) 240 m

C) 140 m

D) 70 m

4)  = 489 TL  = 499 TL

Babam bana bir bisiklet ile bir tablet aldı.

Babam toplam kaç TL para harcamıştır?

A) 988 TL

B) 888 TL

C) 978 TL

D) 998 TL

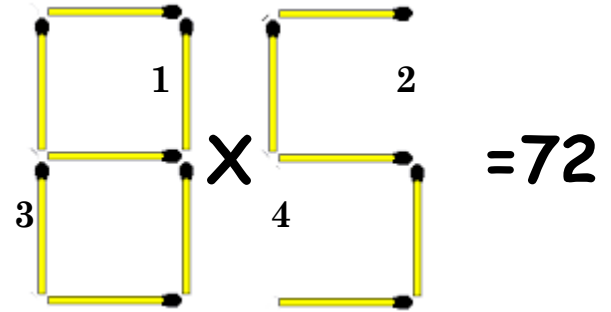
5) Ahmet 7 yaşındadır. Babası ise Ahmet' in yaşının 4 katının 5 fazlası yaşıdır. Ahmet ile babasının yaşları toplamı kaçtır?

A) 16

B) 33

C) 35

D) 40




6) Yukarıdaki işlemin doğru olabilmesi için aşağıdakilerden hangisinin yapılması gerekmektedir?

A) 1 numaralı kibriti kaldırmak gerekir.

B) 2 numaralı yere kibrit eklemek gerekir.

C) 3 numaralı kibriti kaldırmak gerekir.

D) 4 numaralı yere kibrit eklemek gerekir.



7) Yukarıdakilerden hangileri simetrikdir?

A) 5 ve 10

B) 10 ve 15

C) 5 ve 15


D) 15 ve 20

3. SINIFLAR DENEME SINAVI



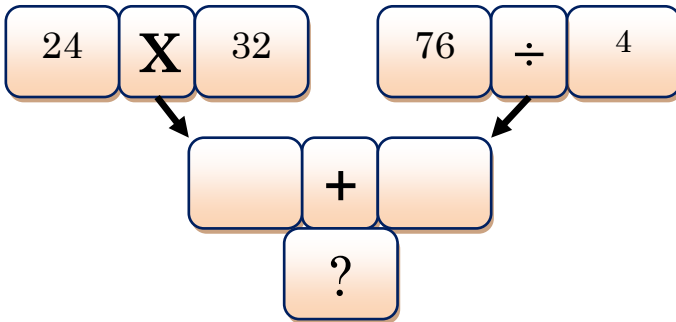
- 8) Her biri 27 kilo olan iki teneke zeytin yağının tamamı 3' er kiloluk bidonlara konulacaktır. Kaç tane bidona ihtiyaç vardır?
- A) 54 B) 30
C) 57 D) 18

- 9) 45' in $\frac{1}{3}$ 'ü kaç eder?
- A) 135 B) 48
C) 15 D) 10



- 10) Yukarıdaki şeklin boyalı alanının kesirli ifadesi hangisidir?

- A) $\frac{3}{5}$ B) $\frac{5}{12}$ C) $\frac{3}{12}$ D) $\frac{7}{12}$



- 11) Soru işaretli yere hangi sayı yazılmalıdır?
- A) 787 B) 768 C) 19 D) 778



- 12) Yukarıdaki saat kaç göstermektedir?
- A) 11 : 00 B) 11 : 05
C) 11 : 50 D) 11 : 01



- 13) Yukarıdaki pastanın $\frac{2}{10}$ 'unu Ali , $\frac{3}{10}$ 'nu Ayşe ve $\frac{5}{10}$ 'nu Ahmet yemiştirler. Bu pastadan en çok kim yemiştir?
- A) Ali B) Ayşe
C) Ahmet D) Ali ve Ayşe eşit yemiş

HEDİYELER	
Araba	
Top	
Kitap	

NOT: Her şekil 2 nesneyi göstermektedir.

- 14) Yukarıdaki tablodaki bilgilere göre, aşağıdaki seçeneklerdeki bilgilerden hangisi doğru değildir?

- A) En çok top hediye edilmiştir.
B) En az kitap hediye edilmiştir.
C) Sekiz tane araba hediye edilmiştir.
D) Yedi tane top hediye edilmiştir.

144	369	578	951
-----	-----	-----	-----

- 15) Yukarıdaki sayılardan hangileri çift sayılardır?
- A) 144 ve 369 B) 369 ve 951
C) 578 ve 951 D) 144 ve 578

3. SINIFLAR DENEME SINAVI

HAYAT BİLGİSİ



- 1) Aşağıdakilerden hangisi M. Kemal ATATÜRK' ün liderlik özelliklerinden biri değildir?
- A) İleri görüşlü olması.
B) İnsanları sever ve adaletli davranırdı.
C) Sabırlı ve cesaretli, güçlükler karşısında yılmazdı.
D) Plansız ve düzensiz çalışırdı.

Bayrağımız kendine özgü şekli ve sembolleriyle bağımsızlığımızın simgesidir.

- 2) Aşağıdakilerden hangisi bayrağımızın özelliklerinden biri değildir?
- A) Üzerinde ay ve yıldız vardır.
B) Kırmızı rengini şehitlerimizin kanından alır.
C) Beyaz zemin üstüne kırmızı ay ve yıldızdan oluşur.
D) Kırmızı zemin üstüne beyaz ay ve yıldızdan oluşur.
- 3) Aşağıdakilerden hangisi milli bayramlarımızdan biri değildir?
- A) Cumhuriyet Bayramı
B) Ramazan Bayramı
C) Zafer Bayramı
D) Atatürk'ü Anma Gençlik ve Spor Bayramı

Perşembe	Cuma	C. tesi	Pazar

- 4) Yukarıdaki tabloya göre bir balıkçı hangi gün denize açılması en uygun olur?
- A) Perşembe
B) Cuma
C) Cumartesi
D) Pazar



Benim babamın elinde makası vardır ama kumaş kesmez, o insanların görünüşlerine şekil verir.

Murat

- 5) Murat' ın babasının mesleği hangisi olabilir?
- A) Berber
B) Terzi
C) Kasap
D) Bahçıvan



Sabah evden çıkarken en sevdiğim oyuncuğımın üstüne basıp onu kırdım. Bu durum beni çok üzdü.

Can

- 6) Can' ın mutlu olmasının nedeni aşağıdakilerden hangisi olabilir?
- A) Kalemmini kaybetmesi
B) Gömleğinin yırtılması
C) Defterinin üstüne ayan dökülmesi
D) Sınavından yüksek not alması

- 7) Aşağıdakilerden hangisi kesinlikle değişmez?
- A) Boy uzunluğu
B) Kilomuz
C) Yaşımız
D) Parmak izimiz

- 8) Aşağıdakilerden hangisi 3. sınıfa giden bir çocuğun yapması gereken bir görev değildir?
- A) Kitap okumak.
B) Araba kullanmak
C) Kendi odasını toplamak.
D) Büyüklerine yardımcı olmak

3. SINIFLAR DENEME SINAVI

- I. Ülkemiz yedi bölgeye ayrılmıştır.
II. Batı Anadolu da bir bölgemizdir.
III. Ülkemizin başkenti Ankara' dır
IV. Mavi Deniz ülkemizi çevreleyen denizlerden biridir.

9) Yukarıdaki bilgilerden hangileri doğru değildir?

- A) I ve II
B) II ve III
C) II ve IV
D) III ve IV



Melis

10) Melis' in, öğretmeninin sorusunu doğru cevaplayabilmesi için boş bırakılan yere hangisini yazmalıyız?

- A) 155
B) 110
C) 145
D) 176

Arkadaşlarımıza ait olan eşyaları kullanmalıyız.

11) Yukarıdaki cümledeki boşluğa hangi ifade getirilmelidir?

- A) Her zaman
B) İzin almadan
C) İzin alarak
D) Zarar vererek



Merve

12) Merve' nin cümlesi hangi ifade ile tamamlanmalıdır?

- A) Güle güle
B) Hoşça kalın
C) Yine bekleriz
D) Hoş geldiniz



Baki

Babamdan aldığım harçlığın tamamını harcamam, ihtiyacım olan şeyleri alırım. Bir kısmını da biriktiririm.

13) Baki için hangisi söylenebilir?

- A) Tutumludur
B) Tembeldir
C) Savurgandır
D) Para harcamayı sever



Seçil

Arkadaşlar ben okuluma giderken güneşin doğduğu yöne doğru yürüyerek giderim.

14) Seçilin okulu hangi yöndedir?





- A) Kuzey
B) Güney
C) Doğu
D) Batı



Defne

Yarın matematik dersinden sınavım var.

15) Defne hangi arkadaşının teklifini kabul etmelidir?

- A)  Parka gidelim oyun oynayalım.
B)  Gel sinemaya gidelim
C)  Birlikte alışveriş merkezine gidelim.
D)  Birlikte sınava çalışalım.

3. SINIFLAR DENEME SINAVI

FEN BİLİMLERİ

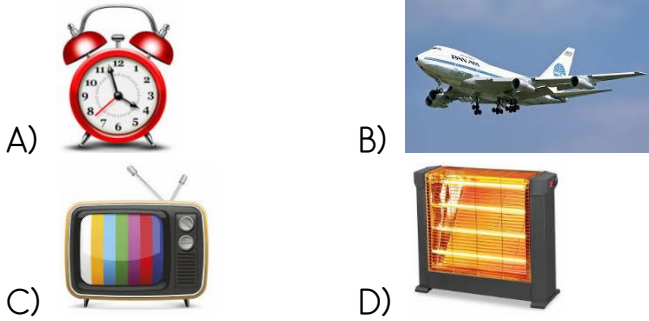
?

Benim çalışabilmem için şehir elektriği gereklidir. Ama şehir elektriğinin olmadığı zaman bataryam ile çalışmaya devam edebilirim.


1) Yukarıda özelliklerinden bahsedilen alet aşağıdakilerden hangisi olabilir?



2) Aşağıdakilerden hangisi akü ile çalışan ve ulaşım için kullanılan bir araçtır?



3) Aşağıdakilerden hangisi elektrik kaynağı değildir?



Zeynep dişlerini fırçalarken suyu kapatmamıştır.

Zeynep


4) Zeynep için aşağıdakilerden hangisi söylenebilir?

- A) Tasarruflu birisidir.
B) Diş sağlığına özen gösterdiği gibi su tasarrufuna da özen gösterir.
C) Suyu tasarruflu kullanır.
D) Suyu tasarruflu kullanmamaktadır.

5) Aşağıdaki ifadelerden hangisi doğal çevrenin kirlenmesine sebeptir?

- A) Çöpleri çöp kovasına atmak.
B) Pilleri çöp kovasına atmak.
C) Plastik şişeleri denize atmak.
D) Ormana cam şişe atmak.

6) Aşağıdakilerden hangisi canlı bir varlık değildir?



Öğretmenim benden Dünya' nın şekli ile ilgili bir afiş yapmamı istedi.

Ahmet

7) Ahmet aşağıdaki şekillerden hangisini afiş çalışmasında kullanabilir?



3. SINIFLAR DENEME SINAVI

"... Tabakta duran meyve bir değışikti. İlk defa görmüştüm. Rengi sarı ile yeşil arası bir renkti. Tadına baktım, biraz ekşimsiydi. "


8) Yukarıdaki ifadelerde hangi duyu organları kullanılmıştır?

- A) Göz ve Burun B) Dil ve Kulak
C) Göz ve Kulak D) Göz ve Dil

- * Televizyona çok yakından bakmamalıyız.
* Güneşe bakmamalıyız.
* Çok yüksek sesli ortamlarda bulunmamalıyız.

9) Yukarıdaki uyarılar hangi duyu organlarımızın sağlığını korumak için yapılmıştır?

- A) Göz ve Kulak B) Göz ve Dil
C) Kulak ve Burun D) Deri ve kulak



10) Yukarıdaki adam hangi kuvveti uygulamaktadır?


- A) İtme B) Çekme
C) Sallanma D) Kaldırma

" Ağacın dalında duran kuşlar elimizi aniden kaldırıncı uçup gittiler."

11) Yukarıdaki cümlede kuşların hareketi nedir?

- A) Üreme B) Solunum
C) Tepki verme D) Boşaltım

12) Aşağıdakilerden hangisi farklı bir elektrik kaynağı ile çalışmaktadır?




Esra

Canlılar beslenirler. Bitkiler beslenmek için?..... kullanırlar.

13) Esra' nın cümlesindeki boşluk hangisiyle tamamlanmalıdır?

- A) Köklerini B) Ellerini
C) Ayaklarını D) Ağzını

14) Aşağıdakilerden hangisi çıkardığı gaz ile doğaya zarar vermektedir?



Maddenin halleri ile ilgili bir deney yapıyorum. Buz dolabından buz aldım. Buzu eritip su haline getirdim. Daha sonra bu suyu ocakta kaynatıp buhar haline getirdim.



Hüseyin

15) Hüseyin yukarıdaki etkinliği yaparken maddenin sırasıyla hangi hallerini gözlemlemiştir?

- A) Katı - Gaz - Sıvı
B) Sıvı - Katı - Gaz
C) Katı - Sıvı - Gaz
D) Gaz - Sıvı - Katı

3. SINIFLAR DENEME SINAVI

İNGİLİZCE



1) Yukarıda olmayan hangisidir?

- A) Seahorse B) Ladybug
C) Shark D) Camel



2) Yukarıdaki resimde anlatılan ifade hangisi olabilir?

- A) He is playing football.
B) He is reading a book.
C) He is watching TV.
D) He is drinking water.



" It is in Antalya.

3) Yukarıdaki resme göre noktalı yere hangisi getirilmelidir?

- A) Rainy B) Cold
C) Hot D) Warm

4) Aşağıdakilerden hangisi denizde bulunan bir ulaşım aracıdır?

- A) Car B) Bus
C) Train D) Ship



The car is the garage.

5) Boş bırakılan yere hangisi getirilmelidir?

- A) on B) at
C) in D) near



Is it a pencil?

No,



6) Konuşma balonunda boş bırakılan yere hangisi getirilmelidir?

- A) It is a book. B) It is a ruler.
C) It is an eraser. D) It is a notebook



7) Aşağıdaki cümlelerden hangisi yanlıştır?

- A) There are four cars.
B) There is a train.
C) There are fifteen balls.
D) There are five balls.



8) Hangisi yukarıdaki çocuğun yüz ifadesini anlatmaktadır?


- A) Tired B) Angry
C) Good D) Happy



Can it fly ?

9) Hangisi yukarıdaki resmi anlatmaktadır?

- A) No, it can't B) Yes, it can.
C) No, it isn't D) Yes, it isn't



10) Kaç tane top vardır?

- A) Fourteen B) Fifteen
C) Sixteen D) Seventeen
Sınavınız Bitmiştir...