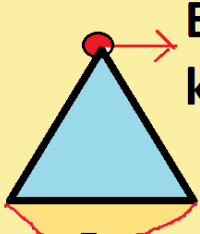



ADI - SOYADI:

Aşağıdaki şekil ve açıklamalardan doğru olanlara "d" , yanlış olanlara "y" işareti koyalım.



Bu bir
köşedir
(d)

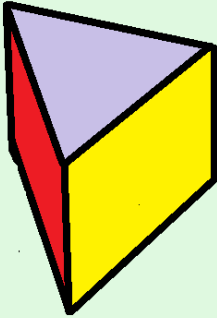
Bu bir
kenardır (.....)




Bu bir
köşedir
(.....)




Bu şeklin kenar
sayısı üçgenin
kenar sayısından
fazladır (.....)



Kare prizmadır (.....)
5 yüzü vardır (.....)



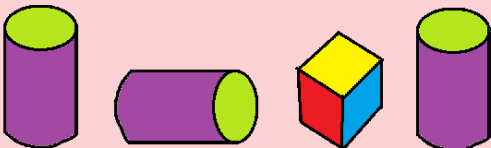

Köşesi yoktur(....)
Bir yanı kare
olabilir (.....)



Bütün kenarları
birbirine eşittir
(.....)



Aşağıdaki örüntülerdeki boşlukları tamamlayalım



.....



.....

5-8-11-....-17-20-....

33-29-25-21-....-13-9-....-1

Aşağıdaki ifadelerde boş olan yerleri tamamlayalım

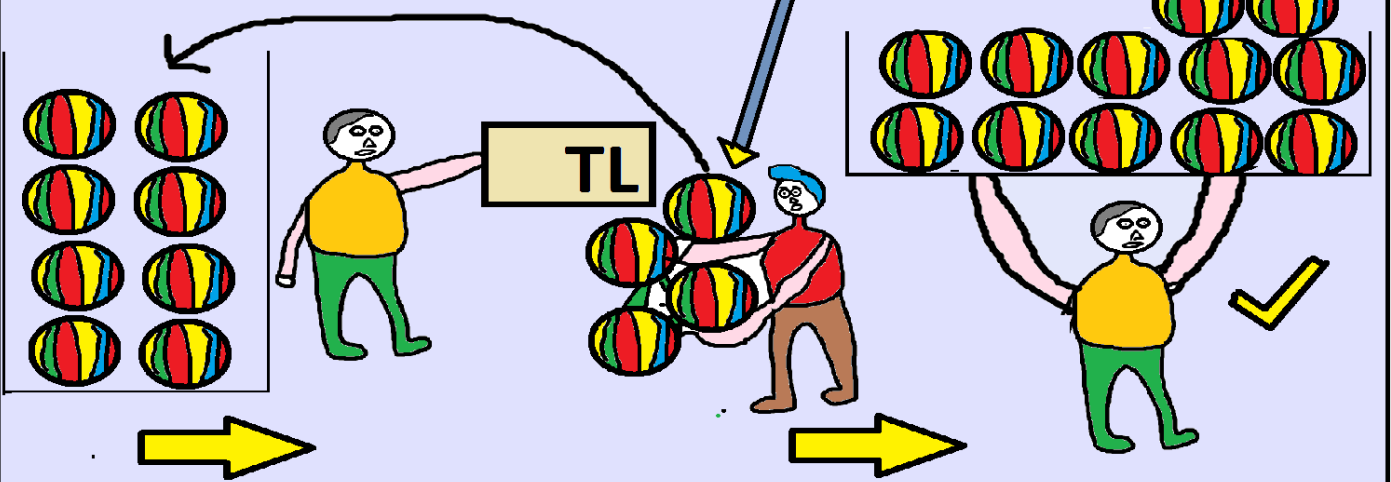
Problem: Ahmet'in 8 tane topu vardır. 4 tane daha top satın alırsa Ahmet'in kaç tane topu olur?

Ahmet'in başlangıçtaki top miktarı= tane

Ahmet'in satın aldığı top miktarı= tane

Ahmet'in toplam topu=

..... + Ahmet'in satın aldığı top miktarı



Derya'nın oyuncak sayısı= 14

Derya'nın kardeşinin kırdığı oyuncak sayısı= 6

Derya'nın kırılmamış oyuncak sayısı=

Derya'nın oyuncak sayısı—Kardeşinin kırdıkları

Derya'nın tane oyuncak vardı. Derya'nın kardeşi bu oyuncakların tanesini kırdığına göre Derya'nın kırılmamış kaç oyuncak kalmıştır?

