

Adı – Soyadı:

Sorular

1-) Sağ kolumuz Doğuyu gösterdiğinde Önümüz hangi yönü gösterir?

A-) Kuzey

B-) Batı

C-) Doğu

2-) “Bu mevsimde yapraklar sararmaktadır. Yağmurlar daha çok yağmaktadır. Havalar soğumaktadır.”
Bahsedilen Mevsim aşağıdakilerden hangisidir?

A-)Yaz

B-)Sonbahar

C-)Kış

3-) Aşağıdakilerden hangisi doğal afet değildir?

A-) Deprem

B-)Sel

C-)Trafik kazası

4-)Aşağıdakilerden hangisi insanların çevreye verdiği zararlara örnek oluşturmaz?

A-) Ağaçları kesmek, ormanlarda yangın çıkartmak

B-) Yerlere çöp atmak, kağıtları çöpe atmak

C-)Kurumuş ve hasar görmüş bitkileri yenilemek

5-)Kağıtları ve kartonları neden geri dönüşüme atmalıyız?

A-)İşimize yaramadıkları için

B-)Onları yeniden kullanıp ağaçların kesilmesini engellemek için

C-)Çöpler ve çöp kutuları çok dolu olduğu için

(Altıncı ve Yedinci (6. ve 7.) soruları aşağıdaki metne göre cevaplayınız.)

“Dün annem İstanbul’dan geldi. Gelir gelmez hemen ona sarıldım. Onu çok seviyorum. Ayrı kaldığımız zamanlarda onu çok özleyorum.”

6-)Bu parçanın başlığı aşağıdakilerden hangisi olabilir?

A-) İstanbul’un Güzellikleri

B-) Özlediğim Hayat

C-) Anne Sevgisi

7-) Bu parçada hangi duyguya yer verilmemiştir?

A-)Özlem

B-)Sevgi

C-)Üzüntü

(Sekizinci ve Dokuzuncu (8. ve 9.) soruları ařağıdaki metne göre cevaplayınız.)

“Atatürk Selanik’te doğmuştur. Bütün hayatı boyunca çok çalışmıştır. Büyük bir asker olmuştur. Yurdumuzu düşmanlardan kurtarmıştır.”

8-) Bu parçada ařağıdakilerden hangisine yer verilmemiştir?

A-) Atatürk’ün mesleğine

B-) Atatürk’ün ne zaman çok çalıştığına

C-) Atatürk’ün ne zaman yurdumuzu düşmanlardan kurtardığına

9-)Bu parçanın kaçınıcı cümlesindeki kelimelerden birisinin zıt anlamlısı “küçük” tür?

A-) 1

B-)3

C-)4

10-) “Yarın köye dayımlara gideceğim için okula gelemeyeceğim.”

Bu cümleden aşağıdaki sonuçlardan hangisi çıkartılamaz?

A-) Okula gelememe sebebim köye dayımlara gitmemdir.

B-)Dayımlara ne zaman gideceğimi biliyorum

C-)Köyde yalnız dayımlar var.

11-) Annem 12 tane elmayı 3 kardeşe paylaştırmıştır. Daha sonra kardeşlerden her birine birer elma daha vermiştir. Her bir kardeşin kaçar elması olmuştur?

A-) 4

B-)3

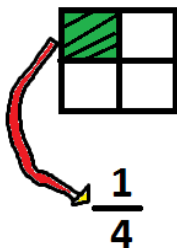
C-)5

12-) Aşağıdaki kesirlerden hangisi doğru gösterilmiştir?

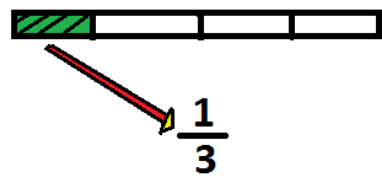
A-)



B-)

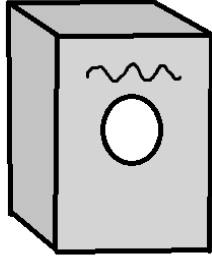


C-)



13-) Aşağıdaki şekillerden hangisi silindire benzer?

A-)




Çamaşır Makinesi

B-)



Top

C-)



HAP Kutusu

14-) Aşağıdaki örüntülerden hangisi “Üçgen-Kare-2 Daire” kuralına göre dizilmiştir?


A-)



B-)



C-)



15-) “Sayı sürekli 3 artar.” Bu kurala uygun olmayan Sayı Örüntüsü aşağıdakilerden hangisidir?

A-) 1 – 4 – 7 – 10 – 13 – 16 – 19 – 22

B-) 2 – 5 – 8 – 10 – 13 – 15 – 18 – 20 – 23

C-) 3 – 6 – 9 – 12 – 15 – 18 – 21 – 24 – 27

16-) Aşağıdaki Eşittir (=) işaretlerinden hangisi yanlış kullanılmıştır?

A-) $12 + 3 = 10 + 5$

B-) $4 + 2 = 9 - 3$

C-) $10 + 4 = 7 + 8$

17-) “Ahmet’in 5 tane ayakkabısı vardır. Ahmet 2 tane ayakkabı daha satın alırsa Ahmet’in kaç tane ayakkabısı olur?”


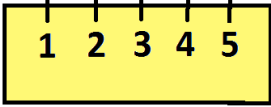

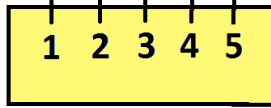

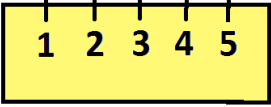

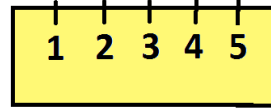

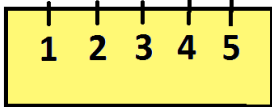

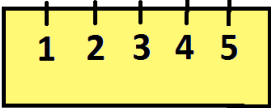
Bu problemin Sözel ifadesi aşağıdakilerden hangisidir?

A-) Ahmet’in ayakkabı sayısı = 7
..... Ahmet’in satın aldığı ayakkabı sayısı = 2

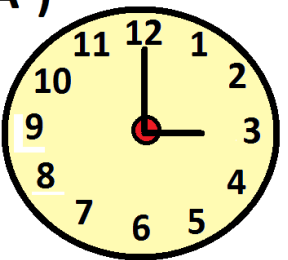


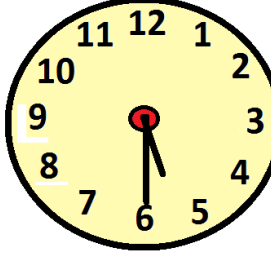
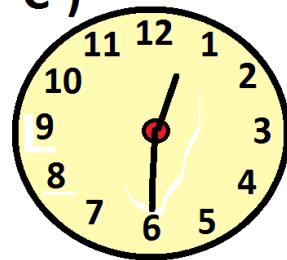

B-) Ahmet’in toplam ayakkabısı = Ahmet’in ayakkabısı + 2

C-) Ahmet’in ayakkabı sayısı = 5
.....Ahmet’in satın aldığı ayakkabı sayısı = 7

18-) Hangi seçenekte yanlış bir uzunluk ölçümü vardır?

<p>A-)</p> <p> =3 cm</p> <p></p> <p> =4 cm</p> <p></p>	<p>B-)</p> <p> =3 cm</p> <p></p> <p> =3 cm</p> <p></p>	<p>C-)</p> <p> =3 cm</p> <p></p> <p> =3 cm</p> <p></p>
--	--	--

19-) Aşağıdaki seçeneklerden hangisinde yanlış bir saat gösterimi vardır?

<p>A-)</p> <p> 3:00</p> <p> 10:30</p>	<p>B-)</p> <p> 12:15</p> <p> 6:30</p>	<p>C-)</p> <p> 12:30</p> <p> 3:45</p>
---	---	---