




PAZARTESİ	SALI	ÇARŞAMBA	PERŞEMBE	CUMA	CUMARTESİ	PAZAR
						

Bir Haftalık Hava Durumu Tablosu

Yukarıdaki tabloya göre aşağıdaki soruları yanıtlayınız.

- 1-) Hangi günler güneşlidir? (.....)
- 2-) Hangi günler bulutludur? (.....)
- 3-) Hangi günler parçalı bulutludur? (.....)
- 4-) Hangi günler yağmurludur? (.....)

- 5-) Haftada kaç gün güneşlidir? (.....)
- 6-) Haftada kaç gün parçalı bulutludur? (.....)
- 7-) Haftada kaç gün bulutludur? (.....)
- 8-) Haftada kaç gün yağmurludur? (.....)

 Dondurma çeşitleri	Satılan adet	1-) Kaç tane limonlu dondurma satılmıştır? (.....)	8-) En az hangi dondurma çeşidi satılmıştır? (.....)
Vanilyalı dondurma	10	2-) Kaç tane çilekli dondurma satılmıştır? (.....)	9-) En çok satılana en az satılana doğru dondurma çeşitlerini sıralayınız.
Çilekli dondurma	22	3-) Kaç tane karışık dondurma satılmıştır? (.....)	
Limonlu dondurma	18	4-) Kaç tane sütlü dondurma satılmıştır? (.....)	
Kakaolu dondurma	9	5-) Kaç tane vanilyalı dondurma satılmıştır? (.....)	
Sütlü dondurma	13	6-) Kaç tane kakaolu dondurma satılmıştır? (.....)	
Karışık dondurma	14	7-) En çok hangi dondurman satılmıştır? (.....)	