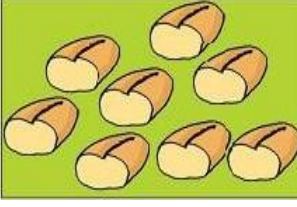


MATEMATİK TESTİ

1)



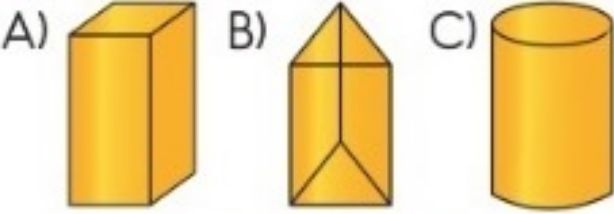
Masanın üzerinde 8 yarım ekmek vardır.

Ekmekler kesilmeseydi, masanın üstünde kaç bütün ekmek olurdu?

- A) 4 B) 10 C) 16

2)

Aşağıda verilen geometrik şekillerden hangisinin köşesi yoktur?



3)




Benim doğum günüm 7. aydadır.

BÜŞRA

Büşra'nın doğum günü hangi aydadır?

- A) Haziran B) Temmuz C) Ağustos

4)




Ağaçta 9 kuş vardır. Ağaca 6 kuş konup ağaçtan 2 kuş uçuyo
Sonuçta ağaçta kaç kuş kalmış olur?

- A) 15 B) 14 C) 13

5)

Aşağıdaki saatlerden hangisi 9:30'u göstermektedir?



6)

Yukarıdaki görsellerin adları sırasıyla hangi seçenekte doğru olarak verilmiştir?

- A) Çember - Daire
B) Daire - Üçgen
C) Daire - Çember

7)

Aşağıda verilen işlemlerden hangisinin sonucu 2 onluktur?

- A) $11 + 8$ B) $13 + 7$ C) $15 + 4$

8)



Çiğdem'in cüzdanında 15 TL var. Çiğdem, parasıyla yukarıda fiyatı verilen boya kaleminden bir kutu aldı. Çiğdem'in kaç lirası kaldı?

- A) 2 B) 7 C) 10

- 9)  Yandaki nesnelerle ilgili verilen bilgilerden hangisi **yanlıştır**?

- A) En uzun diş fırçası en kısası taraktır.
B) Çatal; makastan uzun, kaleminden kısadır.
C) Kalem ile çatalın boyları eşittir.

- 10)  Yukarıdaki kibrit çöpleri kullanılarak hangi geometrik şekil oluşturulabilir?




- A) üçgen B) kare C) çember

- 11) 

Yukarıdaki örüntüde "?" ile gösterilen yerlere sırasıyla hangi seçenekteki şekiller gelmelidir?

- A)  B)  C) 

- 12) Hangi seçenekteki tabakta 1 yumurtadan daha fazla yumurta vardır?




- A)  B)  C) 


- 13) $4 + 8 = ? + 4$

Yukarıdaki eşitlikte "?" yerine hangi sayı yazılmalıdır?

- A) 8 B) 4 C) 0

- 14) Aşağıda verilenlerden hangisi bir örüntü **değildir**?

- A) 
B) 
C) 

- 15) 

Masadaki elma ve armutların sayılarının farkı kaçtır?

- A) 16 B) 4 C) 5

- 16) 

Yukarıdaki ritmik saymada **yanlış** yazılan sayı aşağıdakilerden hangisidir?

- A) 18 B) 19 C) 22

- 17) Burak 11 yaşındadır. Kardeşi Duru, Burak'tan 3 yaş **küçüktür**. Burak ile kardeşi Duru'nun **yaşları toplamı** kaçtır ?

- A)  B)  C) 