

GEÇMİŞİMİZ

Anne, baba ve çocuklardan oluşan topluluğa *çekirdek aile* denir. *Büyük ailede* ise büyükanne, büyükbaba gibi akrabalar da bulunur. Kan bağı ile birbirine bağlı insanlara *akraba* denir. Amcamız, teyzemiz, halamız, dayımız kan bağı ile bağlandığımız akrabalarımızdır.

Ailemizle ilgili geniş bilgi edinmek, aile tarihimiz öğrenmek istersek araştırma yapmamız gerekir. Bu araştırmayı yapmak için kullanacağımız en iyi yöntem büyükanne, büyükbaba gibi büyüklerden yardım almaktır. Yapacağımız bu söyleşiler *sözlü tarih* olarak bilinir. Bunun yanında eski eşyaları incelemek ve fotoğraf albümlerine bakmak da bu araştırmada bize yardımcı olabilir.

Sözlü tarih çalışması yapmak için;

- 1-Konu hakkında bilgi toplamalıyız,
- 2-Bilgileri düzenlemeliyiz
- 3-Anlaşılır, net sorular hazırlamalıyız.



Yandaki bilgilerden faydalanarak anne ve babanızın gittiği okullar ile ilgili sözlü tarih çalışması yapın.

Çalışmanızda çizgili kağıt ve fotoğraf kullanın.

CUMHURİYET BİZE EMANET

Ulu Önder Atatürk, düşman çizmesi altında ezilen memleketimizi kurtarmak ve kurtuluş mücadelesini başlatmak amacıyla, 19 Mayıs 1919'da Samsun'a ayak bastığında elinde hiçbir maddi güç yoktu. Fakat o büyük Türk milletinde bulunan manevi gücün büyüklüğüne inanıyordu ve gücünü de buradan alıyordu. Türk milleti de ileride büyük zafere giden bu manevi yolculukta onu yalnız bırakmamıştır.

Amasya, Erzurum, Sivas'ta toplantılar ve sonunda Ankara'da 23 Nisan 1920'de TBMM'nin açılmasıyla birlikte Milli Mücadele çok önemli bir noktaya taşınmıştır. Doğu ve Güney Cephelerinde Yunanlılara karşı kıt imkânlarla yürütülen savaşlarda büyük başarılar kazanılmıştır. 29 Ekim 1923'te cumhuriyetimizin ilan edilmesinden sonra, sıra yapılacak olan büyük çaplı ve de bir milletin istikbaldeki kaderine yön verecek olan değişikliklere gelmiştir.

Bunca güçlüğe rağmen Atatürk'ün ve silah arkadaşlarının özverileriyle kurulan cumhuriyete sahip çıkmak ve çağın gerektirdiği yeniliklerden faydalanarak ülkenin ilerlemesine katkıda bulunmak hepimizin görevi olmalıdır.

1-Kurtuluş Mücadelesi hangi olayla, ne zaman başlamıştır?.....

2-Kurtuluş Mücadele'sine yokluk içinde başlayan Mustafa Kemal, gücünü nereden alıyordu?.....

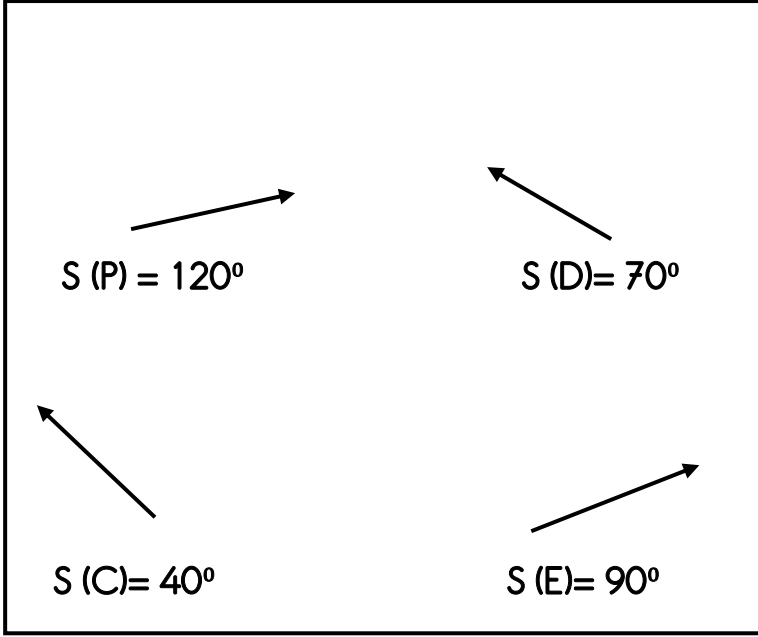
3-Mustafa Kemal, Kurtuluş Savaşı'nı başlatmak için nerelerde toplantı yapmıştır?.....

4-Cumhuriyet ne zaman ilan edilmiştir?.....

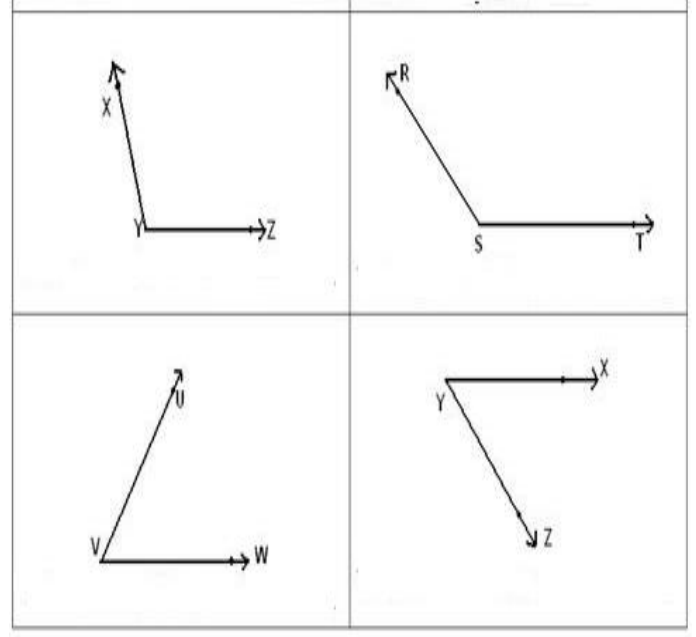
5-Cumhuriyetin ilanından sonra, Türk milletinin kaderine yön veren değişiklikler hangileridir?.....

6- Atatürk, cumhuriyeti bize emanet etmiştir. Cumhuriyete nasıl sahip çıkacaksınız?.....

Aşağıda ölçüsü verilen açları iletki ile çizin.

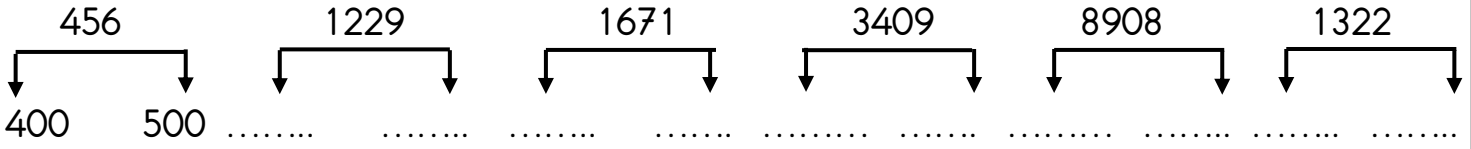


Aşağıdaki açları ölçün, sonucu altına yazın.



OKUNUŞU	SAYI	ÇÖZÜMLEME
Sekiz yüz bin dokuz	800009	$800000+9$
	12068	
		$200000+10000+500+40+8$
Altı yüz elli üç bin sekiz yüz seksen altı		
	780654	
		$300000+30000+1000+100+30+3$
On dokuz bin dört yüz yetmiş dört		
	451005	

Hangi yüzlüğe yakın? Yazın ve işaretleyin.



Büyükten küçüğe sıralayın

23098 – 230000 – 23099 – 2300	
76009 – 70609 – 77009 – 69999	
100089 – 10890 – 100099 – 19999	

$\begin{array}{r} 552 \\ + 172 \\ \hline \end{array}$	$\begin{array}{r} 519 \\ + 258 \\ \hline \end{array}$	$\begin{array}{r} 922 \\ - 839 \\ \hline \end{array}$	$\begin{array}{r} 473 \\ + 647 \\ \hline \end{array}$	$\begin{array}{r} 380 \\ - 280 \\ \hline \end{array}$	$\begin{array}{r} 221 \\ - 127 \\ \hline \end{array}$	$\begin{array}{r} 535 \\ + 491 \\ \hline \end{array}$
$\begin{array}{r} 774 \\ + 234 \\ \hline \end{array}$	$\begin{array}{r} 998 \\ - 805 \\ \hline \end{array}$	$\begin{array}{r} 720 \\ + 726 \\ \hline \end{array}$	$\begin{array}{r} 911 \\ + 288 \\ \hline \end{array}$	$\begin{array}{r} 201 \\ - 127 \\ \hline \end{array}$	$\begin{array}{r} 379 \\ + 802 \\ \hline \end{array}$	$\begin{array}{r} 640 \\ + 353 \\ \hline \end{array}$
$\begin{array}{r} 380 \\ + 369 \\ \hline \end{array}$	$\begin{array}{r} 676 \\ + 380 \\ \hline \end{array}$	$\begin{array}{r} 470 \\ - 366 \\ \hline \end{array}$	$\begin{array}{r} 439 \\ + 747 \\ \hline \end{array}$	$\begin{array}{r} 551 \\ - 368 \\ \hline \end{array}$	$\begin{array}{r} 100 \\ + 502 \\ \hline \end{array}$	$\begin{array}{r} 619 \\ - 579 \\ \hline \end{array}$

Büyük mü? Küçük mü?

12789 1278

67098 68000

10222 9990

76508 76500

35988 35990

71002 71100

63099 63100