

## SES KİRLİLİĞİNİ AZALTMAK İÇİN

Ses kirliliğinin insan sağlığı üzerindeki olumsuz etkilerini azaltmak için yapılması gerekenler şunlardır: Toplu yerlerde, yüksek sesle konuşulmamalıdır. Müzik aletlerinin seslerini evimizde ya da başka yerlerde toplumu rahatsız etmeyecek kadar açmalıyız. Çok gürültü çıkaran, bozuk ev aletlerini tamir ettirmelidir. Fazla ses çıkarmaktan, ıslık ya da düdük çalmaktan kaçınılmalıdır.

Ulaşım araçlarının neden olduğu gürültüyü azaltmak için gerekli tedbirler alınmalıdır. Gereksiz yere korna çalmak yasaklanmalı, arabaların kornaları çevreyi rahatsız etmeyecek şekilde ayarlanmalıdır.

Eğlence mekânlarında çevreye saygı kuralları aşılmayacak şekilde gürültü ayarlaması yapılmalıdır. Evlerin fazla olduğu yerlerde gürültüye neden olabilecek mekânların ses denetimleri sıklıkla yapılmalıdır.

Yol kenarlarına ses önleyici duvarlar yaparak ya da ağaç dikerek gürültünün etkisini azaltılmalıdır.

Binaların yapımında, evlerde, okulda, iş yerlerinde ses geçirmeyen maddeler kullanılmalı, ses yalıtımı yapılmalıdır. Yani ses geçişini engellemek için duvarları köpük, elyaf, cam gibi yalıtım maddeleriyle kaplamalıyız.



Gürültülü yerlerde bulunmamalıyız. Ancak bu mümkün değilse yüksek sese maruz kaldığımızda ağızımızı açık tutmalıyız. Böyle yerlerde çalışıyorsak kulaklarımızı gürültüden koruyan bir kulaklık takmalıyız.

1- İnsanların topluca bulunduğu yerlerde ses kirliliğini önlemek için nelere dikkat edilmelidir?.....

.....

2- Ses kirliliğini önlemek için bina yapımında nelere dikkat edilmelidir?.....

.....



## BETİMLEME

Bir manzarayı, insanı ya da herhangi bir şeyi tüm ayrıntılarıyla okurun gözünde canlandırmak için yazılan anlatım tekniğidir. Betimlemede bir olay yoktur. Betimleme sözcüklerle resim çizmek gibidir.

Aşağıdaki resmi kendi cümlelerinizle betimleyiniz.



.....

.....

.....

.....

.....

.....

.....

.....

.....

.....

Aşağıdaki deyimlerin anlamını öğrenin ve yazın.

Küplere binmek:.....




.....

Kulağına küpe olmak:.....

.....

Sıfır tam yüzde yedi	0,07	$\frac{7}{100}$	Altmış dört tam onda altı		
Beş tam onda dört			Sıfır tam yüzde bir		
On iki tam binde üç			Sıfır tam binde on altı		
Elli tam yüzde on beş			Yedi tam yüzde seksen		
Dokuz tam binde seksen dört			On tam yüzde on bir		

781	536	467	84	545	674	403	728	318	61
<u>x 39</u>	<u>x 35</u>	<u>x 34</u>	<u>x 39</u>	<u>x 76</u>	<u>x 40</u>	<u>x 78</u>	<u>x 17</u>	<u>x 94</u>	<u>x 76</u>

Kesir	Verilen kesre uygun şekil	Kesrin okunuşu	Sayı doğrusunda gösterin
$\frac{2}{6}$			
$\frac{4}{3}$			
$1\frac{2}{3}$			

Yuvarla	18 193	2275	45 401	132 063	5 129	43 982	3 045	820 211	1653	2082
Onluğa										
Yüzlüğe										

Aşağıdaki problemleri matematik defterine yazın ve çözün

- Üç saat kırk beş dakika kaç dakikadır?
- Bir yılın beşte üçü kaç gündür?
- 6 saat 25 dakika ile 4 saat 35 dakikanın toplamı kaç dakikadır?
- Dakikada 375 metre yürüyen Ecem, 35 dakikada kaç metre yürür?
- Akşam 22.30 yatan Elif 9 saat 25 dakika uyumuştur. Buna göre Elif saat kaçta uyanmıştır?
- 5 dakikada 35 kitap satılan kitapçıda bir saatte kaç kitap satılır?
- Saat 16:45 de başlayan film saat 19:15'te bitmiştir. Film kaç saat sürmüştür?
- Bir kasabada kadınların sayısı 1367, erkeklerin sayısı kadınların sayısından 239 fazladır. Buna göre kasabada toplam kaç kişi vardır?