

TRAFİK KAZALARI

Trafikte birçok tehlike ile karşılaşabiliriz. Bu tehlikeler sürücülerden, yolculardan, yayalardan ya da çevreden kaynaklanabilir. Günümüzde trafikte ortaya çıkan tehlikeler daha çok sürücülerden kaynaklanmaktadır. Bununla beraber doğa olayları da trafikte tehlike oluşturmaktadır.

Trafik kazası, karayolu üzerinde hareket halinde olan bir veya birden fazla aracın karıştığı ölüm, yaralanma ve zararlı sonuçlanmış olan olaydır. Ülkemizde araç sayısı gün geçtikçe çoğalıyor ve bunun yanında bilinçsiz sürücülerin de artması ve trafik kurallarına uymamak trafik kazalarını artırıyor. Trafik kazaları maddi hasarlara, geçici veya kalıcı sakatlanmalara ve daha kötüsü ölümlere sebep olabilir. Sürücü, yaya, araç ve yoldaki sorunlar da trafik kazalarına neden olabilir.

Sürücüden Kaynaklanan Sebepler

Pratik yapmadan trafiğe çıkmak
Yol ve hava durumuna karşı önlem almamak
Trafikte dikkatsiz araç kullanmak
Alkollü araç kullanmak
Sürüş esnasında aşırı hız yapmak
Trafik kurallarına uymamak
Yayaya geçiş hakkı tanımamak



Yolcudan Kaynaklanan Sebepler

Sürücüye ilk geçiş hakkını tanımamak
Trafik kurallarına uymamak
Kırmızı ışıkta geçmek
Duran aracın önünden ya da arkasından çıkmak
Yaya geçidini kullanmamak
Yolda hatalı şekilde el aracı kullanmak

Trafik kazalarını önlemek için ehliyet aldıktan sonra pratik yapmak, araç kullanırken normalden daha dikkatli olmak, uykuyu tam almak, trafik kurallarına uymak ve alkollü araç kullanmamak gerekir.

1-Trafikte karşılaşılabileceğimiz tehlikeler nelerdir?.....

2- Bu tehlikelerin sebepleri nelerdir?.....

3- Trafik kazası nedir?.....


4- Trafik kazalarında sürücü hataları nasıl önlenebilir?.....

5-Trafik kazalarına sebep olmamak için yolcular nelere dikkat etmelidir?.....



Aşağıdaki adlara uygun ön adlar yazarak cümlede kullanın

İki çocuk	Sokakta iki çocuk yolumu kesti.
..... deniz	
..... kadın	
..... araba	
..... pasta	
..... havuz	
..... masa	



581 x 35	236 x 53	567 x 24	64 x 92	145 x 36	374 x 12	443 x 68	228 x 67	718 x 33	391 x 66
-------------	-------------	-------------	------------	-------------	-------------	-------------	-------------	-------------	-------------

Bir bölme işleminde bölen verilmediğinde.....

$$\begin{array}{r} 279 \\ \underline{ 55} \\ 4 \end{array}$$

$$\begin{array}{r} 648 \\ \underline{ 92} \\ 4 \end{array}$$

$$\begin{array}{r} 727 \\ \underline{ 90} \\ 7 \end{array}$$

$$\begin{array}{r} 377 \\ \underline{ 31} \\ 5 \end{array}$$

Bir bölme işleminde bölünen verilmediğinde.....

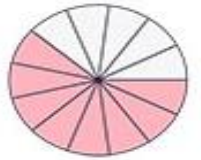
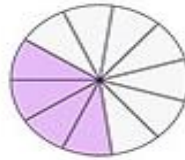
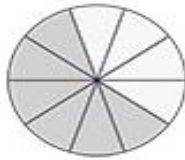
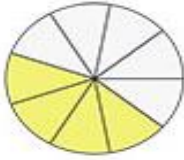
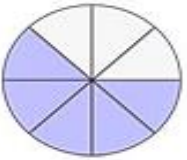
$$\begin{array}{r} \\ \underline{ 43} \\ 12 \end{array}$$

$$\begin{array}{r} \\ \underline{ 28} \\ 4 \end{array}$$

$$\begin{array}{r} \\ \underline{ 87} \\ 23 \end{array}$$

$$\begin{array}{r} \\ \underline{ 29} \\ 25 \end{array}$$

Aşağıdaki şekilleri kesir olarak ifade edin ve okunuşunu yazın.



Toplama işleminde verilmeyen toplananı bulmak için.....

<input type="text"/>	<input type="text"/>	<input type="text"/>	4983	2867	<input type="text"/>	<input type="text"/>	2578	1987	<input type="text"/>	<input type="text"/>
+3849	+2863	+1978	+ <input type="text"/>	+ <input type="text"/>	+2993	+4288	+ <input type="text"/>	+ <input type="text"/>	+2968	+1843
<u>7013</u>	<u>7820</u>	<u>6032</u>	<u>8013</u>	<u>4011</u>	<u>7321</u>	<u>6356</u>	<u>8421</u>	<u>8121</u>	<u>8803</u>	<u>9091</u>

Aşağıda basamakları verilen sayıları noktalı yere yazın.

Birler bas.: 7
Yüzler bas.: 3
Yüz binler bas.: 4
Onlar bas.: 2
Binler bas.: 5
.....

Onlar bas.: 9
Binler bas.: 1
On binler bas.: 4
Birler bas.: 4
Yüzler bas.: 3
.....

Yüzler bas.: 6
On binler bas.: 2
Yüz binler bas.: 5
Onlar bas.: 2
Birler bas.: 4
.....

Binler bas.: 3
Birler bas.: 8
On binler bas.: 8
Onlar bas.: 2
Yüzler bas.: 4
.....

On binler bas.: 3
Binler bas.: 1
Birler bas.: 6
Yüzler bas.: 7
Onlar bas.: 8
.....

Yüz binler bas.: 2
On binler bas.: 2
Onlar bas.: 7
Yüzler bas.: 7
Birler bas.: 7
.....