


ZAMAN İÇİNDE TEKNOLOJİ

Hayatımızı kolaylaştıran araç, gereç ve aletler ilk icat edildikleri günden bugüne teknolojik gelişmeler sayesinde gelişme göstermiştir.

Duygu, düşünce, bilgi ve birikimlerimizi aktarmak için kullandığımız yazıyı ilk kullananlar Sümerlerdir. Çivi yazısı denilen bu yazıyı kil tabletler üzerine yazmışlardır. Milattan önce (MÖ) 4000 yılının sonlarına doğru Mısırlılar hiyeroglif denilen yazıyı kullanmışlardır. Bu yazıyı papirüs denilen bitki saplarından yaptıkları bir tür kağıt üzerine yazmışlardır. Sonraları Çinliler günümüz kağıtlarına benzer malzeme kullanmışlardır.



Ulaşım için ilk devrim tekerleğin icadı oldu. Bu icat insanlığın çağ atlaması anlamına geliyordu. Tekerleğin icadı ve motorlu taşıtların bulunmasıyla artık insanlar gitmek istedikleri yerlere daha hızlı ve daha az enerji harcayarak gitmeye başladılar. Hayvanların çektiği arabaların yerini zamanla tren, otomobil, otobüs gibi ulaşım araçları aldı.

Türkiye’de 1950’li yıllara kadar İstanbul’da , 1964 yılına kadar da Ankara sokaklarında faytonla dolaşmıştır. Günümüzde ise İstanbul Adalarda, İzmir’de ve kıyı kentlerimizde turistik amaçlarla fayton taşımacılığı yapılmaktadır.

BENİM İCADIM: *Bir ürün hayal edin. Bu ürünün özelliklerini ve hangi ihtiyacı karşılayacağını anlatın, Resmini çizin. Ürününüzü kısaca tanıtın.*

.....Başlık yazın

Güzin Hanım o sabah kahvaltısını balkonda yapmak istedi. Gecedен çamaşır suyuyla yıkadığı balkon taşlarına bir kova su dökmese içi rahat etmeyecekti. Banyodan iki büklüm taşıdığı suyu taşlara boca ediyordu ki, duvara asılı saksıdaki kuru çalıları gördü.

“Aaa! Başıma gelenlere bakın! Kumrular yuva kuracak, balkonum çerçöp dolacak!”

Çalı çırpıyı avuçladığı gibi yan taraftaki ağaca doğru fırlattı. Saçları sağ gözünün sağ yanını kapadığı için yan taraftaki ağacı göremiyordu. Kabarmış kek görünümlü topuzuna saplanmıştı çırpının biri. Çektikçe saçları havalandı, beş teli koptu. Baktı ki başına iş açılacak, çırpıyı saç yığınının içine iteleyip gizledi. Bu işi yaparken gülmeden duramıyordu.

“Şimdi kumru, ‘Çırpım bu kadının kafasında’ deyip oturmasın kafama.”

Lodos Yolcuları/ Sevim Ak

1-Aşağıdaki deyimlerin anlamlarını öğrenin, Türkçe defterine yazın ve cümle içinde kullanın.

İçi rahat etmek, iki büklüm, boca etmek, başına iş açılmak

2-Güzin Hanım **nerede** kahvaltı yapmak istedi?.....

3-Güzin Hanım’ın içi **neden** rahat etmeyecekti?

4- Güzin Hanım balkonda **ne** gördü?.....

5- Güzin Hanım kuru çalıları **ne zaman** gördü?.....

6-Güzin Hanım çırpılara **nasıl** davrandı?.....

7-Balkonu **kim** yıkadı?.....

$$\begin{array}{r} 158 \\ \times 3 \\ \hline \end{array} \quad \begin{array}{r} 942 \\ \times 5 \\ \hline \end{array} \quad \begin{array}{r} 512 \\ \times 3 \\ \hline \end{array} \quad \begin{array}{r} 329 \\ \times 6 \\ \hline \end{array} \quad \begin{array}{r} 737 \\ \times 2 \\ \hline \end{array} \quad \begin{array}{r} 394 \\ \times 4 \\ \hline \end{array} \quad \begin{array}{r} 806 \\ \times 3 \\ \hline \end{array} \quad \begin{array}{r} 229 \\ \times 2 \\ \hline \end{array}$$

$$\begin{array}{r} 1209 \\ \times 4 \\ \hline \end{array} \quad \begin{array}{r} 3099 \\ \times 12 \\ \hline \end{array} \quad \begin{array}{r} 4538 \\ \times 20 \\ \hline \end{array} \quad \begin{array}{r} 7126 \\ \times 35 \\ \hline \end{array} \quad \begin{array}{r} 6345 \\ \times 23 \\ \hline \end{array} \quad \begin{array}{r} 9002 \\ \times 34 \\ \hline \end{array}$$

$$\begin{array}{r} 581 \\ \times 35 \\ \hline \end{array} \quad \begin{array}{r} 236 \\ \times 53 \\ \hline \end{array} \quad \begin{array}{r} 567 \\ \times 24 \\ \hline \end{array} \quad \begin{array}{r} 64 \\ \times 92 \\ \hline \end{array} \quad \begin{array}{r} 145 \\ \times 36 \\ \hline \end{array} \quad \begin{array}{r} 374 \\ \times 12 \\ \hline \end{array} \quad \begin{array}{r} 443 \\ \times 68 \\ \hline \end{array} \quad \begin{array}{r} 228 \\ \times 67 \\ \hline \end{array} \quad \begin{array}{r} 718 \\ \times 33 \\ \hline \end{array} \quad \begin{array}{r} 391 \\ \times 66 \\ \hline \end{array}$$

Aşağıdaki çarpma işlemlerini kısa yoldan yapınız.

$$36 \times 5 = ? \quad 42 \times 50 = ? \quad 64 \times 25 = ? \quad 85 \times 50 = ? \quad 52 \times 25 = ? \quad 38 \times 5 = ?$$

.....
.....

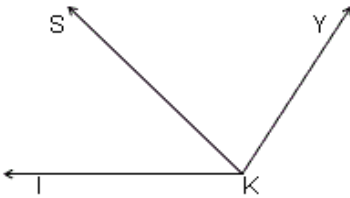
6 m'den 257 cm çıkartın.

96 mm'den 3 cm çıkartın.

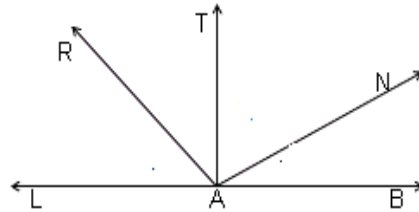
4 km'den 3897 m çıkartın.

723 cm'den 4m çıkartın

Aşağıdaki şekillerde belirtilen açılar, açıölçer ile ölçün, sonucu yazın



$$\begin{aligned} s(\text{IKS}) &= \dots\dots \\ s(\text{SKY}) &= \dots\dots \\ s(\text{IKY}) &= \dots\dots \end{aligned}$$



$$\begin{aligned} s(\text{LAR}) &= \dots\dots\dots \\ s(\text{RAT}) &= \dots\dots\dots \\ s(\text{RAN}) &= \dots\dots\dots \\ s(\text{TAB}) &= \dots\dots\dots \end{aligned}$$

Aşağıdaki problemleri matematik defterine yazın ve çözün.

- 1-Bir trendeki 240 yolcunun 46 tanesi 1. durakta, kalanların ise yarısı 2. durakta otobüsten inmiştir. Trende kaç yolcu kalmıştır?
- 2-Bir çiftlikteki tavukların ayak sayısı 376'dır. Bu kümeşte kaç tavuk vardır?
- 3-Annemden 48 TL, babamdan 66 TL ve dayımdan da 36 TL harçlık aldım. Harçlığımı günde 5 TL harcayarak kaç günde bitiririm?
- 4-Saatte 35 km yol alan bir araç 245 km'lik yolu kaç saatte gider?
- 5-12 kasada 300 elma varsa, 1 kasada kaç elma vardır?