


AĞAÇLARIN TOPLANTISI



AĞAÇLARIN TOPLANTISI

Meraklı Ayşe, arkadaşı sincaptan bugün ağaçların çok önemli bir toplantı yapacaklarını duymuştu. Ağaçlardan izin alarak toplantıyı katılmak istediğini söyledi.

Toplantıyı büyük çınar ağacı başlatmıştı.

- Arkadaşlar! Bugün burada ağaçların karşılaştıkları sıkıntıları dinlemek üzere toplanmış bulunuyoruz. Hepiniz hoş geldiniz, dedi.

Daha sonra çam ağacı söz aldı.

- Geçen hafta pikniğe gelenler piknik ateşini söndürmeden gidince neredeyse kül oluyorduk. Fil ve arkadaşları yangını büyümeden söndürdüler. Böylelikle büyük bir felaketi de önlemiş oldular.


Elma, armut, kayısı, şeftali ve birçok meyve ağacını temsilen kiraz ağacı konuşmaya başladı.

- Bizler hayvanlara, insanlara faydalı olalım diye bol bol meyve veriyoruz. Ama bazı çocuklar meyveleri yemiyor, çürütüp çöpe atıyor. Çocukların bol bol meyve yemesi gerekiyor. Bizler bu duruma çok üzülüyoruz, dedi.

Söğüt ağacına sıra gelmişti.

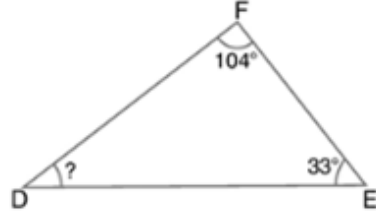
- Ormandaki bazı hayvanlar ve yaramaz çocuklar dallarımızı kopartıyor, bize:

- Ormandaki bazı hayvanlar ve yaramaz çocuklar dallarımızı kopartıyor, bize zarar veriyorlar, dedi.



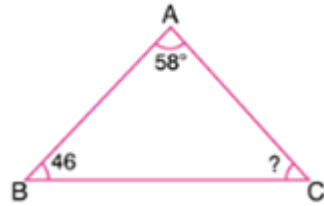
1) Yandaki FDE üçgeninde, $s(\widehat{F}) = 104^\circ$
ve $s(\widehat{E}) = 33^\circ$ dir. Buna göre $s(\widehat{D})$ açısı
kaç derecedir?

- A) 27 B) 37
C) 43 D) 53

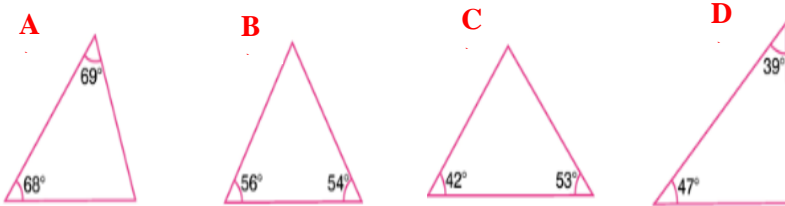


2) Görselde verilen ABC üçgeninde, $s(\widehat{BAC}) = 58^\circ$
ve $s(\widehat{ABC}) = 58^\circ$ dir. Buna göre $s(\widehat{ACB})$
açısı kaç derecedir?

- A) 56 B) 66
C) 76 D) 86



3) Aşağıdaki üçgenlerden hangisi dar açılı üçgen değildir?
Hesaplama yaparak bul.



4) Bir ikizkenar üçgenin eş açılarından birinin ölçüsü
 58° dir. Buna göre bu üçgenin eş olmayan açısının ölçüsü kaç
derecedir?

- A) 64 B) 66
C) 72 D) 78

Ayşe bir köşede kızarak ağaçları dinliyordu. Sıkıntıdan ter
içinde kalmıştı.

Palamut ağacı:

- Arkadaşlar biliyoruz ki ağaçtan yapılan masa, sandalye,
dolap, oyuncaklar ve -

Çınar ağacı tekrar söze başladı:

- Arkadaşlar! Hepiniz haklısınız. Ayrıca biz ağaçların canlılara
sayılamayacak kadar çok yararları vardı. Havayı temizliyor,
güçlü köklerimizle toprağı sıkıca tutuyoruz. Toprak kayması
ve sel baskınlarını da önüyoruz. Birçok hayvan da ormanda
yaşıyor. Onlara ev sahipliği yapıyoruz, diyerek sözlerine devam
ediyordu.

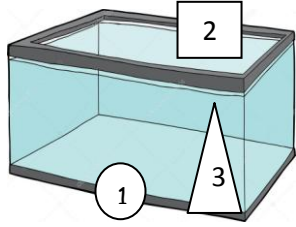
Ayşe toplantının sonuna kadar kalmak istiyordu ama hava
kararmaya başlamıştı. Eve gitmek için izin alarak toplantıdan
ayrıldı.

Ertesi gün okula giden Ayşe , toplantıda duyduklarını,
ağaçların yararlarını arkadaşlarına tek tek anlattı. Öğretmeni
de Ayşe'ye teşekkür etti.

Öğrenciler ve öğretmenleri doğayı ve yaşadıkları çevreyi temiz
tutmaya ve korumaya söz verdiler. Bütün kasabada ağaç
dikme kampanyası başlattılar. Ayşe, arkadaşları ve ağaçlar
artık çok mutluydu.



1) Aşağıdaki cam kap su ile doludur. Deneyde numaralandırılmış maddeler hangi sıftta sırasıyla verilmiştir?



- 1 2 3
A) tahta – yaprak – bilye
B) bilye – kalem – toplu iğne
C) metal para – silgi – top
D) talaş – ataş – tahta

I – yağmurluk III – şemsiye
II – kağıt havlu IV – selpak

2) Yukarıdaki maddelerden hangisi suyu çekme özellikli maddelerden yapılır?

- A) I ve III C) I ve IV
B) II ve III D) I, II ve IV

“Ateş, hava, su, toprak, elektrik, ışık, kolonya”

3) Yukarıdakilerden kaç tanesi maddedir?

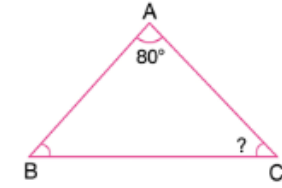
- A) 2 B) 3 C) 4 D) 5

4) Aşağıdakilerden hangisi katı maddedir?

- A) buz
B) su
C) su buharı
D) kolonya

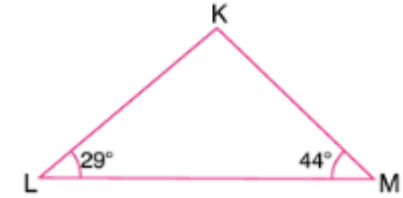
5) Yandaki ABC ikizkenar üçgeninde, $s(\hat{A}) = 80$ ve $|AB| = |AC|$ dir. Buna göre $s(\hat{C})$ açısı kaç derecedir?

- A) 44 B) 46
C) 48 D) 50



6) Yandaki KLM üçgeninde, $s(\hat{K}) = 29^\circ$ ve $s(\hat{M}) = 44^\circ$ dir. Buna göre , KLM üçgeninin çeşidi aşağıdakilerden hangisidir?

- A) Dar açılı B) Dik açılı
C) Geniş açılı D) Eşkenar




7) NKLM dikdörtgeninin köşegeni aşağıdaki doğru parçalarından hangisidir?

- A) [KL] B) [LM]
C) [KM] D) [NM]



8) A B Yandaki karenin doğru olarak isimlendirmesi hangisidir?

- A) FBLA B) ABLF C) ABFL D) LBFA



KURBAĞA VE SÜT

Bir gün iki kurbağa süt dolu bir küpün içine düşmüş. Kurbağalar atlamış, zıplamış, çırpınıp durmuşlar. Ama nafile... Küpün içi, sırlı, kaygan olduğu için bir türlü dışına atlayamamışlar...

Kurbağalardan biri dayanamayarak “buradan kurtuluş yok” diye düşünmüş ve kendini salıvermiş sütün içinde boğulmuş.

Öbür kurbağa ise azmini yitirmeyerek “Direnmeye devam etmeliyim, zıplamalıyım belki gelip kurtaran olur.” diye düşünmüş ve başlamış sıçrayıp debelenmeye ve bağırmaya...

Uzun süre uğraşıp didinip durmuş, bakmış ki kimse gelmiyor; tam azmini, umudunu yitiriyormuş ki içinde zıpladığı süt, çalkalanmadan dolayı kaymak bağlamaya başlamış.

Direnen kurbağa da kaymağın üzerindeki yağ sayesinde üstte kalıp batmaktan kurtulmuş ve üzerine çıkarak sıçrayıp dışarı atlayıvermiş.

(İlk 4 soruyu yukarıdaki metne göre yanıtlayınız)

1) Parçanın ana fikri nedir?

.....

2) Kurbağalar nereye düşmüş?

.....

3) Direnen kurbağa nasıl kurtulmuş?

.....

4) Kurbağalardan biri niçin boğulmuş?

.....



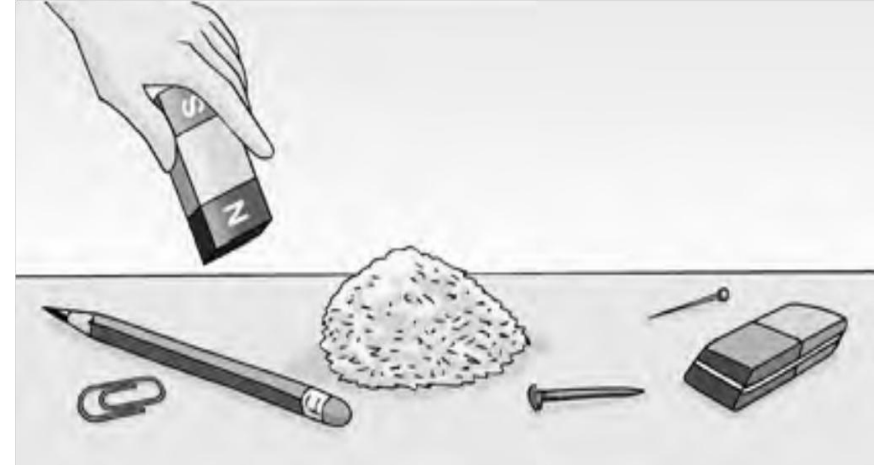
5) Yukarıdaki deneyde hangi maddeler batar, hangi maddeler yüzer?

Yüzer

- A) talaş – yaprak
- B) anahtar – yaprak
- C) talaş – anahtar
- D) toprak – talaş

Batar

- anahtar – toprak
- talaş – toprak
- yaprak – toprak
- anahtar – yaprak



6) Yukarıdaki deneyle ilgili hangisi doğrudur?

- A) Miknatıs 3 maddeyi çeker, 2 maddeyi çekmez.
- B) Miknatıs 2 maddeyi çeker, 3 maddeyi çekmez.
- C) Miknatıs 4 maddeyi çeker, 1 maddeyi çekmez.
- D) Miknatıs 1 maddeyi çeker, 4 maddeyi çekmez.

Hidden Pictures®

Rainy-Day Visit

By Linda M. Weller



In the big picture, find these objects.



crown



kite



yo-yo



tack



pen



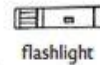
golf club



candle



hockey stick



flashlight

5) Aşağıdaki cümlelerde altı çizili sözcüklerden gerçek anlam içerenlerin başına (G), mecaz anlam içerenlerin başına (M) yazınız.

(.....) Tatilde kitapları büyük bir ıştahla okumaya başladı.

(.....) Yemek çok tuzlu olmuş.

(.....) Montunu giy, hava çok soğuk.

(.....) Arkadaşımın sözleri içimi yaktı.

(.....) Bu ince davranışın için çok teşekkür ederim.

6) Cümleleri okuyunuz. Nesnel yargı bildiren cümlelere (N), öznel yargı bildiren cümlelere (Ö) yazınız.

	Köpekler çok sevimli hayvanlardır.
	İtme ve çekmeye kuvvet denir.
	Atatürk,1919'da Samsun'a çıktı.
	Ülkemizin en güzel şehri Erzincan'dır.
	Resimli kitapları okumak zevklidir.

7) “ Küçük bir çocuk ,yaşlı kadını karşıdan karşıya geçirdi.”

Yukarıdaki cümlede hangi sorunun cevabı yoktur?

A) Kim? B) Ne zaman? C) Kimi? D) Nereye?

8) “Tırtıl artık aç değildi.” Cümlesinde altı çizili kelimenin zıt anlamlısı hangi şıkta verilmiştir?

A) Öyle yorgunum ki hemen yatacağım.

B) Karnı tok olduğu için hiçbir şey yemedi.

C) Acıktığı için yemeklere birden saldırdı.

D) Kapı rüzgârla kapanınca dışarıda kaldık

JALE İPEK