

1-

Doğu Anadolu'da eski karın üzerine sürekli yeni kar yağar. Ayrıca bu bölgelerde araziler eğimli ve ağaçsızdır.

Bu durum, insanların aşağıdaki doğal afetlerden hangisine hazırlıklı olmasına neden olur?

- A) Deprem B) Çığ
C) Sel D) Yangın

2-

Aşağıdakilerden hangisi yeni bir buluş ortaya koyan, icat eden kimse anlamına gelir?

- A) Teknolojik ürün B) Kâşif
C) Mucit D) İcat

3- Yandaki görsele göre, annenin çocuğa vereceği cevaplar arasında aşağıdakilerden hangisi yer almaz?

- A) yol B) fabrika
C) dağ D) şehirler



4- Yanda öğretmen aşağıdaki seçeneklerden hangisinin özelliklerini tahtaya yazmıştır?

- A) kroki B) plan C) harita D) ölçek



5-

Aşağıdakilerden hangisinde yanlış bilgi verilmiştir?

- A) Hicri takvim, ay yılı esas alınarak hazırlanmıştır.
B) Dünya, Güneş etrafındaki dönüşünü 365 gün 6 saatte tamamlar.
C) Bir ay yılı 365 gün 6 saattir.
D) Cumhuriyet'ten sonra Hicri takvim yerine Milâdi takvim kullanıldı.

6- Aşağıdakilerden hangisi temel ihtiyaçlarımızdan değildir?

- A) Giyinme B) Tatile gitme
C) Barınma D) Beslenme

7-

Yanda görseli verilen "Seyit Onbaşı Heykeli" hangi savaşın anısına yapılmıştır?

- A) Kurtuluş Savaşı
B) Balkan Savaşı
C) Çanakkale Savaşı
D) Trablusgarp Savaşı



8-

Aşağıdakilerden hangisi deprem öncesi evimizde alınacak önlemlerden biri değildir?

- A) Deprem tatbikatları yapmak.
B) Merdivenlerden uzaklaşmak.
C) Evleri depreme dayanıklı yapmak.
D) Deprem çantası hazırlamak.

9-

Yandaki teknolojik gelişmelerden hangisinin tablodan çıkarılması gerekmektedir?

- A) I B) II C) III D) IV



10-

Aşağıdakilerden hangisi insanların geçmişten günümüze kadar geçen süreçte kullandığı zaman ölçme araçları arasında yer almaz?

- A) Ev telefonu B) Takvim
C) Kum saati D) Su saati

11-

- I. 12 Hayvanlı Türk Takvimi
II. Hicrî Takvim
III. Milâdi Takvim

Yukarıdakilerden hangileri Türklerin kullandıkları takvimler arasında yer alır?

- A) Yalnız I B) I ve II
C) II ve III D) I, II ve III

12-

Ailemizin, gelir ve gider dengesini sağlamak için her ay yaptığı tablonun adı aşağıdakilerden hangisidir?

- A) Bütçe B) Tüketim
C) Üretim D) Dağıtım

13- Yandaki bilgilerin yanına doğru ise 😊 yanlış ise ☹️ yaptığımızda aşağıdaki seçeneklerden hangisi doğru olur?

I	Rumi takvim, güneş hareketlerine göre ayarlanmıştır.
II	Hicri takvim, ayın hareketlerine göre ayarlanmıştır.
III	Milâdi takvim Hz. İsa'nın doğumunu başlangıç kabul eder.

	I	II	III
A)	😊	😊	☹️
B)	☹️	😊	😊
C)	😊	☹️	😊
D)	😊	😊	😊

14- Tarih boyunca birçok medeniyet araştırmış, denemiş ve yeni icatlar yapmıştır. Bu icatları yapmalarının en önemli nedeni;

Yukarıdaki paragrafı aşağıdaki seçeneklerden hangisiyle tamamlayabiliriz?

- A) İhtiyaçları gidermedir
B) Çok zengin olmaktır
C) Tesadüftür
D) Boş vakitlerini değerlendirme isteği

15- Aşağıdakilerden hangisi televizyonun Efe'ye olan olumlu etkilerinden biri değildir?

- A) Bilgi öğrenmesini sağlar.
B) Zamanını boşa harcar.
C) Eğlenmesini sağlar.
D) Hayal gücünü artırır.



16-

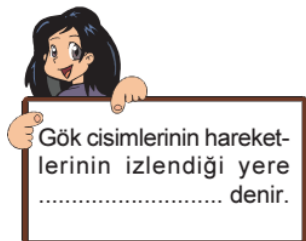


Yukarıdaki iletişim araçlarının geçmişten günümüze sıralanışı aşağıdakilerden hangisinde doğru verilmiştir?

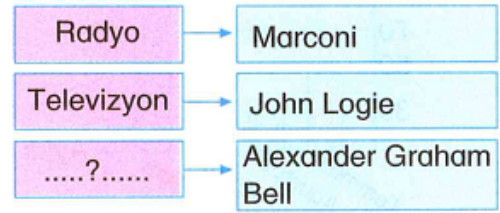
- A) I, II, IV, III
B) III, I, IV, II
C) IV, III, I, II
D) IV, I, III, II

17- Yanda boş bırakılan yere hangisi yazılmalıdır?

- A) Laboratuvar
B) Uydu
C) Gözlemevi
D) Teleskop



18-



Verilen eşleştirme tablosunda "?" ile gösterilen yere aşağıdakilerden hangisi getirilebilir?

- A) Telgraf
B) Telefon
C) Ampul
D) Araba

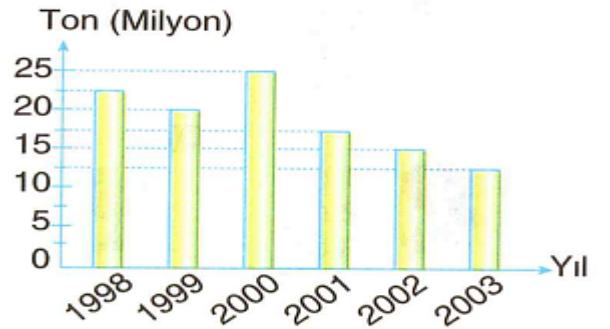
19-

1	Kullandığımız teknolojik ürünler işlerimizi kolaylaştırır.
2	Bilgisayarın hem olumlu, hem de olumsuz etkileri bulunmaktadır.
3	Televizyon çocuklar için tamamen zararlıdır.
4	Yeni bir buluş ortaya koyan, icat eden kişiye mucit denir.

Yukarıda verilen tabloda doğru olan bilgilerin başına "D", yanlış olanlara ise "Y" harfi konulduğunda aşağıdakilerden hangisine ulaşılır?

- A) 1-D 2-Y 3-D 4-Y
B) 1-D 2-D 3-Y 4-D
C) 1-Y 2-Y 3-D 4-D
D) 1-D 2-D 3-Y 4-Y

20-



Yukarıda 1998 - 2003 yılları arasında yurdumuzda pamuk üretimini gösteren grafik verilmiştir.

Buna göre aşağıdakilerden hangisine ulaşamaz?

- A) En fazla pamuk üretimi 2000 yılında gerçekleşmiştir.
B) 1999 ve 2001 yılında pamuk üretimi birbirine yakındır.
C) 2003 yılında kuraklık nedeni ile üretim olumsuz etkilenmiştir.
D) 2002 yılında üretim 2001 yılından az, 2003 yılındaki üretimden fazladır.