

## SOSYAL BİLGİLER

### II. DÖNEM 1. YAZILI SORULARI

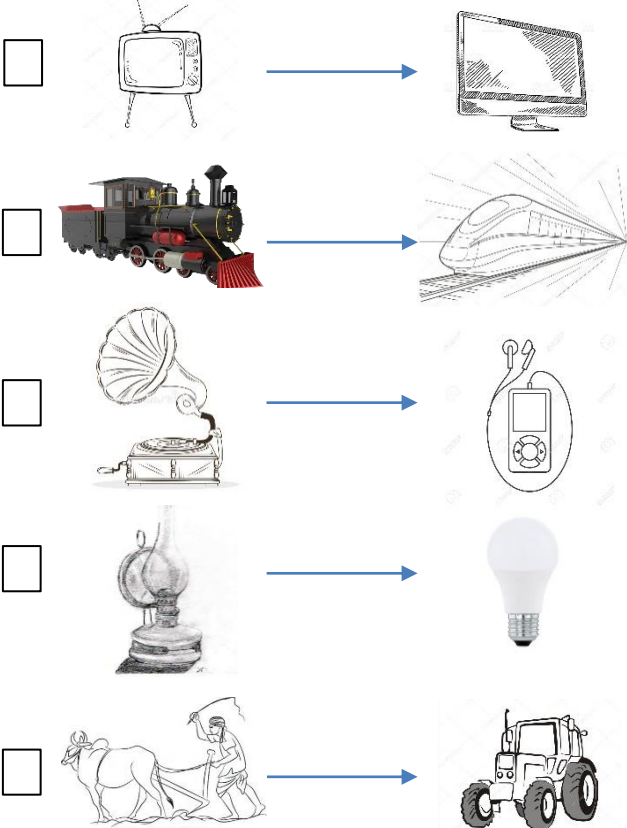
Süre: 40 dakika

1. Aşağıda verilen teknolojik ürünlerin numaralarını ait oldukları alana yazarak **sınıflandırınız.**

- |                       |                    |                     |
|-----------------------|--------------------|---------------------|
| 1. uydular            | 2. tren            | 3. ultrason cihazı  |
| 4. buzdolabı          | 5. uçak            | 6. çamaşır makinası |
| 7. elektrik süpürgesi | 8. otomobil        | 9. telsiz           |
| 10. stetoskop         | 11. bilgisayar     | 12. fotokopi mak.   |
| 13. cep telefonu      | 14. tansiyon aleti | 15. projeksiyon     |

İLETİŞİM	EV ALETLERİ	EĞİTİM	ULAŞIM	SAĞLIK

2. Aşağıdaki teknolojik aletleri ve bu aletlerin gelişimi sonucu sağladığı kolaylıkları **eşleştiriniz.**



- A. Kullanım ve taşınabilirlik kolaylaşmış...  
 B. Daha temiz ve sürekli ışık sağlanmış...  
 C. Hızlı konforlu ve güvenli ulaşım sağlanmış...  
 D. Üretim faaliyetlerinin hızlı ve kolay yapılması...  
 E. Kaliteli ve renkli görüntü imkânı sağlanmış...

3. Aşağıdakilerden hangisi **hava araçlarının zaman içinde gelişimine katkıda bulunan mucitlerden değildir?**

- A) Leonardo da Vinci  
 B) Igor Sikorsky  
 C) Johann Gutenberg  
 D) Lagari Hasan Çelebi




4.

- I. Humphry Davy  
 II. Carl Fridrich Benz  
 III. Nicolas Conte

Aşağıdaki buluşlardan hangisinin mucidi yukarıda **verilmemiştir?**

- A) otomobil  
 B) ampul  
 C) kurşun kalem  
 D) paraşüt

5. Doğadaki esin kaynağı ile tasarlanan teknolojik ürünü **eşleştiriniz.**



6. Yeni bir ürün tasarlamak için izlenecek adımları **sıralayınız**.

- ☒ 4 Tasarımın adını belirleme  
☐ Fikirlerden birini seçme  
☐ Sorunu çözecek fikirler üretme  
☐ Bir ihtiyaç veya sorunu belirleme  
☐ Ürünün özelliklerini belirleme  
☒ 5 Tasarımın kullanım amacını belirleme  
☐ Ürünün resmini çizme

7. I. Meraklı olmak  
 II. Azimle çalışmak  
 III. Hayaller kurmak  
 IV. Doğayı ve çevreyi gözlemlemek



Yukarıda verilenlerden hangileri bir **buluş** yapmak için gereklidir?

- A) I ve II  
 B) III ve IV  
 C) I, II ve III  
 D) I, II, III ve IV

8. "Teknolojik aletleri kullanım amacına uygun kullanmamak bazı olumsuz etkiler ortaya çıkarır."

Aşağıdakilerden hangisi bu etkilerden değildir?

- A) Ulaşım kolaylığı ve rahatlığı  
 B) Sosyal ilişkilerde zayıflama  
 C) Çevre kirliliği  
 D) Kemik ve göz sağlığı bozulmaları


9.



Benzinli araçların elektrikli araçlara dönüştürülmesinde **sorun** aşağıdakilerden hangisi olamaz?

- A) Enerji sıkıntısı  
 B) Hızının düşük olması  
 C) Çevre kirliliği  
 D) Petrol ürünlerinin pahalı olması

10.



Yukarıdakilerden temel ve sosyal ihtiyaçları "✓" ile isteklerimizi de "x" ile işaretleyerek nasıl bir tablo elde ederiz?

A)

✓	✓	✓
x	✓	x
x	x	x

B)

✓	✓	✓
x	✓	x
✓	x	x

C)

✓	✓	✓
x	✓	x
✓	x	✓

D)

✓	✓	✓
x	✓	x
✓	✓	✓



11. Kazak almak için alışverişe çıkan Cengiz aşağıdaki **hangi özelliklere sahip** ürünü almalıdır?

- A) Kaliteli ve fiyatı uygun  
 B) İhtiyacını karşılayan  
 C) Bütçesine uygun  
 D) Hepsi



12. "İnsanlar doğadan elde ettikleri ham maddeleri fabrikalarda işleyerek yeni ürünler üretir... Ürün elde edilmeyen ama hizmet üreten meslekler de vardır."


Aşağıdakilerden hangisi **hizmet** üreten meslektir?



13. İnsanlar neden meslek sahibi olurlar?

- A) Zengin olmak için
- B) Zevk için
- C) Hoş vakit geçirmek için
- D) İhtiyaç ve istekleri karşılamak için

14. Aşağıdaki ürünleri üretim aşamalarına göre sıralayınız.



15. Aşağıdaki görselleri **ham madde ve ürünleri** ile eşleştirelim.



16. "..... yapımında kullanılan **ham madde** ....."

Yukarıdaki cümlede noktalı yerlere hangi seçenekteki sözcükler sırasıyla getirilemez?

- A) Un – buğdaydır
- B) İplik – pamuktur
- C) Peynir – yoğurttur
- D) Yağ – ayçiçeğidir

17.

- ♥ Pamuk birçok kumaşın ham maddesidir.
- ★ Üretilen ürünler, dağıtım ağı ile tüketicilere ulaştırılır.
- Meyve yetiştiren çiftçinin yaptığı bir üretilir.

Yukarıda verilen ifadelerden hangileri doğrudur?

- A) ♥ ★
- B) ★ ●
- C) ♥ ●
- D) ♥ ★ ●

18. Alışverişe giderken **liste yapılması** ne gibi bir fayda sağlar?

- A) Ürünlerin taşınmasını kolaylaştırır.
- B) Ucuz olanı almamızı sağlar.
- C) İhtiyaçlarımızı eksiksiz almamızı sağlar.
- D) Gereksiz para harcamamızı sağlar.

19.



Yukarıdaki barkodda altı çizili rakamlar ürünle ilgili hangi bilgiyi verir?

- A) Ürünün fiyatını
- B) "Türk Malı" olduğunu
- C) Son kullanma tarihini
- D) Garanti süresini

20. Ambalajlı ürünler üzerindeki **etiketlerde bulunan bilgilerle** ilgili aşağıdaki ifadelerden hangileri doğrudur?

- ☐ Üretim ve son kullanma tarihini gösterir.
- ☐ Sağlıklı ürünler seçmenize yardımcı olur.
- ☐ Benzer ürünlerle karşılaştırma yapmanızı ve doğru olan ürünü seçmenizi sağlar.
- ☐ Üretim yeri, saklama koşulları, ağırlığı ve gıda besin değerlerini öğrenebiliriz.

21. Giysilerimizin iç kısmındaki etiketlerde hangisi bulunmaz?



- A) Yıkaması gereken sıcaklık derecesi
- B) Satın alınan dükkânın adresi
- C) Üretildiği madde ve oranı
- D) Üretildiği ülke

22.

- Tüketici şikâyetleri için Alo 175 .....  
..... aranır.
- Alışverişlerde aldığımız fiş veya faturalar sayesinde devlet ..... elde eder.
- Televizyon, halı, buzdolabı gibi dayanıklı tüketim malları aldığınızda satıcı firmadan faturayla birlikte .....  
almayı unutmayınız.

Yukarıdaki cümlelerdeki boşluklar tamamlanınca aşağıdaki hangi ifade kullanılmaz?

- A) garanti belgenizi
- B) Tüketici Danışma Hattı
- C) fişinizi
- D) vergi geliri

23. “**Bütçe**” ile ilgili aşağıdaki ifadelerden doğru olanların başına “D”, yanlış olanların başına “Y” koyunuz.

- ( ..... ) İstek ve ihtiyaçlarımızı karşılayabilmek için gelirimizi planlı kullanmalıyız.
- ( ..... ) Eğlenmek, gezmek gibi isteklerimizi erteleyemeyiz.
- ( ..... ) Bütçe hazırladığımızda harcamalarımızı planlı ve düzenli olarak yapabiliriz.
- ( ..... ) Sağlık sorunları, evimizin tamirâtı gibi beklenmedik giderlerimiz için tasarruf yapmalıyız.
- ( ..... ) Zorunlu isteklerimize öncelik vermeliyiz.

24. Aşağıdaki kavramları uygun boşluklara yazalım.

**bütçe / gelir / gider / istek / tasarruf**

- Bir ailenin elde ettiği kazanca (maaş, ikramiye vb.) ..... denir.
- Bir aileye ait gelir ve giderleri gösteren listeye ..... denir.
- Yerine getirildiğinde mutlu olunana, ancak yokluğunda sıkıntı yaşamadığımız şeye ..... denir.
- İhtiyaç ve isteklerin karşılanması için harcanan paraya ..... denir.
- Gelirin bir kısmının tüketilmeden gelecekte kullanılmak üzere ayrılmasına ..... denir.

25.



HAFTALIK BÜTÇE			
GELİR		GİDER	
harçlık	15 TL	kantin	15 TL
dedem	25 TL	kırtasiye	3 TL
		sinema	10 TL
		paylaşım	5 TL
TOPLAM :		TOPLAM :	

Yukarıdaki haftalık bütçe tablosuna göre Bora ne kadar **tasarruf** yapabilir? Hesaplayınız...

Not: Her soru 4' er puandır.