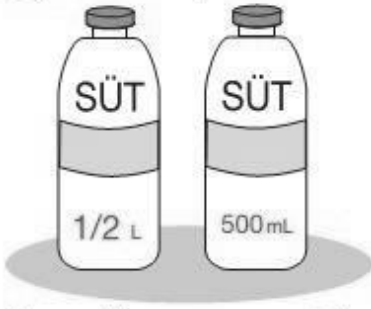
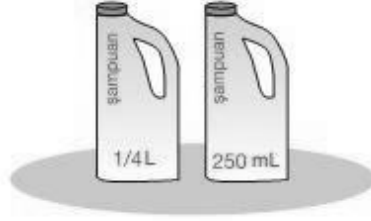


### 1 Noktalı yerleri tamamlayınız.



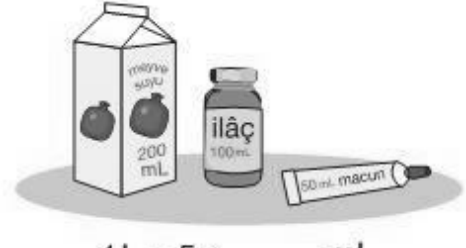
Yarım litre = .....mL

1 = 2 x ..... mL



Çeyrek litre = ..... mL

1L = 4 x ..... mL

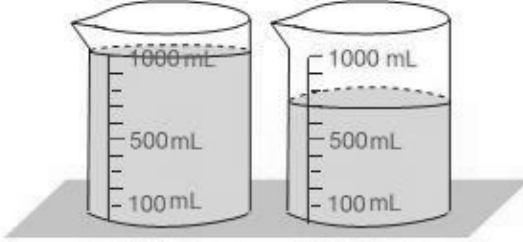


1 L = 5 x ..... mL

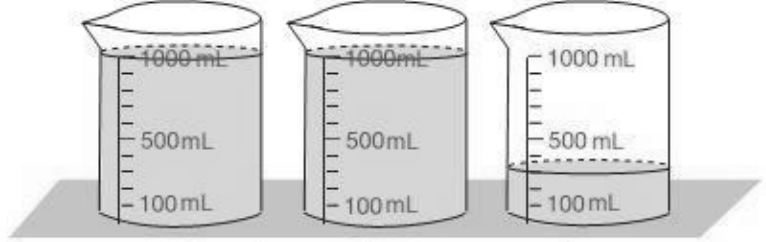
1 L = 10 x ..... mL

1 L = 20 x ..... mL

### 2 Sağındaki kaplarda bulunan sıvı miktarını noktalı yerlere yazınız.



1 / 700 mL = 1700 mL



..... / ..... mL = ..... mL

Noktalı yerleri tamamlayınız.

a. 2 L = ..... mL

c. 5000 mL = ..... L

d. 1 L 300 mL = ..... mL

f. 3800 mL = .....L ..... mL

b. 7 L = ..... mL

ç. 12 000 mL = ..... L

e. 4 L 700 mL = ..... mL

g. 8100 mL = ..... L ..... mL

### 3 Aşağıdakilerden hangilerinin mililitre ile hangilerinin litre ile ölçülmesi uygun olur? Eşleştiriniz.

- 1 kase komposto
- 1 tatlı kaşığı ilaç
- 1 kova su
- 1 bidon petrol
- 1 şişe kolonya
- 1 büyük şişe sirke
- 1 bardak süt
- 1 teneke zeytinyağı

mL  
L

### 4 Aşağıdaki ifadeleri tamamlayınız.

a. 1 L = ..... mL

b. 5 L = ..... mL

c. 14 L = ..... mL

ç. 6000 mL = ..... L

d. 13 000 mL = ..... L

e. 20 000 mL = .....L

f. 2 L 500 mL = ..... mL

g. 8 L 350 mL = ..... mL

ğ. 5400 ml = ...L..... mL

h. 10 045 mL = .... L .... mL

i. 10 L 350 mL = ..... mL

i. 1 L 500 mL + 500 mL = ...L

- 5 3 L st 500 mL'lik ŐiŐelere doldurulacaktır. Kaç ŐiŐeye ihtiyaç vardır?
- 6 35 kiŐilik bir sınıfta her Őğrenci Őğle tatilinde 200 mililitre meyve suyu içti. Bu Őğrenciler kaç litre meyve suyu içmiŐtir?
- 7 Stn 1 L'si 80 kr.'tur. Gnde 1 L st alan bir ailenin, 30 gnde aldıđı st için Ődediđi para kaç TL'dir?
- 8 Her birinde 1 L 500 mL su bulunan drt ŐiŐedeki su, içinde 1 L 250 mL su bulunan bykçe bir kaba boŐaltılıyor. Bu kaptaki su kaç litre ve kaç mililitre olmuŐtur? ... L..... mL
- 9 Bir markette portakal suyu 200 mL, 300 mL ve 500 mL'lik kutularda satılıyor. 1 L meyve suyu almak isteyen bir mŐterinin isteđi kaç deđiŐik Őekilde karŐılanabilir?
- 10 Bir teneke zeytinyađı ikiŐer litrelik ŐiŐelere boŐaltılacaktır. Bununla ilgili bir problem kurunuz ve çznz.