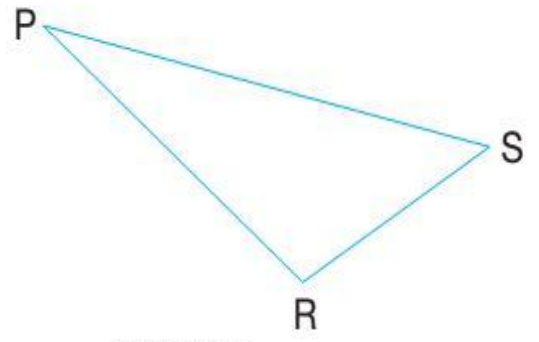
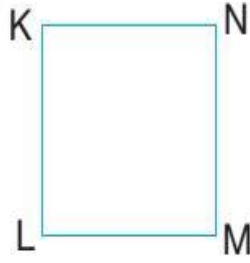
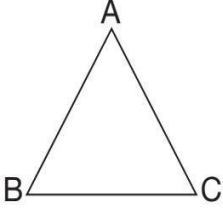


1 Aşağıda verilen şekilleri isimlendiriniz.



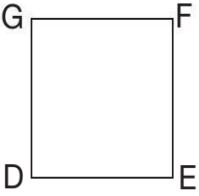
2 Aşağıdaki şekilleri, kenarlarını ve açılarını isimlendiriniz.

a.




.....  
.....  
.....

b.




.....  
.....  
.....

c.



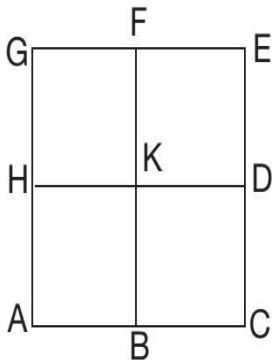
.....  
.....  
.....

3 Yandaki şekilde kaç tane dikdörtgen vardır? Bu dikdörtgenleri ve kenarlarını isimlendiriniz.



.....  
.....

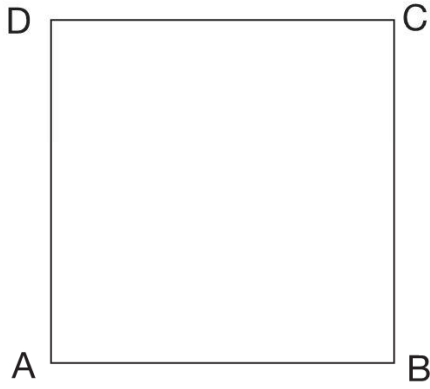
4



Yandaki şekilde kaç kare vardır? Bu kareleri isimlendiriniz.


.....  
.....

5 Aşağıdaki kare ve dikdörtgenin açılarının ölçülerini ve kenarlarının uzunluklarını bulunuz.



**Açılar**  
 $s(\hat{A}) = \dots\dots$   
 $s(\hat{B}) = \dots\dots$   
 $s(\hat{C}) = \dots\dots$   
 $s(\hat{D}) = \dots\dots$

**Kenarlar**  
 $|AB| = \dots\dots \text{ cm}$   
 $|BC| = \dots\dots \text{ cm}$   
 $|CD| = \dots\dots \text{ cm}$   
 $|AD| = \dots\dots \text{ cm}$



**Açılar**  
 $s(\hat{K}) = \dots\dots$   
 $s(\hat{L}) = \dots\dots$   
 $s(\hat{M}) = \dots\dots$   
 $s(\hat{N}) = \dots\dots$

**Kenarlar**  
 $|KL| = \dots\dots \text{ cm}$   
 $|LM| = \dots\dots \text{ cm}$   
 $|MN| = \dots\dots \text{ cm}$   
 $|KN| = \dots\dots \text{ cm}$


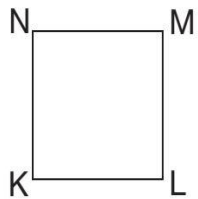
c. Karenin açılarının ve kenarlarının özelliklerini yazınız.

.....  
.....

ç. Dikdörtgenin açılarının ve karşılıklı kenarlarının özelliklerini yazınız.

.....  
.....

6 Aşağıdaki karenin ve dikdörtgenin köşegenlerini çiziniz ve isimlendiriniz.



a. Karenin köşegenlerinin uzunluklarını ölçünüz. ....

Karenin köşegenleri hangi özelliğe sahiptir? .....

b. Dikdörtgenin köşegenlerinin uzunluklarını ölçünüz. ....

Dikdörtgenin köşegenleri hangi özelliğe sahiptir? .....