

Doğal Sayılar Testi



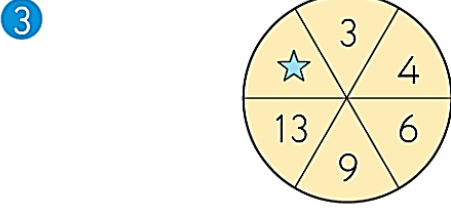
Yukarıdaki sayı örüntüsü hangi sayıyla sürdürülmelidir?

- A. 126 B. 127 C. 128 D. 129



Yukarıdaki sayı örüntüsü hangi sayıyla sürdürülmelidir?

- A. 15 B. 14 C. 13 D. 12



Yukarıdaki şekilde sayılar belli bir kurala göre dizilmiştir.

Buna göre ☆ yerine hangi sayı gelmelidir?

- A. 18 B. 19 C. 20 D. 21

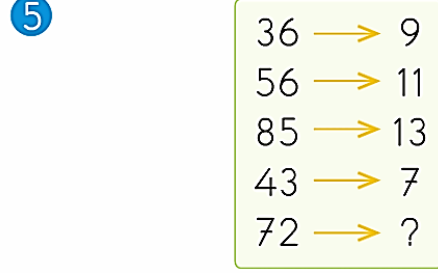
4

3	6	18
9	18	54
36	72	A

Yukarıdaki şekilde sayılar soldan sağa ve yukarıdan aşağıya doğru belli bir kurala göre yazılmıştır.

Buna göre A kaçtır?

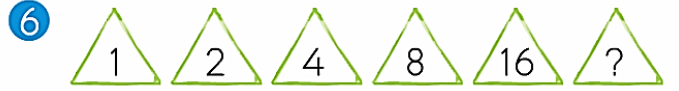
- A. 128 B. 196 C. 206 D. 216



Yukarıdaki şekilde sayılar arasında bir ilişki vardır.

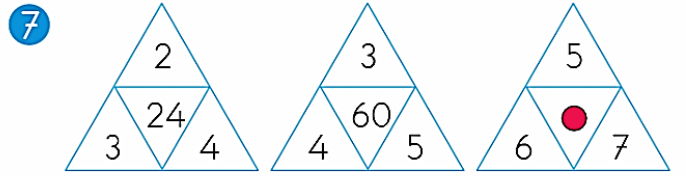
Bu ilişkiye göre ? yerine hangi sayı yazılmalıdır?

- A. 9 B. 10 C. 11 D. 12



Yukarıdaki sayı örüntüsünde ? yerine hangi sayı yazılmalıdır?

- A. 18 B. 24 C. 32 D. 36



Yukarıdaki şekillerde sayılar aynı kurala göre yerleştirilmiştir.

Buna göre ● kaçtır?

- A. 190 B. 210 C. 230 D. 250

8 Aşağıdaki sayı örüntülerinden hangisinin kuralı diğerlerinden farklıdır?

- A. 2 - 5 - 11 - 23 - 47
 B. 4 - 9 - 19 - 39 - 79
 C. 6 - 13 - 27 - 55 - 111
 D. 8 - 15 - 29 - 57 - 113

Doğal Sayılar Testi

- 9 Aşağıdaki sayılar en yakın oldukları yüzlüklere yuvarlanmıştır.

Bu yuvarlamalardan hangisi **yanlıştır**?

- A. 175 \rightarrow 200
B. 245 \rightarrow 200
C. 1250 \rightarrow 1400
D. 1550 \rightarrow 1600

- 10 I. 2950

II. 2955

III. 3049

IV. 3050

Verilen sayılardan hangileri en yakın yüzlüğe yuvarlandığında 3000 olur?

- A. I, III, IV B. I, II, III, IV
C. I, II, IV D. I, II, III

- 11 Aşağıdaki doğal sayılardan hangisi 9000'e **yuvarlanamaz**?

- A. 8950 B. 8099
C. 9040 D. 9049

- 12 En yakın onluğa yuvarlandığında 350 bulunan sayı **en çok** kaçtır?

- A. 345 B. 349
C. 354 D. 355

- 13 Aşağıdaki sayılar en yakın oldukları onluklara yuvarlanmıştır.

Bu yuvarlamalardan hangisi **yanlıştır**?

- A. 175 \rightarrow 170
B. 205 \rightarrow 210
C. 1245 \rightarrow 1250
D. 4025 \rightarrow 4030

14

7 6 8 7 9 8

Yukarıdaki sayı örüntüsü hangi sayı ile sürdürülmelidir?

- A. 8 B. 9 C. 10 D. 11

- 15 En yakın onluğa yuvarlandığında 400 elde edilen **en büyük** ve **en küçük** sayılar hangileridir?

En büyük En küçük

- | | |
|--------|-----|
| A. 405 | 395 |
| B. 404 | 395 |
| C. 405 | 394 |
| D. 404 | 394 |

- 16 En yakın yüzlüğe yuvarlandığında 2000 elde edilen **en büyük** ve **en küçük** sayılar hangileridir?

En büyük En küçük

- | | |
|---------|------|
| A. 2049 | 1951 |
| B. 2050 | 1950 |
| C. 2049 | 1949 |
| D. 2049 | 1950 |