


# Ölçüsü Verilen Açılarını Çizelim


Açı ölçüsü,  $s(\hat{A}) = 40^\circ$



Açı ölçüsü,  $s(\hat{H}) = 100^\circ$




Açı ölçüsü,  $s(\hat{B}) = 90^\circ$



Açı ölçüsü,  $s(\hat{E}) = 30^\circ$




Açı ölçüsü,  $s(\hat{C}) = 50^\circ$




Açı ölçüsü,  $s(\hat{K}) = 70^\circ$




Açı ölçüsü,  $s(\hat{G}) = 140^\circ$



Açı ölçüsü,  $s(\hat{F}) = 80^\circ$



Açı ölçüsü,  $s(\hat{D}) = 120^\circ$



Açı ölçüsü,  $s(\hat{N}) = 65^\circ$

