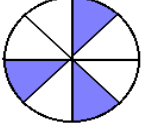



ADI SOYADI:		TARİH:
SINIF VE NO:		ALDIĞI NOT:

2017-2018 DERS YILI ÇAPA İLKOKULU MATEMATİK DERSİ/4.SINIF 2. DÖNEM 1. YAZILI SORULARI

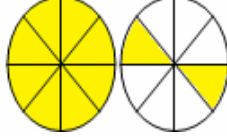
1) Aşağıdaki şekillerde boyalı kısımları gösteren kesirleri altlarına yazınız. (10 p)




.....




.....



.....

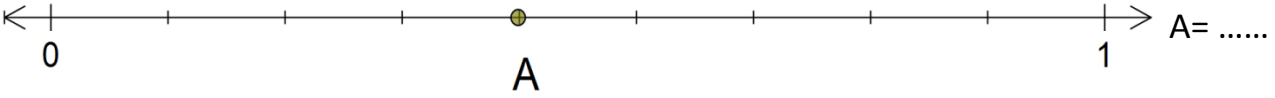


.....

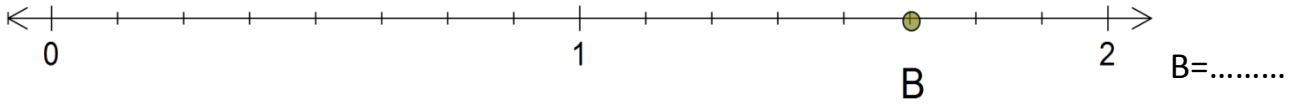


.....

2) Aşağıdaki sayı doğrusunda gösterilen harflere denk gelen kesirleri bulup yanına yazınız.(5 p)



A=



B=.....

3. Aşağıdaki kesirleri sembol kullanarak küçükten büyüğe doğru sıralayınız.(5 p)

$$\frac{8}{17}, \frac{5}{17}, \frac{10}{17}, \frac{3}{17} \longrightarrow \dots\dots\dots$$

4. Aşağıdaki kesirleri sembol kullanarak büyükten küçüğe doğru sıralayınız. (5 p)

$$\frac{7}{15}, \frac{7}{18}, \frac{7}{9}, \frac{7}{21} \longrightarrow \dots\dots\dots$$

5. Aşağıdaki kesir sayılarından basit kesir kutucuğuna X bileşik kesir kutucuğuna + koyun.(10 p)

$\frac{20}{19}$	$\frac{9}{6}$	$\frac{17}{25}$	$\frac{12}{11}$	$\frac{21}{10}$	$\frac{8}{8}$	$\frac{6}{7}$	$\frac{51}{75}$	$\frac{20}{20}$	$\frac{12}{15}$
-----------------	---------------	-----------------	-----------------	-----------------	---------------	---------------	-----------------	-----------------	-----------------

<input type="checkbox"/>	<input type="checkbox"/>	<input type="checkbox"/>	<input type="checkbox"/>	<input type="checkbox"/>	<input type="checkbox"/>	<input type="checkbox"/>	<input type="checkbox"/>	<input type="checkbox"/>	<input type="checkbox"/>
--------------------------	--------------------------	--------------------------	--------------------------	--------------------------	--------------------------	--------------------------	--------------------------	--------------------------	--------------------------

6) Bir günde ortalama 27 sayfa kitap okuyan Cengiz 18 gün boyunca kitap okuyor. Sonra geriye bitiremediği 26 sayfası kalıyor. Cengiz'in elindeki kitap toplam kaç sayfadır? (5p)

7) 95 L' lik sütün $\frac{3}{5}$ ' ü ile yoğurt yapılıyor. Geriye kalan süt kaç L'dir? (5p)

8) Enver ile babasının yaşları toplamı 50'dir. Babasının yaşı Enver'in yaşının 9 katı olduğuna göre babasının 3 yıl sonraki yaşı kaç olacaktır? (5p)

9) Aşağıdaki işlemleri yapınız. (10P)


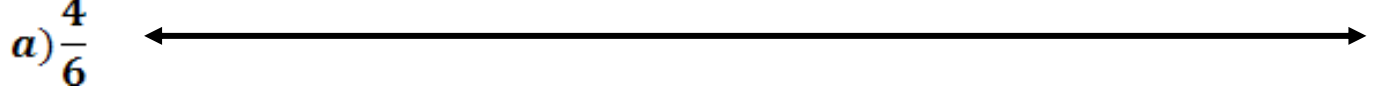
$$\begin{array}{r} 448 \\ \times 14 \\ \hline \end{array}$$

$$\begin{array}{r} 620 \\ \times 20 \\ \hline \end{array}$$

$$\begin{array}{r} 184 \\ \times 35 \\ \hline \end{array}$$

$$\begin{array}{r} 216 \\ \times 23 \\ \hline \end{array}$$

10.) Aşağıdaki kesirleri sayı doğrusunda gösteriniz. (10 p)



11.) Gülay 'ın 75 bilyesi Ahmet'in 15 bilyesi vardır. Gülay ile Ahmet bilyelerini birleştirip eşit paylaşırsa kaçar bilye düşer? (5p)

14) Aşağıdaki işlemleri kısa yoldan yapınız. (5p)

$$31200 : 100 = \dots\dots\dots$$

$$545000 : 1000 = \dots\dots\dots$$

$$80 : 10 = \dots\dots\dots$$

$$25\ 000 : 100 = \dots\dots\dots$$

$$9800 : 10 = \dots\dots\dots$$

12.) 72'nin 48 fazlasının çeyreği kaçtır? (5p)

15.) $\frac{5}{7} > \frac{A}{7} > \frac{2}{7}$ Yandaki sıralamaya göre "A" yerine yazılabilecek değerlerin çarpımı kaçtır? (5p)

13.) Bir bakkal elindeki 420 paket çikolatanın $\frac{3}{7}$ 'ünü sattı. Geriye kaç paket çikolata kaldı? (5p)

16.) Aşağıdaki işlemleri yapınız. (5p)

$$a) 45 \times (24 : 3) = \dots\dots\dots \times \dots\dots\dots =$$

$$b) 250 : (24 - 19) = \dots\dots\dots : \dots\dots\dots =$$

$$c) 72 + (140 : 5) = \dots\dots\dots + \dots\dots\dots =$$

$$d) (5 \times 24) : (25 - 5) = \dots\dots\dots : \dots\dots\dots =$$

Hepinize



başarılar dileriz..