

2017-2018 EĞİTİM ÖĞRETİM YILI 4. SINIF MATEMATİK DERSİ 1. DÖNEM 2. YAZILI

1 4 yüz binlik + 6 binlik + 3 yüzlük + 7 birlik

Yukarıdaki çözümlenmiş sayı aşağıdakilerden hangisidir?

- A)406 370 B)406 307 C)4637 D)46 037

2 13-18-17-22-21-26-25-.....

Yukarıdaki örüntüde noktalı yere hangi sayı yazılmalıdır?

- A)24 B)26 C)28 D)30

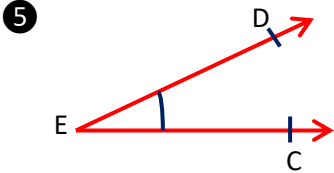
3 62 308 - 62 380 - 6 238 - 63 280

Yukarıdaki sayıların küçükten büyüğe sıralanışı hangisinde doğru olarak verilmiştir?

- A) 62 308 < 62 380 < 6 280 < 63 280
B) 63 280 < 62 380 < 62 308 < 6 238
C) 6 238 < 62 308 < 62 380 < 63 280
D) 6 238 < 62 380 < 62 308 < 63 380

4 8 - 5 - 0 - 2 Rakamları ile oluşturulabilecek dört basamaklı en küçük tek sayı hangisidir?

- A) 2085 B)8520 C)2058 D)0285



Yukarıdaki açının adlandırılışı hangisinde yanlıştır?

- A) CÊD B) Ê C) DÊC D) DÊE

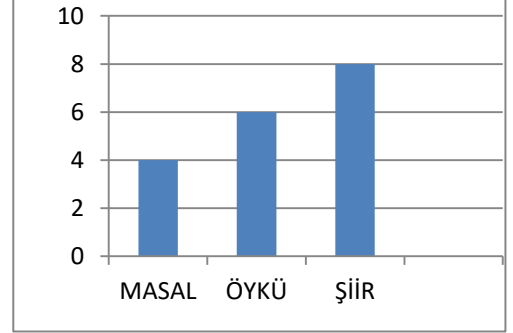
6 Aşağıdaki kutu içine $s(\hat{G})=50^\circ$ olan açı çiziniz.



7 Ölçüsü 90° den büyük , 180° den küçük olan açı çeşidi hangisidir?

- A)Dar açı B)Dik açı C)Doğru açı D)Geniş açı

8 EN ÇOK SEVİLEN KİTAP TÜRLERİ



Yukarıdaki sütun grafiğine göre aşağıdakilerden hangisi yanlıştır?

- A)En çok sevilen kitap türü şiidir.
B)En az sevilen kitap türü masaldır.
C)Şiir sevenlerin sayısı masal sevenlerden 2 fazladır.
D)Öykü sevenlerin sayısı şiir sevenlerden 2 azdır.

9 Aşağıdaki toplama işlemlerinden hangisi yanlıştır?

- | | | | |
|------------------------------------|------------------------------------|------------------------------------|------------------------------------|
| A) 4567
+ 3279

7846 | B) 2964
+ 6387

9351 | C) 3896
+ 3957

7853 | D) 1985
+ 5546

7421 |
|------------------------------------|------------------------------------|------------------------------------|------------------------------------|

10 Bir kömürcü sabah 769 Kg ,öğleden sonra 981 Kg kömür satıyor.Kömürcü gün boyunca toplam kaç Kg kömür satmıştır?

11 9 325

.....

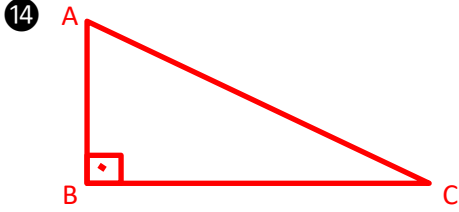
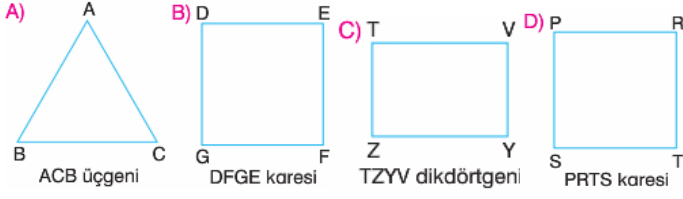
5 689

Yandaki çıkarma işleminde çıkan kaçtır?

- A) 3 636 B) 3 745 C) 3 366 D) 15 014

12 Bir okulda toplam 804 öğrenci vardır.Bunların 475 'i kız olduğuna göre erkek öğrenci sayısı kaçtır?

13 Aşağıda verilen geometrik şekillerden hangisi yanlış isimlendirilmiştir?

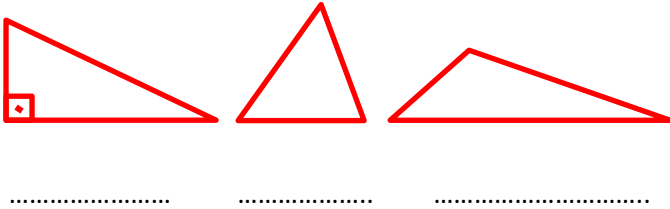


Yukarıdaki ABC dik üçgeninde $s(\hat{C})=40^\circ$ olduğuna göre A açısının ölçüsünü bulunuz.

15 Aşağıdakilerden hangisi kare ile dikdörtgenin ortak özelliklerinden değildir?

- A) Tüm kenarları eşit uzunluktadır.
- B) Tüm açıları dik açıdır.
- C) İki köşegeni vardır.
- D) Dört açısı ve dört kenarı vardır.

16 Aşağıdaki üçgenlerin açılarına göre hangi üçgen olduklarını noktalı kısımlara yazınız.



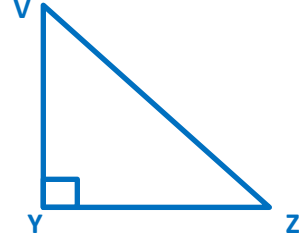
17 Bir metroda 657 yolcu vardır. Bu yolculardan 97 tanesi 1.durakta, 124 tanesi 2.durakta inmiştir. Metroda kaç yolcu kalmıştır?

18

$$\begin{array}{r} A258 \\ + 4BC3 \\ \hline 808D \end{array}$$

Yukarıdaki toplama işleminde $A+B+C+D$ kaçtır?

19



Yukarıdaki VYZ dik üçgeninde V açısının ölçüsü ile Z açısının ölçüsü birbirine eşittir. Y açısının ölçüsü 90° olduğuna göre Z açısının ölçüsünü bulunuz.

20 Aşağıya uzun kenarı 8 cm , kısa kenarı 3 cm olan bir dikdörtgen çiziniz.

Adınızı yazdınız mı?
Cevaplarınızı kontrol
ettiniz mi? ettiniz mi?



Her soru 5 puandır. Başarılar...