

2017-2018 EĞİTİM ÖĞRETİM YILI SANİ KONUKOĞLU İLKOKULU 4.SINIFLAR
MATEMATİK 1.DÖNEM 1.YAZILI SORULARI

ADI SOYADI:

TARİH:

19.10.2017

NO:

ALDIĞI NOT:

1) Aşağıdaki sayıların okunuşunu yazı ile, okunuşu verilen sayıları rakamlarla yazınız(15 puan).

90 009 :

101 010 :

Seksen beş bin on iki :

Dört yüz bin kırk dört :

Yedi yüz bin yetmiş :

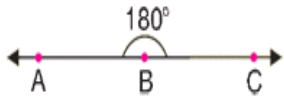
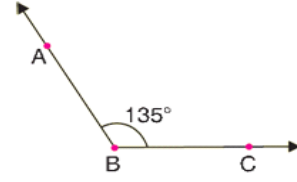
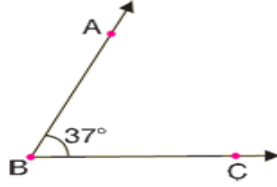
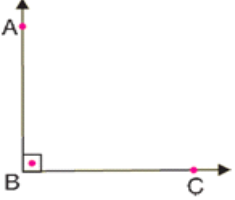
3) Aşağıdaki sayıları büyükten küçüğe **sembol** kullanarak sıralayınız.(5 puan).

52 492 - 51 501 - 524 510 - 52 429 -51 449 →

4) Aşağıdaki sayıları küçükten büyüğe **sembol** kullanarak sıralayınız.(5 puan).

83 580 – 118 626 – 83 577 – 120 041 – 84 050 →

5) Aşağıdaki açıların çeşitlerini noktalı yerlere yazınız. (10 PUAN)



6) Aşağıdaki sayının basamak adlarını ve değerlerini yazınız. (15PUAN)

673 852

basamak adı

basamak değeri

.....
.....
.....
.....
.....
.....
.....

.....
.....
.....
.....
.....
.....
.....

7) Aşağıdaki sayıları istenen şekilde çözümleyiniz(10 puan)

234 560 = + + + **500** + +
650 803 = + + + + + **3birlik**

8) Verilenlere göre aşağıdaki soruları cevaplayınız(10 puan)

3, 0, 7, 4 Rakamlarını birer kez kullanarak oluşturulabilen 4 basamaklı;

- 1) En küçük sayı kaçtır:
- 2) En büyük sayı kaçtır:.....
- 3) 7000 den küçük en büyük sayı kaçtır:.....
- 4) 4000 den büyük en küçük sayı kaçtır:.....
- 5) En büyük tek sayı kaçtır:.....

9) Aşağıdaki sayıları en yakın onluğa ve yüzlüğe yuvarlayınız(10 puan)

Sayı	En yakın onluk	En yakın yüzlük
4 723		
6 775		

10) Bölükleri verilen doğal sayıları yazınız (5 PUAN)

Binler bölümü =17 } Binler bölümü =209 }
Birler bölümü = 628 } Birler bölümü = 516 }

11) Aşağıdaki örüntüleri tamamlayınız(5 puan).

25- 32- 39- 46- 53 --.....-.....

20- 19- 24- 23- 28 -.....-.....-.....

12) 275 482 sayısının binler basamağındaki rakam yerine bunun 1 büyüğü yazılıyor. Onlar basamağındaki rakamın yerine de bunun 2 küçüğü yazılıyor. Hangi sayı elde ederiz? (10 Puan)

.....