


## KARE, DIKDÖRTGEN VE ÜÇGENİ ADLANDIRMA

1. Aşağıdaki dikdörtgeni aşağıdakilerden hangisi ile adlandırabiliriz?




- A) KLMN dikdörtgeni
- B) KNML dikdörtgeni
- C) KMNL dikdörtgeni
- D) MNKL dikdörtgeni

2. Aşağıdaki dikdörtgeni aşağıdakilerden hangisi ile adlandıramayız?



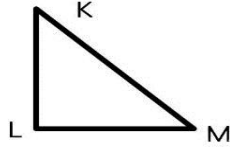
- A) ACDB dikdörtgeni
- B) ABCD dikdörtgeni
- C) ABDC dikdörtgeni
- D) CDBA dikdörtgeni

3. Yandaki dikdörtgeni aşağıdakilerden hangisi ile adlandıramayız?



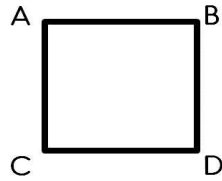
- A) PSTR dikdörtgeni
- B) STRP dikdörtgeni
- C) TRPS dikdörtgeni
- D) PRST dikdörtgeni

4. Yandaki üçgeni aşağıdakilerden hangisi ile adlandıramayız?



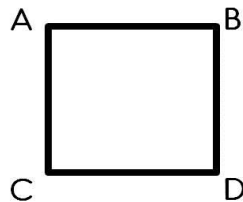
- A) KML üçgeni
- B) MLM üçgeni
- C) MLK üçgeni
- D) KLM üçgeni

5. Yandaki kareyi aşağıdakilerden hangisi ile adlandıramayız?



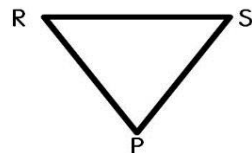
- A) ABDC karesi
- B) BDCA karesi
- C) ACDB karesi
- D) ABCD karesi

6. Aşağıdakilerden hangisi yandaki karenin kenarlarından birisi değildir?



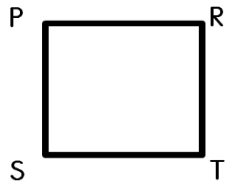
- A) AB
- B) CD
- C) AD
- D) BD

7. Yandaki üçgeni aşağıdakilerden hangisi ile adlandıramayız?



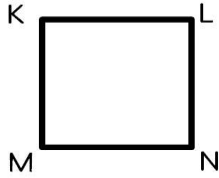
- A) PRP üçgeni
- B) PRS üçgeni
- C) RPS üçgeni
- D) SPR üçgeni

8. Yandaki kareyi aşağıdakilerden hangisi ile adlandıramayız?



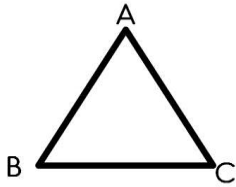
- A) PRST karesi
- B) PSTR karesi
- C) PRTS karesi
- D) STRP karesi

9. Yandaki kareyi aşağıdakilerden hangisi ile adlandırırız?



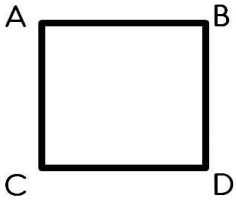
- A) KLMN karesi
- B) KNML karesi
- C) KMNL karesi
- D) MLKN karesi

10. Yandaki üçgeni aşağıdakilerden hangisi ile adlandıramayız?




- A) ABC üçgeni
- B) BCA üçgeni
- C) ACA üçgeni
- D) CAB üçgeni

11. Aşağıdakilerden hangisi yandaki karenin kenarlarından birisi değildir?



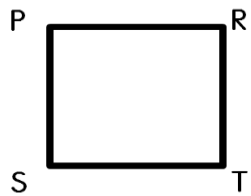
- A) AB
- B) CD
- C) AD
- D) BD

12. Aşağıdakilerden hangisi yandaki dikdörtgenin kenarlarından birisi değildir?



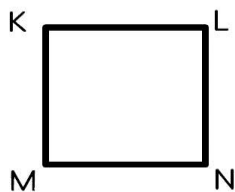
- A) KL
- B) KN
- C) MN
- D) NL

13. Aşağıdakilerden hangisi yandaki karenin kenarlarından birisi değildir?



- A) PR
- B) PS
- C) RT
- D) SR

14. Aşağıdakilerden hangisi yandaki karenin kenarlarından birisi değildir?



- A) KN
- B) KL
- C) KM
- D) LN