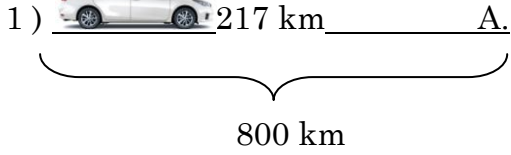



3. Sınıf Çıkarma Problemleri

Aşağıdaki problemleri çözünüz.



Yukarıdaki araba A noktasına gitmektedir. Bu araba 217 km yol gittiğine göre geriye kaç km yolu kalmıştır?

Muhammet ÖZENÇ



Uzunluğu 920 metre olan bir telin 145 metresi kesilince geriye kaç metresi kalır?

3)



Yandaki cevizlerin 287 tanesi satılınca geriye kaç ceviz kalır?


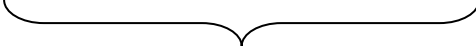
Muhammet ÖZENÇ

4)



Yandaki her bir sepette 115 er tane yumurta vardır. Bu yumurtaların 137 tanesi satılıyor, geriye kaç yumurta kalır?

3. Sınıf Çıkarma Problemleri

5)  141 km _____ A.

 930 km

Yukarıdaki araba A noktasına gitmektedir. Bu araba 141 km yol gittiğine göre geriye kaç km yolu kalmıştır?

Muhammet ÖZENÇ

6)



450 L

Yandaki varilin içi mazotla doludur. Bu mazotun 168 L si satılıyor, geriye kaç litre mazot kalır?

7)



Yandaki bidonların içi süt doludur. Bu sütlerin 138 litresi satılıyor. Geriye kaç litre süt kalır?

Muhammet ÖZENÇ

8)



Ahmet' in babası kışlık olarak 600 torba kömür aldı. O kış bunların 227 torbasını yaktılar. Ahmetler' in kaç torba kömürleri kalmıştır?