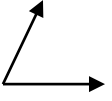
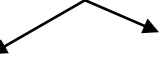



Adı Soyadı :


MATEMATİK DEĞERLENDİRME

1) Aşağıdakilerden hangisi **yanlıştır**?

- A)  dar açı
- B)  geniş açı
- C)  dik açı

2) Aşağıdaki harflerden hangisi **simetrik değildir**?

- A) **D** B) **K** C) **N**

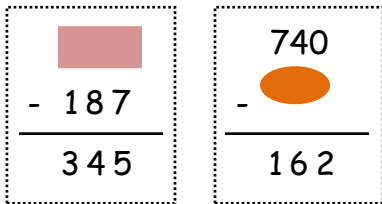
3) 



Yukarıdaki örüntüye göre ? yerine hangi sayı gelmelidir?







- A) 47 B) 46 C) 45

4) Okul kantininde 1.gün 228 2.gün 1.günden 156 fazla simit satılmıştır. Buna göre **iki güne toplam kaç simit satılmıştır**?

- A) 184 B) 412 C) 312

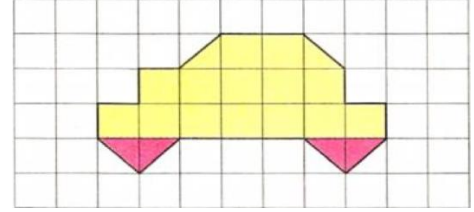
5) 

Yukarıdaki işlemlere göre  ve  sayıları **kaçtır**?

- A)  432  682
- B)  532  578
- C)  323  688

6) Aşağıdakilerden hangisinin sonucu **üç basamaklı değildir**?

- A) $\begin{array}{r} 82 \\ \times 5 \\ \hline \end{array}$ B) $\begin{array}{r} 32 \\ \times 3 \\ \hline \end{array}$ C) $\begin{array}{r} 74 \\ \times 6 \\ \hline \end{array}$

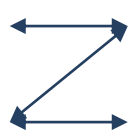
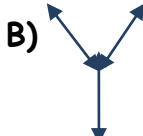
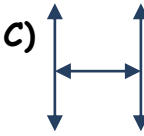



7)

Yukarıdaki şeklin alanı **kaç birim karedir**?

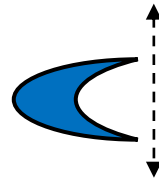
- A) 15 B) 17 C) 19

8) Aşağıdakilerden hangisinde **paralel doğrular yoktur**?

- A)  B)  C) 

9)  Yandaki geometrik şekli kullanarak aşağıdaki **şekillerden hangisi çizilemeyiz**?

- A) dikdörtgen B) daire C) kare



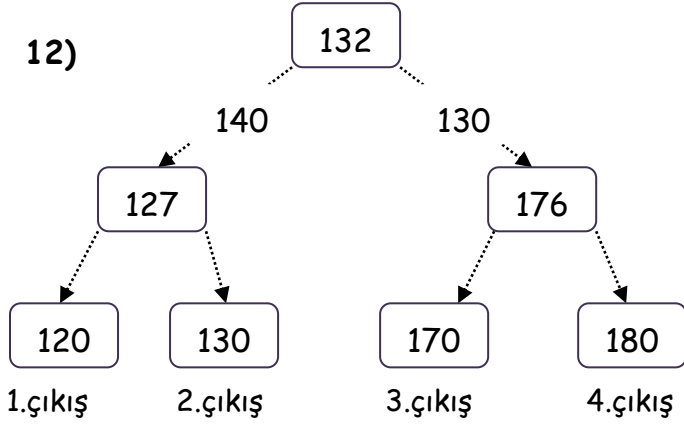
10) Yukarıdaki şeklin **simetriği hangisidir**?

- A)  B)  C) 

11) " 816 " sayısının basamak değeri hangi seçenekte **doğru olarak verilmiştir**?

	Yüzler bas.	Onlar bas.	Birler bas.
A	600	10	8
B	100	80	6
C	800	10	6

12)



Yukarıdaki şemadaki sayılar **en yakın onluğa yuvarlanarak** ilerlerse **hangi çıkışa ulaşılır**?

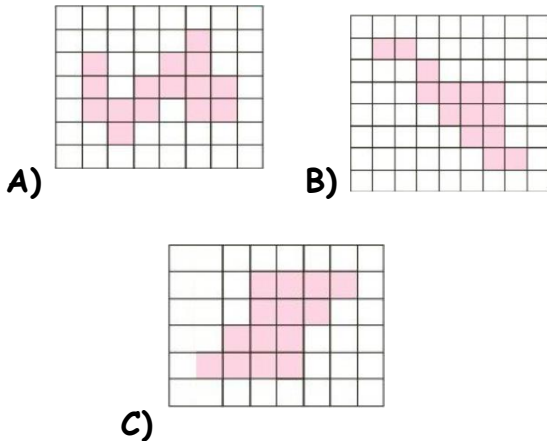
A) 2. çıkış B) 3. çıkış C) 4. çıkış

13) " 148 x 1 x 0 "

Yukarıdaki sayıların çarpımı aşağıdakilerden hangisidir?

A) 148 B) 1 C) 0

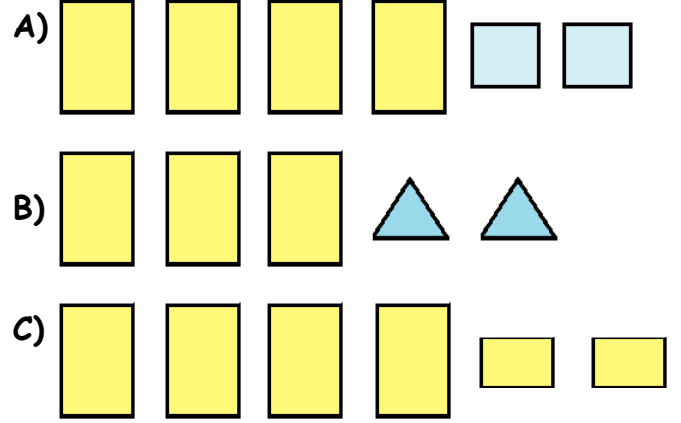
14) Aşağıdakilerden hangisinin **alanı diğerlerinden farklıdır**?



15) Serkan Bey 950 lira maaş almaktadır. 425 lira kira, 238 lira fatura ve 152 lira eve alışveriş yapmaktadır. **Cebinde kaç lirası kalır**?

A) 525 B) 287 C) 135

16) Aşağıdakilerden hangisinde **üçgen prizmanın yüzeyleri doğru olarak verilmiştir**?



17) Aşağıdaki harflerin hangisinde **dik kesişen doğrular vardır**?

A) T B) V C) N

18) Aşağıdaki sayılardan hangisini **en yakın onluğa yuvarlarsak sonuç 650 olmaz**?

A) 654 B) 648 C) 659

19) Aşağıdaki çarpma işlemlerinden **hangisinin sonucu farklıdır**?

A) $\begin{array}{r} 35 \\ \times 12 \\ \hline \end{array}$	B) $\begin{array}{r} 32 \\ \times 15 \\ \hline \end{array}$	C) $\begin{array}{r} 12 \\ \times 35 \\ \hline \end{array}$
$\begin{array}{r} \\ + \\ \hline \end{array}$	$\begin{array}{r} \\ + \\ \hline \end{array}$	$\begin{array}{r} \\ + \\ \hline \end{array}$