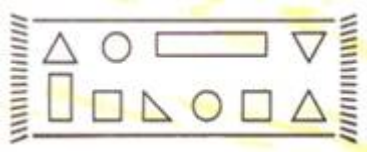


MATEMATİK

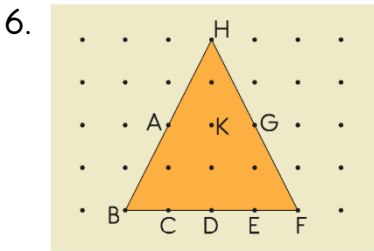
1. Bir karenin her köşesine bir nokta koyarsak kac tane nokta kullanmış oluruz?
A. 4
B. 3
C. 5
2. Aşağıdaki varlıkların hangisinde nokta modeli vardır?



3. Aşağıdakilerden hangisi doğrudur?
A. Noktalar rakamlarla gösterilir.
B. Noktalar büyük harfle gösterilir.
C. Noktalar küçük harf ile gösterilir.
4. Aşağıdakilerden hangisi bir düzlemdir?
A. Yazı tahtası
B. Basketbol topu
C. Kurşun kalem

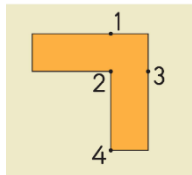


5. Yandaki halı üzerinde en fazla hangi düzlem modeli kullanılmıştır?
A. üçgen
B. Dikdörtgen
C. Daire



Yukarıdaki üçgenin köşelerinde hangi noktalar bulunmaktadır ?


- A) A,G,H
B) C,D,E,F
C) H,B,F
7. Yandaki noktalar 1 den başlanarak birleştirilirse hangi düzlemsel şekiller ortaya çıkar ?
A) 1 Üçgen 2 Dikdörtgen
B) 2 Dikdörtgen 2 Üçgen
C) 1 kare 1 dikdörtgen 2 üçgen



8. Aşağıda verilen ifadelerden kaç tanesi doğrudur?

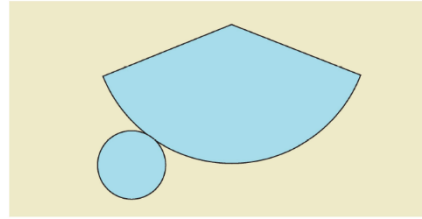
- ★ Duvar bir düzlem ise duvardaki tablo bir düzlemsel şekildir.
- ★ Odanın zemini bir düzlem ise yerdeki halı bir düzlemsel şekildir.
- ★ Tangram bir düzlem ise tangram parçası bir düzlemsel şekildir.

A) 1 B) 2 C) 3

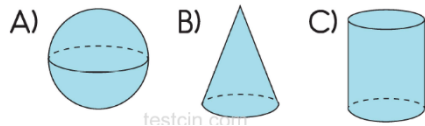


9. Sınıf duvarı üzerindeki sınıf tahtası hangisine örnektir?
A) Nokta
B) Düzlem
C) Düzlemsel Şekil


10.



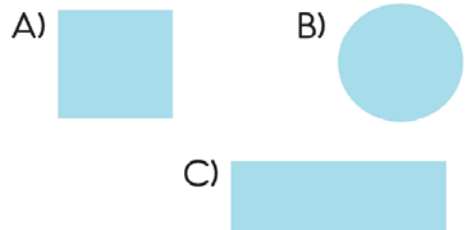
Açınımı yukarıdaki gibi olan cisim aşağıdakilerden hangisidir?



11.

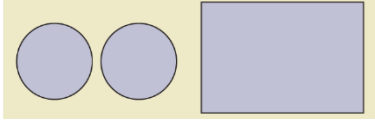


Aşağıdaki düzlemsel şekilden hangisi, yukarıdaki cismin yüzeylerinden biridir?



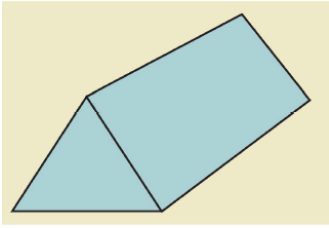
12.Yüzü ve yüzeyi aynı olan cisim hangisidir?

- A)küre
B)Silindir
C)Koni



13. Yukarıda verilen şekiller hangi geometrik cismin yüzeyleridir?

- A) Koni
B) Silindir
C) Küre



14. Yukarıdaki şekil kullanılarak hangi düzlemsel şekil çizilemez?

- A) Kare
B) Dikdörtgen
C) Üçgen

15. Tablo: Kümesteki Hayvanlar

Hayvan Çeşidi	Hayvan Sayısı
Horaz	4
Hindi	6
Tavuk	17

Yukarıdaki sıklık tablosunun çetele tablosu olarak gösterimi aşağıdakilerden hangisidir?

A) Çetele: Kümesteki Hayvanlar B) Çetele: Kümesteki Hayvanlar

Hayvan Çeşidi	Hayvan Sayısı	Hayvan Çeşidi	Hayvan Sayısı
Horoz		Horoz	
Hindi		Hindi	
Tavuk		Tavuk	

C) Çetele: Kümesteki Hayvanlar

Hayvan Çeşidi	Hayvan Sayısı
Horoz	
Hindi	
Tavuk	

Tablo: Sınıf Başkanı Seçimi

Adaylar	Oy sayısı
Baran	7
Yağmur	8
Deniz	12
Ferhat	5

16.Kim sınıf başkanı olmuştur?

- A)Baran
B)Ferhat
C)Deniz

17. Toplam kaç oy kullanılmıştır?

- A) 32
B) 34
C) 33

18. Deniz, Baran'dan kaç oy fazla almıştır?

- A)5
B)6
C)7



Not: Her şekil, 3 günü göstermektedir.

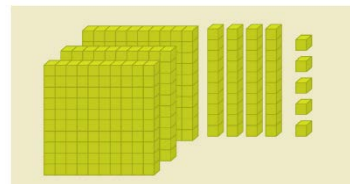
19. Yağmurlu gün sayısı kaçtır?

- A) 4
B) 12
C) 6

20. Güneşli gün sayısı bulutlu gün sayısından kaç fazladır?

- A)3
B)9
C)6

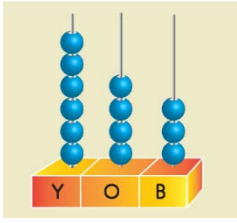
21.



Yukarıda bloklarla gösterilen sayı kaçtır?

- A) üç yüz kırk beş
B) dört yüz otuz beş
C)beş yüz kırk üç

22.



Yukarıda modellenen sayı kaçtır?

- A) 346 B) 463 C) 643

23. Okunuşu yedi yüz altmış dokuz olan sayı hangisidir?

- A) 769 B) 967 C) 679

24. Aşağıdaki sayılardan hangisi yüzlük ,onluk ve birliklerine yanlış ayrılmıştır?

A)

2	7	3
Y	O	B

B)

4	1	9
Y	O	B

C)

7	2	8
Y	O	B

25. Ahmet aldığı kitaplara 5 onluk 9 birlik 3 yüzlük ödemiştir. Ahmet kaç TL ödemiştir?

- A) 593 B) 395 C) 359

26. Dört yüz yedi sayısının onluk taban bloklarıyla gösterilişi hangisidir?

A)

B)

C)

27. 786 sayısındaki onlar basamağındaki sayının basamak değeri kaçtır?

- A) 70 B) 80 C) 8

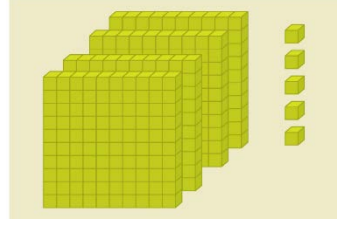
28.

534	159	565
245	785	

Yukarıdaki sayıların kaç tanesinin onlar basamağında 5 vardır ?

- A) 2 B) 3 C) 4

29.



Yukarıda gösterilen sayının yüzler basamağındaki sayının basamak değeri kaçtır?

- A) 4 B) 50 C) 40

30. Aşağıdakilerden hangisi basamak değerlerine yanlış ayrılmıştır?

A)

912		
900	10	2

B)

258		
200	50	8

C)

805		
800	10	5


31. Aşağıdakilerden hangisi doğrudur?

- A) $125 > 132$ B) $412 < 440$ C) $324 > 342$

32. Aşağıda verilen sayılardan hangisi en büyüktür?

- A) 3 birlik 8 yüzlük B) 6 onluk 4 yüzlük
C) 0 birlik 8 yüzlük

33.



Yukarıdaki sayılardan kaç tanesi 432 sayısından büyüktür?

- A) 3 B) 4 C) 5

34. 493 , 486, 499 sayılarının büyükten küçüğe doğru sıralanışı hangisidir?

- A) $499 < 493 < 486$
B) $486 > 493 > 499$
C) $499 > 493 > 486$

35. Aşağıdakilerden hangisi tek sayıdır?

- A) 172 B) 463 C) 986

36.

345	116	213
572	449	666
574	333	887

Yukarıdaki sayılardan kaç tanesi çift sayıdır?

- A) 4 B) 5 C) 6

108 - 110 - 112 - 114 - 116

37.

Yukarıdaki sayı örüntüsü ile aynı kurala sahip örüntü hangisidir?

- A) 2 - 4 - 6 - 8 - 10
B) 5 - 10 - 15 - 20 - 25
C) 3 - 6 - 9 - 12 - 15

38. 34 - 45 - 56 - 67 - -

.... Yerine hangi sayı gelmelidir?

- A) 76 B) 78 C) 79

39. 9 - G sınıfı romen rakamları yazılışı hangisidir?

- A) IV - G B) IX - G C) XI - G

40. Aşağıdaki eşleştirmelerden hangisi doğrudur?

- A) 14 → XIII B) 23 → VIII C) 16 → XVI


41.

3 5 7 9 11

Yukarıda verilen sayı örüntüsünün Romen rakamlarıyla gösterimi sırasıyla aşağıdakilerden hangisidir?

- A) III V VII IX XI
B) III V VI IX XII
C) IV V VIII IX XI

42.



Yukarıdaki sayılardan hangileri VII ile XII arasındadır?

- A) 1 B) 2 C) 3

43.

XVI XX XIV

Yukarıda verilen sayıların küçükten büyüğe doğru sıralanışı aşağıdakilerden hangisidir?

- A) XVI - XIV - XX
B) XIV - XX - XVI
C) XIV - XVI - XX