

Adı Soyadı :

HAYAT BİLGİSİ TESTİ

1) Sınıf başkanını ve yardımcısını **oy kullanarak seçmek** aşağıdakilerden hangisi ile ilgilidir?

- A) Saygıyla
- B) Demokrasiyle
- C) Sınıf kurallarıyla

2) Mahalle arkadaşlarımızla oyun oynarken bir arkadaşımız oyunbozanlık yaptı. **Sorunu nasıl çözmeliyiz?**


- A) Kavgaya ederek
- B) Onunla bir daha konuşmayarak
- C) Konuşarak

3) Aşağıdakilerden hangisi **olumsuz bir davranıştır?**

- A) Ortak kullandığımız eşyalara özen göstermeyiz.
- B) Öğretmenden sonra sınıfa girmemeliyiz.
- C) Arkadaşlarımızla yardımlaşmalıyız.

4) Aşağıdakilerden hangisi **milli bayramlarımızdan biri değildir?**

- A) Ramazan Bayramı
- B) Cumhuriyet Bayramı
- C) Zafer Bayramı

5)  Her yıl 19 Mayıs'ta Atatürk'ü Anma Gençlik ve Spor Bayramı'nı kutluyoruz.

19 Mayıs 1919 tarihinin aşağıdakilerden hangisi ile bir ilişkisi vardır?

- A) TBMM'nin açılışı
- B) Cumhuriyet'in ilan edilmesi
- C) Atatürk'ün Samsun'a çıkışı

6) Yolda bir trafik kazası gördüğümüzde ilk önce aşağıdaki numaralardan hangisini aramalıyız?

- A) 110
- B) 112
- C) 155

7) Trafik ışık ve işaretleri için aşağıdakilerden hangisi doğrudur?

- A) Trafiği düzenler ve kazaları azaltır
- B) Sadece sürücüler içindir
- C) Sokakların güzel görünmesi içindir

8) İstiklal Marşı ile ilgili aşağıdaki bilgilerden hangisi yanlıştır?

- A) Milli marşımızdır.
- B) Yazarı Mehmet Akif ERSOY'dur.
- C) Toplam iki kıtadan oluşmaktadır.

9) Evimizin adresini söylerken aşağıdakilerden hangisini **söylemeye gerek yoktur?**

- A) Mahalle adını
- B) Sokak adını
- C) Telefon numarasını


10) Aşağıdakilerden hangisine **bakarak güneye gidebiliriz?**

- A) Ağaçların yosunlu kısmı
- B) Karınca yuvalarının ağzı
- C) Güneşin battığı yer

11) Camilerin şerefeli kapıları güneşin doğduğu yer gösterir.

Yukarıdaki boşluklara sırasıyla hangileri yazılmalıdır?

- A) Kuzey - Batı
- B) Güney - Doğu
- C) Güney - Batı

12)  Ampulü bularak insanlığa hizmet eden bilim adamı aşağıdakilerden hangisidir?

- A) Graham Bell
- B) Edison
- C) Pasteur

13)  Yandaki resim hangi aile modeline örnektir?

- A) Çekirdek aile
- B) Geniş aile
- C) Büyük aile

14) Kutladığımız milli bayramların tarihi olaylarla ilgisi vardır.

Buna göre TBMM'nin açıldığı günü hangi bayram olarak kutlarız?

- A) 19 Mayıs Atatürk'ü Anma Gençlik ve Spor Bayramı
- B) 30 Ağustos Zafer Bayramı
- C) 23 Nisan Ulusal Egemenlik ve Çocuk Bayramı

15) I. Alışveriş yaptıktan sonra mutlaka ★
..... almalıyız.

II. Satın aldığımız ürünlerin üzerinde ●
olmalıdır.

III. ▲ geçmiş ürünleri kesinlikle almamalıyız.

Yukarıdaki boşluklara sırasıyla neler gelmelidir?

| | ★ | ● | ▲ |
|----|-----------------|-------------|---------------------|
| A) | garanti belgesi | uyarı | üretim tarihi |
| B) | para üstü | TSE damgası | kalitesi |
| C) | fiş | TSE damgası | son kullanma tarihi |

16) Aşağıdaki davranışlardan hangisi olumsuz bir davranıştır?

- A) Başkasına ait olan bir şeyin kendimizin olduğunu söylemek.
- B) Verdiğimiz sözü yerine getirmek.
- C) Başkalarına yalan söylememek.

17) I. Pusula

II. Ağaçların yosunlu tarafı




III. Saat

IV. Kutup Yıldızı

Yönümüzü kaybettiğimizde hangisinden faydalanmayız?


- A) I
- B) II
- C) III

18) Aşağıdakilerden hangisi hem görsel hem de işitsel bir iletişim aracıdır?


- A) 
- B) 
- C) 

19) Aşağıdaki akrabalarımızdan hangisinin baba tarafından bir yakınlığı yoktur?


- A) Teyze
- B) Hala
- C) Amca

20)  Aracıyla insanları istedikleri yere götürür.

Aysun

 Hastaları tedavi eder.

Fatma

 Hastalara reçetedeki ilaçları verir.

Ali

Hangi öğrenci şoförlük mesleğini anlatmıştır?

- A) Aysun
- B) Fatma
- C) Ali