



ALİ NERKİZ DENEME SINAVLARI (KAZANIM DEĞERLENDİRME SINAVLARI)

3. Sınıf

Deneme Sınavı – 1

ADI :.....

SOYADI :.....

OKULU :.....

SINIFI :.....

Ali Nerkiiz



AN

TÜRKÇE TESTİ

BU BÖLÜMDE CEVAPLAYACAĞINIZ SORU SAYISI **15**'TİR. CEVAPLAMAYA İSTEDİĞİNİZ SORUDAN BAŞLAYABİLİRSİNİZ. CEVAPLARINIZI CEVAP KAĞIDININ **TÜRKÇE BÖLÜMÜNE** İŞARETLEYİNİZ. **BAŞARILAR.**

PENGÜEN

Temel, evinin bahçesinde pek güzel bir penguen bulmuş. Bu pengueni çok sevmiş. Onunla birlikte yolda yürürken bir polisle karşılaşmış.

Polise sormuş:

- Bu pengueni ne yapayım ?

Polis ona:

- Hayvanat bahçesine götür, diye cevap vermiş.

Temel, pengueni alıp hayvanat bahçesine götürmüştü. Aradan birkaç gün geçmiş. Temel yine yolda polisle karşılaşmış. Yanında penguen de varmış.

Polis şaşırarak:

- Ben sana pengueni hayvanat bahçesine götür dememiş miydim, demiş.

Temel gülümsemiş:

- Götürdüm efendim, demiş. Şimdi de sinemaya götürüyorum, demiş.

Not: 1. 2. ve 3. soruları metne göre cevaplayınız.

1. Temel, pengueni nerede bulmuş?

- a. Sokakta
- b. Bahçede
- c. Sinemada

2. Temel, yolda kiminle karşılaşmış?

- a. Polisle
- b. Karısıyla
- c. Arkadaşıyla

3. Temel hayvanı ilk nereye götürmüştü?

- a. Sinemaya
- b. Ormana
- c. Hayvanat bahçesine



“Kırtasiyeden iki silgi, kırmızı kalem ve üçgen boya aldım.”

4. Yukarıdaki cümlede büyük ünlü uyumuna uymayan sözcükler aşağıdakilerden hangisinde doğru olarak verilmiştir?

- a. kırtasiyeden – kalem
- b. silgi – kalem
- c. kırmızı – üçgen

5. Kederde, sevinçte bir
Vatan için can verir
ATA’nın izindedir
Benim yüce milletim...

Yukarıdaki şiirde zıt anlamlı kelimeler aşağıdakilerden hangisidir?

- a. Vatan – Millet
- b. Keder – sevinç
- c. Vatan – can

6. “Murat dün bahçede resim”

Yukarıdaki cümle aşağıdakilerden hangisiyle tamamlanamaz?

- a. yapıyor.
- b. yaptı.
- c. yapmış.

7. Aşağıdaki çocuklardan hangisinin söylediği cümlede daha az hece vardır?



Çilek, limondan daha tatlıdır.



Babam karne hediyesi olarak bisiklet aldı.



Yeni bisikletim eskisinden daha güzel.



8. Aşağıdakilerden hangisi olumsuz cümledir?

- a. Mehmet şişman, Osman ise zayıftır.
- b. Ekrem bisiklete binmeyecek.
- c. Ayşe'nin kedisi çok acıkmış.

9. Yukarıdaki cümlede altı çizili kelime aşağıdakilerden hangisinde aynı anlamda kullanılmıştır?

- a. Aslı havuzda yüzmeyi çok seviyor.
- b. Güneş gözlüğünü yüz liraya almış.
- c. Sabah kalkar kalkmaz elimi yüzümü yıkadım.

10. Aşağıdaki ifadelerin hangisi yanlıştır?

- a. Alfabemizde 29 harf vardır.
- b. Türkçe sözcüklerde “j” harfi kullanılmaz.
- c. Türkçe sözcüklerde “f” harfi kelimenin ilk harfi olamaz.

11. İLAN 29 EDİLDİ EKİM'DE CUMHURİYET

Yukarıdaki kelimelerle kurallı ve anlamlı bir cümle oluşturulduğunda ilk kelime hangisi olur?

- a. EDİLDİ
- b. CUMHURİYET
- c. EKİM'DE

12. Aşağıdaki sözcüklerden hangisi alfabetik sıralamaya göre doğru sıralanmıştır

- a. Kağıt – kalem – kalemlik – kitap
- b. Kağıt – kalemlik – kalem – kitap
- c. Kalem – kağıt – kitap – kalemlik

Mevsime göre giyin,
Hiç üşütme kendini.
Zamanında aşı ol,
Sık sık yıka elini.

Kızartma, yağlı, acı,
Sağlığı bozmaktadır.
Sebze, meyve baş tacı,
Süt en doğal gıdadır...

Beytullah HATOĞLU

13. Şiirin birinci dördlüğü toplam kaç heceden oluşmaktadır?

- a. 25
- b. 28
- c. 7

14. Aşağıdaki sözcüklerden hangisinde büyük ünlü uyumu aranmaz?

- a. Galatasaray
- b. Mersin
- c. Ekim

“Ormandaki tüm hayvanlar birbirleriyle barış ve kardeşlik içinde yaşarlarmış da, bu kardeşliği bozan bir beyaz tavşan varmış. Aslanın yelesini, zürafanın boyunu, filin gücünü ve yılanın kıvrak dansını kıskanır, içi içini yermiş. Onların bu üstünlüklerine çok öfkelenir ama aslan, fil, zürafa ve yılan kendisinden çok güçlü ve büyük oldukları için elinden de bir şey gelmezmiş. Sonunda kaplumbağa gelmiş tavşanın aklına. Bedenini sarıp koruyan o zırh gibi kalın ve güçlü kabuğundan ötürü kaplumbağayı da kıskanıyormuş.”

15. Yukarıdaki metinde hikâye unsurlarından hangisi yoktur?

- a. Kahraman
- b. Zaman
- c. Yer

TÜRKÇE TESTİ BİTMİŞTİR.



MATEMATİK TESTİ

BU BÖLÜMDE CEVAPLAYACAĞINIZ SORU SAYISI **15**'TİR. CEVAPLAMAYA İSTEDİĞİNİZ SORUDAN BAŞLAYABİLİRSİNİZ. CEVAPLARINIZI CEVAP KÂĞIDININ **MATEMATİK** BÖLÜMÜNE İŞARETLEYİNİZ. **BAŞARILAR.**

TABLO: 3/A Sınıfının sevdiği oyunlar

OYUN ADI	ÖĞRENCİ SAYISI
KÖREBE	9
YAKAR TOP	7
SAKLAMBAÇ	13
İP ATLAMA	12

NOT: 1,2,3, ve 4. Soruları tabloya göre cevaplayınız

1. Öğrencilerin en çok sevdiği oyun hangisidir?

- a. Yakar top b. saklambaç c. ip atlama

2. saklambaç oynamayı sevenler, yakar top oynamayı sevenlerden ne kadar fazladır?

- a. 4 b. 5 c. 6

3. 3/A sınıfı toplam kaç kişidir?

- a. 32 b. 40 c. 41

4. Tabloya bakarak hangisini anlayamayız?

- a. 3/A sınıfında kaç kız öğrenci vardır?
b. En çok sevilen oyun hangisidir?
c. En az tercih edilen oyun hangisidir?
d.



5. Yukarıdaki cisimlerden kaç tanesinin ayrıtı ve köşesi yoktur?

- a. 2 b. 4 c. 6



119	75	208	243
-----	----	-----	-----

6. Yukarıdaki sayılar hangi seçenekte küçükten büyüğe doğru sıralanmıştır?

- a. $75 - 119 - 243 - 208$
b. $208 - 243 - 75 - 119$
c. $75 - 119 - 208 - 243$

7. Manav Salih 94 kilo portakalın bir kısmını sattı. Geriye 48 kilo portakal kaldı. Buna göre Manav Salih kaç kilo portakal satmıştır?

- a. 46 b. 54 c. 56



8. 2 onluk 3 yüzlük 9 birlikten oluşan sayı hangisidir?

- a. 932 b. 239 c. 329

9. Aşağıdakilerden hangisinin sonucu en küçüktür?

- a. $38+27$ b. $86-17$ c. 9×5

<div style="border: 1px solid blue; padding: 5px; display: inline-block;">Küpün 6 yüzü, 8 köşesi, 12 ayrıtı vardır.</div>	DOĞRU	Üçgen prizmanın 3 yüzü, 6 köşesi 9 ayrıtı vardır.	DOĞRU	1
			YANLIŞ	2
	YANLIŞ	Kürenin 1 yüzü vardır. Köşesi ve ayrıtı yoktur.	DOĞRU	3
			YANLIŞ	4

10. Yukarıdaki “Doğru – Yanlış” sorularını cevaplayan öğrenci kaç numaralı kutuya ulaşır?

- a. 1 b. 2 c. 3





11. Yukarıdaki resme göre 3. sırada olan hayvan hangisidir?
- a. Kuzu b. İnek c. Köpek

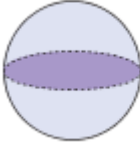
12. Yanda açılımı verilen geometrik cisim aşağıdakilerden hangisidir?

- a. Kare prizma
b. Dikdörtgen prizma
c. küp



13. Aşağıdaki geometrik cisimlerden hangisini yüzü ve yüzeyi aynıdır?


A)



B)



C)



14. 435 sayısında basamak değeri 30 olan sayı hangisidir?
- a. 4 b. 3 c. 5

15. Aşağıdaki düzlem – düzlemsel şekil eşleştirmelerinden hangisi doğrudur?

DÜZLEM	DÜZLEMSEL ŞEKİL
a. Duvar	Resim
b. Voleybol sahası	okul bahçesi
c. Yapboz parçaları	yapboz

MATEMATİK TESTİ BİTMİŞTİR.



HAYAT BİLGİSİ TESTİ

BU BÖLÜMDE CEVAPLAYACAĞINIZ SORU SAYISI **10**'DUR. CEVAPLAMAYA İSTEDİĞİNİZ SORUDAN BAŞLAYABİLİRSİNİZ. CEVAPLARINIZI CEVAP KAĞIDININ **HAYAT BİLGİSİ** BÖLÜMÜNE İŞARETLEYİNİZ. **BAŞARILAR.**

1. Okula hazırlıklı gelmeyen bir öğrenci hangi sorunu yaşayabilir?

- a. Derste başarılı olur.
- b. Arkadaşlarının saygısını kazanır.
- c. Derslerinde geri kalır ve başarısı düşer.

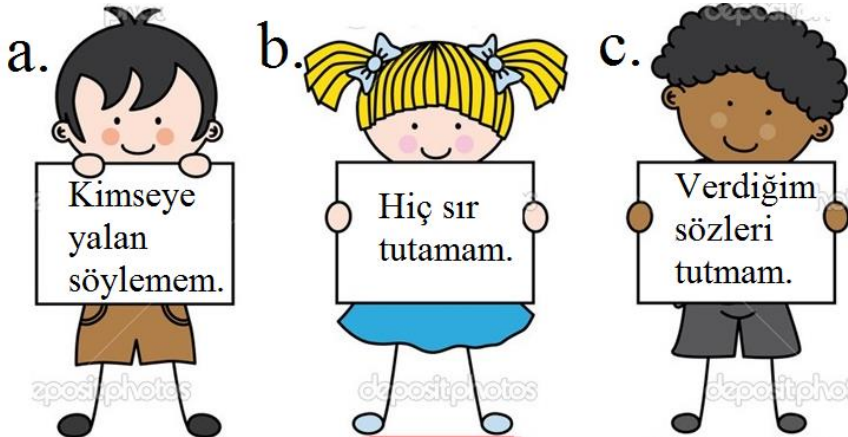
2. Aşağıdaki bilgilerden hangisi doğrudur?

- a. Bütün öğrenciler benim sevdiğim oyunu sevmelidir.
- b. İnsanlar arasında fiziksel ve duygusal farklılıklar olabilir.
- c. Uzun boylu öğrenciler çok zeki olurlar.

3. Etkili bir iletişim için aşağıdakilerden hangisi yanlıştır?

- a. Konuşmacıya istediğim zaman soru sorarım.
- b. Konuşurken dinleyicinin yüzüne bakarım.
- c. Konuşanın sözünü kesmem.

4. Aşağıdaki çocuklardan hangisine güvenirsiniz?



“İnsanlar kendilerini evlerinde ve hisseder.”

5. Yukarıdaki cümlede noktalı yerlere hangileri gelmelidir?

- a. huzurlu – güvende
- b. rahatsız – tutumlu
- c. tasarruflu – korkak

“3/B sınıfıyla yaptığımız futbol maçını onlar kazandı.”

6. Bu sözleri söyleyen Mustafa nasıl davranmalıdır?

- a. 3/B sınıfından hiç kimseyle konuşmamalı.
- b. Arkadaşlarını tebrik etmeli.
- c. Bir daha futbol oynamamalı.

“ Arkdadaşlarım doğum günümü hatırlamadı.”

7. Yukarıdaki sözü söyleyen Ayşe hangi duyguyu yaşamaktadır?

- a. Mutluluk
- b. Üzüntü.
- c. Şaşkınlık.

8. Aşağıdakilerden hangisi demokrasi kavramı ile ilgilidir?

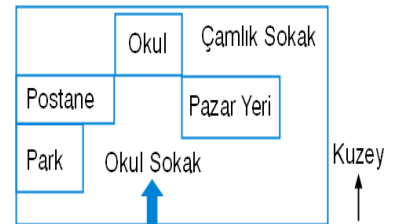
- a. Sınıf başkanını öğrencilerin seçmesi.
- b. Okul başkanını müdürün seçmesi.
- c. Başkan yardımcısını sınıf başkanının seçmesi.

9. Arkadaşlarının kötü bir davranışıyla karşılaşan Emre, aşağıdakilerden hangisini **yapmamalıdır?**

- A) Sorunu arkadaşıyla açıkça konuşmalıdır.
- B) Öğretmeninden yardım isteyebilir
- C) Emre de arkadaşlarına kötü davranmalıdır.

10. Krokiye göre postane, parkın neresindedir?

- a. Doğusunda b. Kuzeyinde c. Güneyinde



HAYAT BİLGİSİ TESTİ BİTMİŞTİR.



FEN BİLİMLERİ TESTİ

BU BÖLÜMDE CEVAPLAYACAĞINIZ SORU SAYISI **10**'DUR. CEVAPLAMAYA İSTEDİĞİNİZ SORUDAN BAŞLAYABİLİRSİNİZ. CEVAPLARINIZI CEVAP KAĞIDININ **FEN BİLİMLERİ** BÖLÜMÜNE İŞARETLEYİNİZ. **BAŞARILAR.**

1. Dünyanın dış katmanları nelerdir?

- a. Taş küre – su küre – hava küre
- b. Manto – Çekirdek – yer kabuğu
- c. Yer kabuğu – su küre- manto

2. Sahile doğru yaklaşan bir gemiye baktığımızda önce geminin direkleri görülür. Daha sonra gövdesini görürüz.

Yukarıdaki bilgiye bakarak; bu durum aşağıdakiler-den hangisinin kanıtıdır?

- A) Denizlerin tuzlu olduğunu
- B) Gemilerin çok hızlı hareket ettiğini
- C) Dünya'nın yuvarlak olduğunun

3. Dünya'nın şeklinin yuvarlak olduğunu kanıtlayan Orta Asyalı Türk bilim adamı aşağıdakilerden hangisidir?

- A) Biruni B) Macellan C) Pisagor

1-Dünyamız, küre şeklindedir.

2-Dünyamız, hava, kara ve su tabakasından oluşur.

3-Dünya'mızın dörtte üçü su tabakasıdır.

4. Yukarıdaki hangi maddeler doğrudur?

- A) 1,3 B) 1,2,3 C) 1,2

5. Gözümüzle göremediğimiz, varlığını rüzgar gibi esintisinden anladığımız tabaka hangisidir?

- A) Su tabakası B) Hava tabakası C) Kara tabakası



4. Vücudumuzun dengesini sağlamada da görevi olan duyu organımız hangisidir?

- a. Göz b. Kulak c. Burun

7. Hangi iki organımız ortak çalışmaktadır?

- a. Dil – burun b. Kulak – Deri c. Deri – göz

8. aldığımız nefesi ısıtan, temizleyen ve nemlendiren organımız hangisidir?

- a. Kulak b. Deri c. Burun

9. Aşağıdakilerden hangisi deri sağlığını korumak için yapılması gerekenlerden biri değildir?

- a. Hiçbir zaman güneşe çıkmamak.
b. Sık sık banyo yapmak.
c. Kesici, delici aletlerle oynamamak.

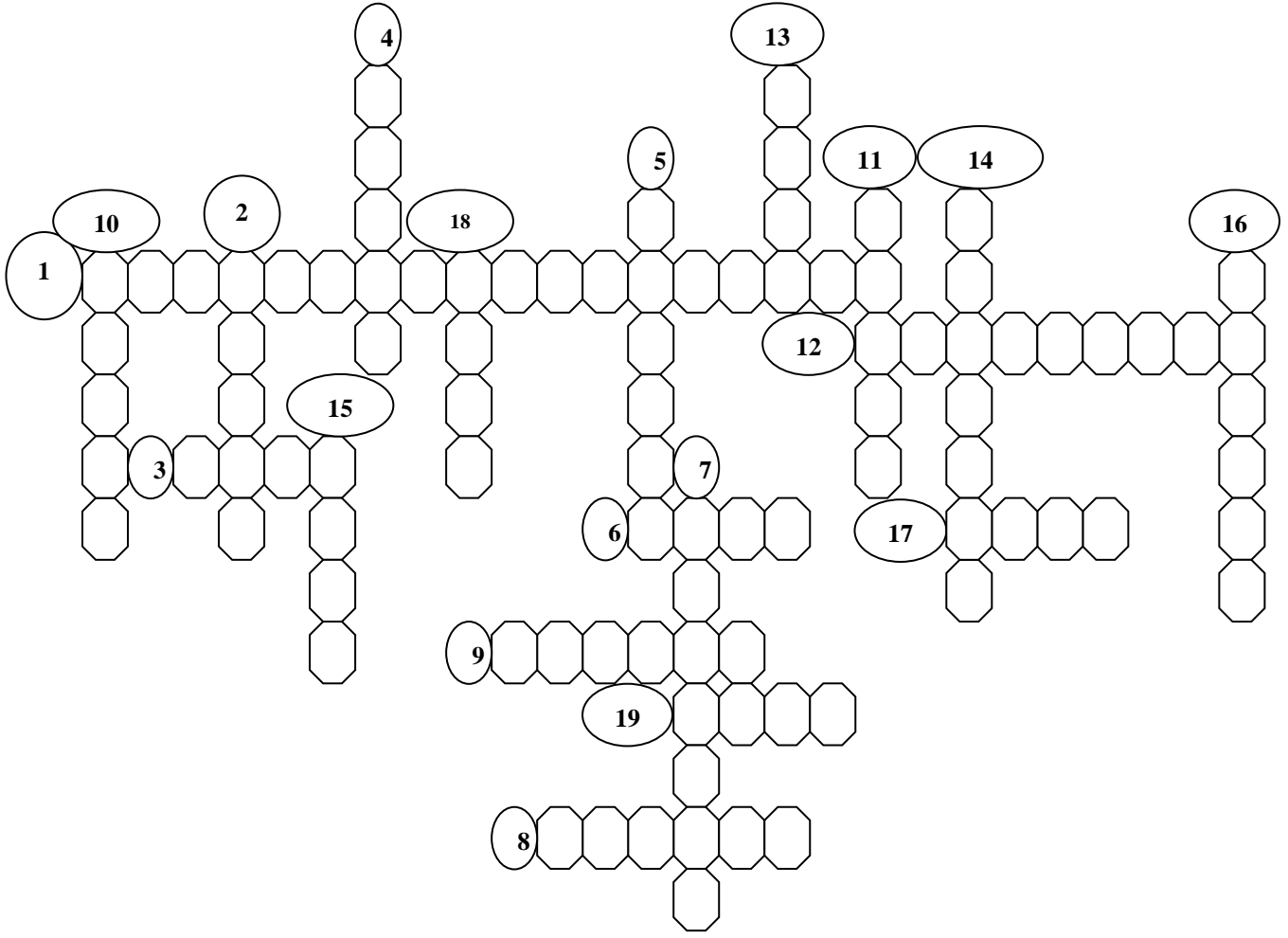
10. Dil ile ilgili ifadelerden hangisi doğrudur?

- a. Dilin ön bölümü acı tadı algılar.
b. dilin arka yan bölümü tuzlu tadı algılar.
c. Dil burun ile ortak çalışır.

FEN BİLİMLERİ TESTİ BİTMİŞTİR.



“”“ ÇENGEL BULMACA ”””



- 1.Devletimizin adı.
2. İşitme duyu organımız.
3. Trafikte hazır ol anlamındaki renk.
4. Isı ve ışık kaynağımız.
5. Kış mevsiminin ilk ayı.
6. Vücudumuza kan pompalayan organımız.
7. Cumhuriyetimizin kurucusu.
8. Zelzele.
9. Sınıf temsilcisi.
10. Aynı amaç için bir araya gelen insanlar.
11. Önder.
12. Bir işi başarmak için bilgi, beceri ve güçlerin bir araya getirilmesi.
13. Yediğimiz besinleri sindiren organ.
14. Toprak kayması.
15. Sıcakla soğuk arası.
16. Yazılı bir iletişim aracı.
17. Anne ,baba ve çocuklardan oluşan topluluk.
18. Bir hava taşıtı.
19. Kar fırtınası.

ALI NERKİZ DENEYİ SINAVLARI



EĞİTİMDE FEDA EDİLECEK
TEK BİR FERT YOKTUR.

K. Atatürk