

.....İLKOKULU SINIFI 2. DÖNEM TÜM DERSLER
29.DENEME SINAVI

TÜRKÇE DERSİ BÖLÜMÜ

1) Aşağıdakilerden hangisi **cümle değildir ?**

- A. Geçen sene çay toplamak.
- B. Seneye dördüncü sınıftayım.
- C. Arkadaşımla ders çalıştık.

2) Okuldan çıkıp servise bindim. Eve ulaştığımda akşam ezanı okunuyordu. Annem yine mis gibi yemekler pişirmişti.

Yukarıdaki metin **kaç cümleden oluşur ?**

- a) 2 b) 5 c) 3

3) kelime hazinesi , para kesesi gibidir . üstüne eklendikçe sayısı artar.

Yukarıdaki tümcelerde hangi kelimelerin **baş harfi büyük harfle yazılmalıdır ?**

- A. kelime - üstüne
- B. para - zenginleşir
- C. hazine - artar

4) “ **sürmek** “ kelimesi aşağıdaki cümlelerin hangisinde **farklı anlamda kullanılmıştır ?**

- A.) Çocuk , ablasının boya kalemini duvara sürmüş.
- B.) Çiftçi , traktörle tarlasını sürmüş.
- C.) Bebek , mamasını yüzüne gözüne sürmüş.

5) Aşağıdaki cümlelerin hangisinde **şaşırtma anlamı vardır ?**

- A) Sınavdan en yüksek puanı demek sen aldın !
- B) Akşamki maçı hangi takım kazanır ?
- C) Bir daha annenden izinsiz dışarı çıkayım deme !

6) “ Bilinçsiz piknikçilerin söndürmedikleri mangallar çok tehlikelidir. Bir tek kıvılcım , tüm ormanı yok edebilir. Hayvan otlatmak ve tarla açmak için ağaç kesimi de ormanlarımızın yok olmasının sebeplerindendir. “

Paragrafta , **ormanlarımıza zarar verenler** arasında aşağıdakilerden **hangisi olamaz ?**

- A) Hayvan otlatılması
- B) Yangınlar
- C) Tarlaların sulanması

7) “ Oltanın ucunda büyük balık vardı. “

Cümlesindeki hangi kelime **varlığın özelliğini belirtir ?**

- A) olta B) vardı C) büyük

8) Aşağıda verilen özel isimlerden hangisi **doğru yazılmıştır ?**

- A) Kayserili B) Yusufun C) yedisu’ da

9) " BARAJ - BALTA - BAŞAK “

Yukarıdaki kelimelerin **baştan sona doğru sıralanışı** hangi seçenekte verilmiştir ?

- A) baraj – balta – başak
- B) başak – baraj – balta
- C) balta – baraj - başak

10) Aşağıdaki kelimelerin hangisi **hiç ek almamıştır ?**

- A) ekmeğim B) demirci C) pencere

Bir hayat var çalışmakta,
Bir sevinç var başarmakta .
Bir çiçeğiz şu toplumda.
Amacımız hep ileri ,
Biz yarının büyükleri.

11.ve 12. Soruları şiire göre cevaplayınız.

11) Şiirdeki “ Biz yarının büyükleri . “
mısrasında sözü edilen **ashağıdakilerden hangisidir**
?

- A) aile büyükleri
- B) çocuklar
- C) küçük çiçekler

12) Şiire göre yarının büyüklerinin hedefi nedir ?

- A) mutlu olmak
- B) uzun yıllar yaşamak
- C) çalışarak sürekli ileri gitmek

13) “ vurmak “ kelimesi aşığıdaki cümlelerin
hangisinde **farklı anlamda kullanılmıştır ?**

- A.) Elif Teyze , elindeki sopayla halıya vurmaya başladı.
- B.) Adamın sıkıntısı yüzüne vuruyor.
- C.) Karateci , tahtalara eliyle vurarak onları kırdı.

14) “ Çalıştığım için bu ödöl bana verildi. “

Bu cümlede aşığıdakilerden hangisinin **cevabı yoktur ?**

- A) Kim ?
- B) Niçin ?
- C) Ne ?

15) Aşığıdaki cümlelerin hangisinde ünsüz benzeşmesi (sertleşmesi) vardır?

- A) Ağustos ayında Zafer Bayramı’nı kutluyoruz.
- B) Dayım sabahtan bu yana sırada bekliyor.
- C) Uğur , Ankara uçağını kaçırdı.

16) “ Fatma () doktoru görünce sevindi. “
Cümlesinde parantez içerisindeki yere , **hangi noktalama işareti gelmelidir ?**

- A) nokta (.)
- B) ünlem (!)
- C) virgül (,)

17) Sınıf Başkanlığı seçimimiz için oy
kullanacağız.

Yukarıdaki cümlede **altı çizili sözcüğün** yerine
hangi kelime getirilirse **cümlelerin anlamında**
değişme olmaz ?

- A) rey
- B) mabet
- C) sulh

18) Aşığıdaki kelimelerden hangisi genel anlamda
bir kelimedir ?

- A) çiçek
- B) bitki
- C) karanfil

19) dedem salı günleri elmalı köyüne piknik
yapmaya gider

Yukarıdaki cümlelerin yazım ve imla kurallarına
göre **doğru yazılmış şekli** hangi seçenekte yer alır ?

- A) Dedem, Salı günleri elmalı köyüne piknik yapmaya gider .
- B) Dedem , Salı günleri Elmalı Köyü’ ne piknik yapmaya gider .
- C) Dedem , Salı günleri Elmalı Köyüne piknik yapmaya gider .

20) Yeşil rengi ormanın ,
Sararmaya başladı.
Tepesini dağların
Bevaz örtü kapladı.

Yukarıdaki dörtlükte “ **bevaz örtü** “ kelimeleriyle
anlatılmak istenen nedir ?

- A) Kar
- B) Bulut
- C) Pamuk

HAYAT BİLGİSİ DERSİ BÖLÜMÜ

1 . Aşığıdakilerden hangisi doğru bir iletişim
şeklidir ?

- A) Başarılı konuşmasından dolayı arkadaşımızı kutlamak
- B) Sınıfta izin almadan konuşmak
- C) Konuşurken başkasının sözünü kesmek

2.) Sececeğimiz arkadaşın hangi özelliğine dikkat
etmeliyiz ?

- A) Maddi durumuna
- B) Olumlu değerlerine
- C) Dış görünüşüne

3.) Ahmet , resim yapmayı çok severken Elif , şarkı söylemeyi çok sever. Ahmet , çok iyi yüzebilirken , Elif ise harika gitar kullanır.

Yukarıda anlatılanlara göre Elif ile Ahmet için **ne** **söylenebilir ?**

- A) Aynı özelliklere sahiptirler.
- B) Farklı özelliklere sahiptirler.
- C) Benzer şeylerden hoşlanmaktadırlar.

4. Aşağıdakilerden hangisi bir **sorunu çözücü davranıştır ?**

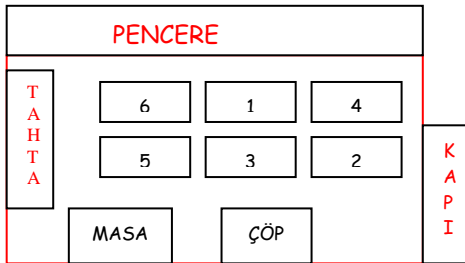
- A) Üzüntülü arkadaşımızı teselli etmek.
- B) Sinirli arkadaşımızı kızdırmak
- C) Düzenli ve çalışkan arkadaşımızı kıskanmak

5.) “ Okulda güzel konuşmayı , sorun çözmeyi , araştırma yapmayı , oyunu kurallarına göre oynamayı öğreniyorum. Ayrıca ; insanı , çevreyi , ve doğayı sevmeyi öğreniyorum. “

Yukarıdaki konuşmayı yapan bir öğrenci için **hangisi söylenmez ?**

- A) Kavgacıdır
- B) Paylaşıcıdır
- C) Araştırmacıdır

6.)



Derya, sınıfta **pencere tarafındaki son sırada** oturmaktadır. **Derya nerede oturmaktadır?**

- A) 4 B) 5 C) 2

7.) Melih her akşam odasından **güneşin batışını izleyebilmektedir.** Melih'in odası **ne yöne bakar?**

- A) Doğu B)Güney C)Batı

8. **Türkiye Büyük Millet Meclisi 23 Nisan 1920'de** açılmıştır. Biz bu tarihi her sene bayram olarak kutlarız. **Bu bayramın adı aşağıdakilerden hangisidir?**

- A) Zafer Bayramı
- B) Cumhuriyet Bayramı
- C) Ulusal Egemenlik ve Çocuk Bayramı

9. Çok kitap okur. Kelimeleri iyi kullanır. İyi bir gözlemcidir. Herkesin okuması için çeşitli yazılar yazar. **Ben kimim ?**

- A. Öğretmen B. Avukat C. Yazar

10. Aşağıdakilerden hangisi lider bir insanın **özelligi olamaz?**

- A) İleri görüşlü olması
- B) Grupla ortaklaşa hareket etmesi
- C) Önyargılı davranması

11. Geçmişten günümüze kadar ulaşım araçları gelişim göstermiştir.

Ulaşım araçlarının gelişimi dikkate alındığında aşağıdakilerden hangisi bu gelişimin **olumlu** bir yönü olarak **gösterilebilir ?**

- A) Yol yapımları için ağaçların kesilmesi
- B) Zamandan tasarruf sağlanması.
- C) Trafik kazalarında insanların ölmesi

12. Aşağıdakilerden hangisi **tıp alanında** insanlığa **hizmette bulunmuştur?**

- A) Mimar Sinan
- B) İbni Sina
- C) Mehmet Akif Ersoy

13 Ferda'nın, **yoğurt** alırken aşağıdakilerden hangisine **dikkat etmesine gerek yoktur?**

- A) Son kullanma tarihine
- B) TSE damgasına
- C) Garanti belgesine

14. “Toplumu oluşturan en küçük gruplara denir”
noktalı yere hangisi gelmelidir?

- A) aile B) okul C) yurt

15.

I. İnsanlar, hava koşullarından korunmak için barınma ihtiyacı duyarlar.

II. Barınma, sinemaya gitmek gibi temel ihtiyaçlarımızdan biridir.

III. Evimizin, barınma ihtiyacımızı karşılayabilmesi için büyük olması gerekmektedir.

Yukarıdaki ifadelerden **hangileri doğrudur?**

- A. I ve II B. II ve III C. yalnız I

16. Evde beslediğimiz bitkilerinkarşılmalıyız. Evde hayvan beslemekgerekir.
Bu cümlelerdeki noktalı yerlere aşağıdakilerden **hangisi yazılamaz?**

- A. hak B. ihtiyaçlarını C. sorumluluk

17. Canlılar; bitkiler, hayvanlar ve insanlar olmak üzere üç gruba ayrılır.
Hangi seçenekteki **tüm canlılar aynı gruptandır?**

- A. Martı, balina, zebra, yılan
B. timsah, kaktüs, kartal, yunus
C. menekşe, kavak, kurbağa, papatya

18. Gizem, her akşam çantasını ders programına göre düzenlemektedir.
Gizem için aşağıdakilerden **hangisi söylenemez?**

- A) Düzenlidir B) Programlıdır C) Dağınıktır.

19. Aşağıdaki kahvaltı örneklerinden hangisi **dengeli beslenen bir öğrenciye ait olabilir?**

- A) Kola, patates kızartması, çikolatalı ekmek
B) Elma, armut, muz ve meyve suyu
B) Süt, ekmek, domates, peynir, zeytin, bal

20. Ülkemizde **geri dönüşümün özendirilmesi** için çalışmalar yapan sosyal vakfın adı nedir ?

- A) TEMA B) ÇEVKO C) KIZILAY

FEN BİLİMLERİ DERSİ BÖLÜMÜ

1) Ali evine girdiğinde kaçak tüp gaz kokusu almış ve hemen evi havalandırmıştır.”

Ali kaçak gazı hangi **duyu organı ile fark etmiştir?**

- A) Göz B) Burun C) Deri

2) “Barış, sık sık banyo yapıyor ve güneş altında uzun süre kalmıyordu.”

Barış vücudunun hangi kısmını **koruyucu davranış yapmıştır?**

- A) Deri B)Göz C) Burun

3) Aşağıdaki seçeneklerden hangisi **“iterek” hareket etmeye örnektir?**

- A) Duvardaki çiviye sökmek
B) Topa vuran sporcunun hareketi
C) Arızalı bir aracı zincirle çeken kamyon

4) Aşağıdakilerden hangisinde **havanın varlığı kanıtlanmış olur?**

- A) Gökyüzünde bulutların toplanması
B) Balonun şişmesi
C) Kışın kar yağdığından havanın soğuk olması

5) “**Gazoz**” maddenin **hangi halidir?**

- A) Katı Hali
B) Sıvı Hali
C) Gaz Hali

6) Belirli bir şekli olan ve dışarıdan bir etki olmadan şekli değişmeyen maddelere maddeler denir.

Yukarıdaki cümlelerin boş kısmına aşağıdakilerden **hangisi gelmelidir?**

- A) Sıvı
B) Katı
C) Gaz

7) Karanlık bir ortamda **neden göremeyiz?**

- A) Gözümüz olmadığı için
B) Gözlüğümüz olmadığı için
C) Işık olmadığı için

8) Aşağıdaki varlıkların hangisinin içinde **gaz madde vardır?**

- A) Uçan Balon
B) Su Şişesi
C) Çiçek Saksısı

9) Aşağıdakilerden hangisi **şehir elektriği ile çalışır?**

- A) Duvar saati
B) Hesap makinesi
C) Ütü

10) Aşağıdakilerden hangisi **yapay çevreye örnektir?**

- a) Hayvanat Bahçesi
b) Orman
c) Dağ

11) Bazı hayvanlar veya kuşlar **neden yumurtlarlar?**

- a) İnsanlar yesin diye
- b) Üremek, çoğalmak için
- c) Boşaltım yapmak için

12) Ayçiçeğin Güneş'e göre yüzünü çevirmesi aşağıdakilerden **hangisi ile ilgilidir?**

- a) Canlılarda Üreme
- b) Canlılarda Büyüme
- c) Canlılarda Hareket

13) Aşağıdakilerden hangisi **farklı bir elektrik kaynağı ile çalışır?**

- A) Cep telefonu B) Saat C) Diz üstü bilgisayar

14) Aşağıdakilerden hangisi **doğal ışık kaynağı değildir?**

- A) Ay B) Güneş C) Yıldız

15) Aşağıdakilerden hangisi **doğal ses kaynağıdır?**

- A) Flüt Sesi B) Yıldırım sesi C) Araba Kornası

16) Mercimek veya hap büyüklüğünde pilleri aşağıdaki aletlerden **hangisinde kullanırız?**

- a) Duvar Saati.
- b) Kol Saati
- c) Kumanda

17) Çok sayıda özel pilden oluşan, elektrik depolayan, **pil ve bataryadan daha çok elektrik sağlayan aletlere ne denir?**

- a) Akü (Akümülatör)
- b) Projektör
- c) Şarj Makinesi

18. Elektrik üretiminde **en doğal olanı aşağıdakilerden hangisidir?**

- a) Nükleer Santral
- b) Hidroelektrik Santral
- c) Rüzgar ve Güneş enerjisinden elektrik üretimi

19) Hava küre (atmosfer) için aşağıdakilerden **hangisi söylenemez?**

- A) Bu katmanı göremeyiz ama varlığını hissederiz.
- B) Bu katmanda hava olayları görünür.
- C) Bu katman dünyanın dörtte üçünü oluşturur.

20) Aşağıda verilen meyvelerden hangisinin şekli **dünyamızın şekline benzememektedir?**

- A) Üzüm taneleri
- B) Portakal
- C) Salatalık

MATEMATİK DERSİ BÖLÜMÜ

1.

Babam , bahçe kenarındaki 6 m **çitin** , **1m 65 cm'sini laciverte** boyadı. Babamın **boyamadığı çitin** uzunluğu ne kadardır ?

- A.435 cm B. 765 cm C. 265cm

2. **1m 75 cm** boyundaki perdeyi **330 cm** 'ye **uzatmak için** ne kaç cm kumaşa ihtiyaç duyarız ?

- A.505 cm B. 169 cm C. 155cm

3. Aşağıdaki sayılardan hangisi **3,2,6** sayılarıyla yapılacak **en büyük çift sayı** ile **en küçük tek sayının toplamı kaçtır ?**

- A) 583 B) 589 C) 564



4.

20 cm

20 cm'lik ayak uzunluğu ile ölçersek **1 m kaç ayak uzunluğu gelir ?**

- A) 10 B) 5 C) 8

5. Sema **85 cm kumaş** , Berfin **135 cm kumaş** , Bora da **225 cm kumaş** almıştır . Üçünün aldığı toplam kumaş miktarı **9 m kumaştan kaç cm eksiktir ?**

- A) 555 cm B) 455 cm C) 465 cm

6. Sınıfımızda **9 rafa beşerli** kitap koyduğumuzda **4 kitabı raflara koyamıyoruz**. Kitaplığımızda **kaç kitap vardır ?**

A) 45 B) 41 C) 49

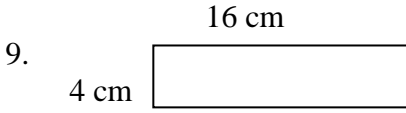
7. Bir okulda **238 kız öğrenci** vardır. **Kız öğrencilerin 34 fazlası ise erkek öğrenci vardır**. Bu okulda **toplam kaç tane öğrenci vardır?**

A.272 B. 510 C.476

8.
I. $7 \times 100 = 700$
II. $83 \times 100 = 830$
III. $10 \times 10 = 100$

Yukarıda verilen işlemlerden kaç numaralı işlem **yanlıştır ?**

A) I B) II C) III



Yukarıdaki dikdörtgenin **çevresinde 2 tur** koşarsam toplam **kaç m koşmuş olurum ?**

A) 68 m B) 80 m C) 40 m

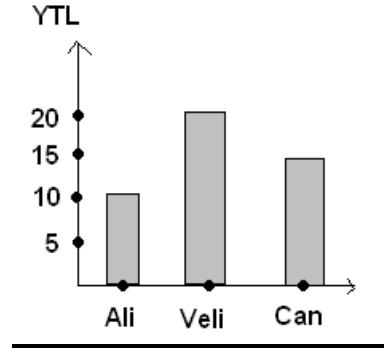
10. **Her katı 2 m 12 cm olan 4 katlı** binanın uzunluğu kaç cm 'dir ?

A) 216 m B) 818 m C) 848 m

11.
Babamın 845 TL parası var. 350 TL sini ev kirasına, 125 TL sini mutfak masraflarına ayırdı. Eğitimimiz için ise 75 TL harcadı. Babamın **geriye kaç lirası kaldı?**

A) 295 B) 305 C) 345

12.



Yukarıda verilen grafiğe göre **3 arkadaşın toplam kaç TL paraları vardır?**

A. 35 B. 45 C.55

13. **13.30'dan 14.45'e kadar** kitap okuyan Ayşe, kaç dakika kitap okumuştur?

- A) 1 saat 10 dakika
B) 1 saat 15 dakika
C) 1 saat 30 dakika

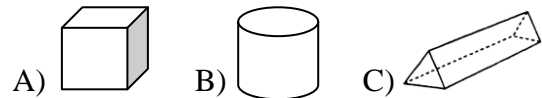
14.
Bir çiftlikte **15 tavuk ve 10 koyun** vardır. Çiftlikteki hayvanların **toplam ayak sayısı kaçtır?**

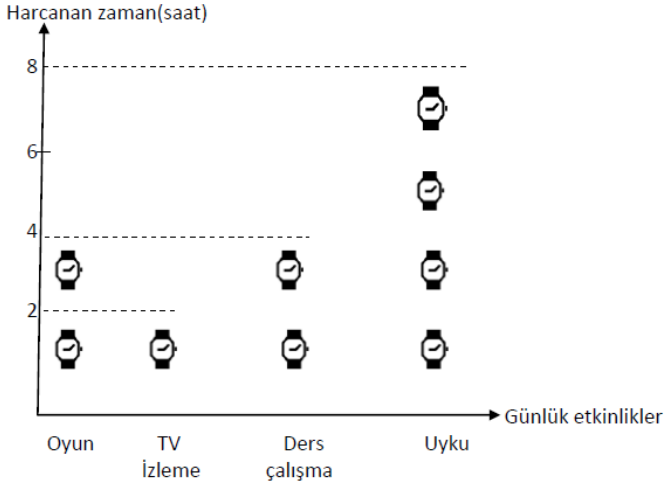
A) 28 ayak B) 70 ayak C) 76 ayak

15.
Bir kırtasiyeci **9 deste kalemin 3 düzinesini sattı**. **Geriye kaç kalem kaldı?**

A) 54 B) 64 C) 74

16. Aşağıdaki cisimlerden hangisi **yuvarlanabilir bir cisimdir?**





17 , 18 , 19 ve 20. Soruları verilen grafiğe göre cevaplayınız.

Yukarıdaki grafikte Nivan'ın bir gününü hangi etkinlikleri yaparak geçirdiği gösterilmiştir. **Grafikteki her şekil 2 saatlik süreyi göstermektedir.**

17. Grafiğe göre Nivan günde kaç saat **oyun oynamaktadır ?**

- A) 4 B) 2 C) 8

18. Grafiğe göre Nivan , gün içerisinde hangi etkinliklere **esit miktarda vakit ayırmaktadır ?**

- A)** Oyun ve TV izleme
B) Oyun ve Ders Çalışma
C) Oyun ve Uyku

19. Nivan 'ın **uykuya ayırdığı süre miktarı , TV izlemeye ayırdığı süreden ne kadar fazladır ?**

- A)** 10
B) 6
C) 4

20. Nivan'ın gün içerisinde yaptığı etkinlikleri gösteren sıklık tablosu aşağıdakilerden hangisinde **doğru gösterilmiştir ?**

A)

Sema'nın yaptığı günlük etkinlikler sıklık tablosu	
Yapılan etkinlik	Kaç saat yapıldığı
Oyun	2
TV izleme	2
Ders çalışma	4
Uyku	8

B)

Sema'nın yaptığı günlük etkinlikler sıklık tablosu	
Yapılan etkinlik	Kaç saat yapıldığı
Oyun	4
TV izleme	2
Ders çalışma	4
Uyku	8

C)

Sema'nın yaptığı günlük etkinlikler sıklık tablosu	
Yapılan etkinlik	Kaç saat yapıldığı
Oyun	4
TV izleme	8
Ders çalışma	2
Uyku	4

VATANINI EN ÇOK SEVEN ,
GÖREVİNİ EN İYİ YAPANDIR.

KAĞIDINIZI KONTROL EDİN.
KENDİNİZE GÜVENİN.