

.....İLKOKULU ..... SINIFI 2. DÖNEM TÜM DERSLER  
28.DENEME SINAVI

**TÜRKÇE DERSİ BÖLÜMÜ**

1 ) İlkbaharda insanın içi sevinçle dolar.  
Yemyeşil kırlar, öten kuşlar, ısınan hava...Anlarsın  
baharın geldiğini. Parklar çocuk çığlıklarıyla dolar  
taşar, ağaçlar meyve vermek için hazırlanır.

**Yukarıdaki paragrafta aşağıdakilerden  
hangisine değinilmemiştir?**

- A. baharın insanı mutlu ettiğine
- B. baharın habercilerine
- C. baharın kıştan sonra geldiğine

2) Aşağıdaki cümlelerin hangisinde **sebep sonuç  
ilişkisi yoktur?**

- a) Çok yürüdüğünden ayakları şişmiş.
- b) Kısa zamanda iyileştiği için taburcu edildi.
- c) Hırsız kedi, duvardan atlayıp kaçtı.

3) “**bakmak**” sözcüğü hangi tümcede **“büyütmek,  
beslemek” anlamında kullanılmıştır?**

- A. Bütün gün pencereden babasına baktı.
- B. Minik kediye hep ben baktım.
- C. Öğretmen bakınca çocuk utandı.

4) Aşağıdaki cümlelerin hangisinde **“Bulut “**  
kelimesi **cins isim olarak kullanılmıştır?**

- A.) Bulut bütün gece havladı.
- B.) Bulut ile arkadaşları basketbol oynuyor.
- C.) Bulutlar gökyüzünü sarmış.

5) (I) Bulutlar pamuk giysilerini giymişler  
geziniyorlardı. (II) Uzaklardan iki leylek kanat  
çırpışlarla ovaya indiler. (III) Bugün ilkyazın geliyordu.

Yukarıdaki yazının kaçınıcı cümlesinde **hayal  
ürünü ( abartılı ) bir durum vardır?**

- A) (I)
- B) (II)
- C) (III)

6) “ Güzel” kelimesi aşağıdakilerin hangisinde  
**sıfat olarak kullanılmıştır?**

- A.) Güzel, ırmaktan geliyordu.
- B.) Güzel çocuk kucaktan hiç inmiyordu.
- C.) Akşam yemeği çok güzeldi.

7) Ağaç yürümeye başlayınca Onur şaşkınla  
bağırdı. Çevredeki diğer ağaçlar onu  
sakinleştirmeye çalıştılar. Onur, neler olduğunu  
anlamaya çalışırken annesi onu uyandırdı.  
**Paragrafta ne anlatılmıştır?**

- A)Onur’un rüyası
- B)Onur’un hayali
- C)Onur’un yolculuğu

8) “**Geniş**” kelimesi aşağıdaki cümlelerin  
hangisinde **bir ismi nitelemektedir?**

- A )Okulun bahçesi çok genişti.
- B) Hep geniş odalı evleri tercih ederdi.
- C) Kapının genişliği herkesin dikkatini çekti.

9) “Hey, dikkat edin çimenleri eziyorsunuz ( )”

cümlesinin sonuna hangi **noktalama işareti  
konulmalıdır?**

- A) Ünlem işareti
- B) Soru işareti
- C) İki nokta

10) Neslihan Hanım , akşam yemek için hazırladığı  
çorba için tuz koyacakken aniden evde tuzun  
bittiğini fark etti. Bunun üzerine de yan dairedeki  
komşusu Esma Hanım ‘dan tuz rica etti ve Esma  
Hanım’da seve seve tuz verdi.

Neslihan ve Esma Hanımlar ‘ın bu **durumunu en  
iyi açıklayan atasözü aşağıdakilerden  
hangisidir?**

- A) Acele giden, ecele gider.
- C) Komşu komşunun külüne muhtaçtır.
- C) Evdeki hesap çarşıya uymaz.

11) **Sıcak** havalarda serinlemek için en iyi **içecek** **ayrandır.**"

Cümlesinde altı çizili sözcük için **ne söylenebilir?**

- A) Özel isim olarak kullanılmıştır.
- B) Varlığın özelliğini belirtmiştir.
- C) Bir varlığın yerine kullanılmıştır.

12) Aşağıdaki cümlelerin hangisinde **"karşılaştırma" anlamı vardır?**

- A) Kış gelince havalar soğur.
- B) Benimkiler sizinkilerden daha güzeldir.
- C) Okul tatil olunca tatile gideriz.

13) **"Kirli tasta çorba içilmez."**

**Yukarıdaki atasözü ile ilgili verilen bilgilerden hangisi yanlıştır ?**

- A) 4 kelimeden oluşmuştur.
- B) "içilmez " kelimesi büyük ünlü kuralına uymaz.
- C) Toplam 9 heceden oluşmuştur.

14) **"Ahmet harçlıklarından para biriktirip kitap aldı.**

Bu cümlede aşağıdakilerden hangisinin **cevabı yoktur ?**

- A) Kim ?
- B) Niçin ?
- C) Ne ?

15) Aşağıdaki cümlelerin hangisinde **ünsüz yumuşaması** vardır?

- A) Haziran ayında okul tatil olacak.
- B) O kitabı sana ben verdim.
- C) Sınavdan yüz aldım.

16) Aşağıdaki kelimelerden hangisi **hecelerine doğru ayrılmıştır ?**

- A) San – dal – ye
- B) Pe – nce – re
- C) Uç – urt - ma

17) Yarın Matematik dersinden önemli bir imtihan olacağız.

Yukarıdaki cümlede **altı çizili sözcüğün** yerine hangi kelime getirilirse **cümlenin anlamında değişme olmaz ?**

- A) sınav
- B) barış
- C) deneme

18) Aşağıdaki kelimelerden hangisi **tek başına cümle yapabilir ?**

- A) almak
- B) tekerlek
- C) Cemil

19) Burak , bugün köye gelmedimi ?

Yukarıdaki cümledeki **yazım yanlışını nasıl düzeltilmelidir ?**

- A) Soru işareti yerine nokta konulmalıdır.
- B) "köye " kelimesinin baş harfi büyük yazılmalıdır.
- C) " – mi " soru eki ayrı yazılmalıdır.

20) Aşağıdaki kelimelerden hangisi **soyut** isimdir?

- A) para
- B) peri
- C) park

## HAYAT BİLGİSİ DERSİ BÖLÜMÜ

1 . Aldığımız mal arızalı çıktığında aşağıdakilerden **hangisini yapmalıyız?**

- A) Malı, kendimiz tamir etmeliyiz
- B) Garanti belgesiyle birlikte satıcıya götürmeliyiz
- C) Mal arızalı olduğu için atmalıyız

2.) Atatürk'ün Kurtuluş Savaşı'nda **Türk halkını bir araya toplaması onun hangi özelliğini gösterir?**

- A) lider oluşunu
- B) barışsever oluşunu
- C) yenilikçi oluşunu

3.) Suna ilkokul 4. Sınıfa gitmektedir. Suna bir sabah büyük bir heyecanla annesi ile birlikte okuldaki bayram törenine gitmek için evden çıktı. Suna törende şiir okuyacaktı.....

Yukarıda anlatılan hikayeye göre **Suna hangi bayram törenine gidiyor olabilir?**

- A) Kurban Bayramı
- B) Ulusal Egemenlik ve Çocuk Bayramı
- C) Ramazan Bayramı

4. Ali ile Mehmet duvarda asılı duran resme dikkatlice baktılar. Sonra sırasıyla ne anladıklarını anlattılar. Sonuç şaşırtıcıydı: ikisi de birbirinden çok farklı şeyler anlatıyorlardı.

Bu durum aşağıdakilerden **hangisinin göstergesidir?**

- A) Aynı konuyla ilgili farklı bakış açıları olabilir.
- B) Ali ile Mehmet farklı resimlere bakmışlardır.
- C) ikisinden biri gördüklerini yanlış anlatmaktadır.

5.) Sınıf öğrencisi olan Seda'nın ödevi bir meslek sahibi ile röportaj yapmaktır. Meslek sahibinin verdiği cevaplar: "Toplumsal düzeni sağlamak, Asayiş sağlamak, Hırsızları yakalamak, Kamu düzenini sağlamak"

Yukarıdaki bilgilere göre, **Seda'nın röportaj yaptığı kişinin mesleği ne olabilir?**

- A) Avukat
- B) Hâkim
- C) Polis

6.) "Biz kalabalık bir aileyiz. Annem, babam, dayım, amcam, dedem, ninem, halam, kardeşlerim hep birlikte yaşıyoruz." **diyen Buse'nin ailesi nasıl bir ailedir?**

- A) Geniş aile
- B) Çekirdek aile
- C) Büyük aile

7.) "Karıncanın yuvalarının ağzı daima ..... yönünü gösterir."

Tümcesi hangi **sözcükle tamamlanmalıdır?**

- A) Doğu
- B) Kuzey
- C) Güney

8. Hangi aile **demokratik değildir?**

- A) **Ece'nin ailesi:** Eve hangi televizyonu alacaklarını oturup tartıştılar ve 72 ekran almaya karar verdiler.
- B) **Ekin'in ailesi:** Tatile nereye gideceklerini konuştular ve Antalya'ya karar verdiler,
- C) **Esra'nın ailesi:** Babası, Esra ve kardeşi için en uygun okulun kolej olduğuna karar verdi ve çocukları çok istemelerine rağmen mahalledeki okula kaydettirmede.

9. Aşağıdakilerden hangisi **ülkemizde görülmeven bir doğal afettir ?**

- A) Deprem
- B) Toprak kayması
- C) Tsunami

10. Arda , baktığı bir Dünya haritasında **beyaz renkler görmüştür .**

Arda 'nın bu gördüğü **yerler neler olabilir ?**

- A) Bulut
- B) Buzullar
- C) Verimli topraklar

11. Geçmişten günümüze kadar ulaşım araçları gelişim göstermiştir.

Ulaşım araçlarının gelişimi dikkate alındığında aşağıdakilerden hangisi **bu gelişmenin olumsuz bir yönü olarak gösterilebilir ?**

- A) Yol yapımları için ağaçların kesilmesi
- B) Zamandan tasarruf sağlanması.
- C) Ticaret ve ekonominin gelişmesi.

12. Aşağıdaki şoförlerden hangisi **hava durumuna göre önlem olarak trafiğe çıkmaktadır ?**

A) **Begali** : Kış mevsiminde yazlık lastik kullanmaktadır.

B) **Engin** : Sisli bir havada hızlı ve farları kapalı şekilde aracı kullanmaktadır.

C) **Ceylan** : Kar yağışını dikkate alarak tekerleklerine zincir takmıştır.

13

Atatürk, Çanakkale Savaşı'nda ölen yabancı askerlerinin yakınlarına şunları söylemiştir:

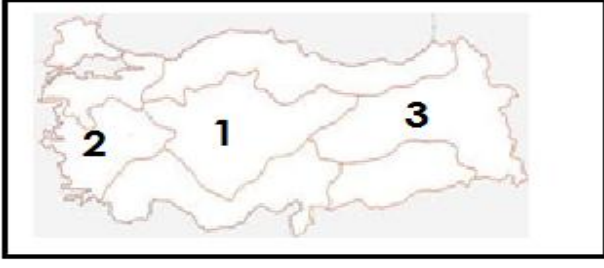


Uzak ülkelerden evlatlarını savaşa gönderen anneler! Gözyaşlarınızı dindiriniz. Onlar, bu topraklarda canlarını verdikten sonra artık bizim evlatlarımız olmuşlardır.

**Atatürk'ün yukarıda söylediği sözler, onun hangi özelliğini yansıtmaktadır?**

- A. İnsan sevgisini
- B. Yurt sevgisini
- C. Savaşçılığını

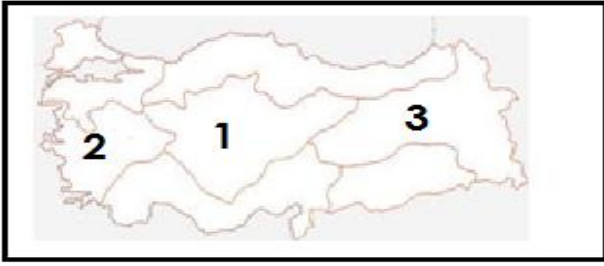
14.



Yukarıdaki Türkiye Haritası üzerinde numaralanmış bölgelerin hangisinde **Güneş en son batar ?**

- A) 1 B) 2 C) 3

15.



Yukarıdaki Türkiye Haritası üzerinde numaralanmış bölgelerin hangisinde **Tarım ve Hayvancılık geçim kaynağıdır ?**

- A) 1 B) 2 C) 3

16. Ahmet'in oyun oynadığı park evinin güney tarafında yer almaktadır. Fakat Ahmet , **güney yönünü bulamamaktadır.**

Bu durumda Ahmet , **hangi yöntemle güneşi bulabilir ?**

- A) Karınca yuvasının topraklı kısmına bakarak.  
B) Cami minarelerinin kapısına bakarak.  
C) Ağaçların yosunlu tarafına bakarak.

17. Ülkemizde **hava durumunu gözlemleyerek** elde edilen sonuçları gerekli kurumlara ve haber kanallarına vererek yurttaşlarımızı bilgilendiren kurum hangisidir ?

- A) Maden ve Tetkik Arama  
B) Orman ve Su İşleri Genel Müdürlüğü  
C) Meteoroloji Genel Müdürlüğü

18. Aşağıdaki ulaşım araçlarından hangisi **en hızlı ulaşım aracıdır ?**

- A) Metro B) Metrobüs C) Uçak

19. İlker , yapılacak **Muhtarlık Seçimlerinde** adaylığını açıklamıştır .

İlker , aşağıdaki **hangi hakkını kullanmıştır ?**

- A) Seçme Hakkı  
B) Seçilme Hakkı  
C) İletişim Hakkı

20. Ali, Muğla 'da yaşamaktadır. Derslerinde oldukça başarılı ve disiplinlidir. Her yaz Muğla'ya gelen turistlerle iletişim kuruyor ve onlara yardımcı oluyor.

Ali'nin eğitim hayatı hakkında **ne söylenebilir ?**




- A) Düzenli ve programlı çalışmamaktadır.  
B) Yabancı dil öğrenmiştir.  
C) Okuluna hazırlıksız giden bir öğrencidir.

### FEN BİLİMLERİ DERSİ BÖLÜMÜ

1 ) Aşağıdakilerden hangisi **dünyanın şekline benzemektedir?**

- A)  B)  C) 

2 ) Aşağıdaki resimlerden hangisinde **hava kürede görülmektedir?**

- A)  B)  C) 

3 ) Aşağıdaki ışık kaynaklarından **hangisi diğerlerinden farklıdır?**

- a. El feneri b. Ampul c. Ateş Böceği

4) Aşağıdakilerden hangisinde **havanın varlığı kanıtlanmış olur?**

- A) Gökyüzünde bulutların toplanması  
B) Balonun şişmesi  
C) Kışın kar yağdığından havanın soğuk olması

5) Aşağıdakilerden hangisi **elektriğin üretildiği kaynaklardan biri değildir?**

- A) Barajlar B) Güneş C) Toprak

6) Aşağıdakilerden hangisinde verilen varlıkların tamamı **su kürede ver alır?**

- A) Balıklar, Su yosunları, arabalar
- B) Balinalar, yunuslar, ahtapotlar
- C) gemiler, deniz anası, oyun parkları

7) Aşağıdakilerden hangisi **elektrik kaynağı değildir?**

- a) Batarya b) Sigorta c) Akü

8) Aşağıdaki canlıların hangisi **hem karada hemde suda yaşayamaz?**

- A) kaplumbağa B) kurbağa C) kurt köpeği

9) Aşağıdakilerden hangisi **hareket enerjisini , elektrik enerjisine dönüştüren bir araçtır ?**

- A) Batarya B) Akü C) Dinamo




10) Aşağıdakilerden hangisi **ışık kaynağı değildir?**

- a. Güneş b. El feneri c. Ay

11) Aşağıdaki bilgilerden hangisi dünyamızın şeklini **tam olarak anlatmaktadır?**

- A) Dünya'mız alttan ve üstten basık, ortası biraz şişkin olan bir küredir.
- B) Dünya'mız tamamen yuvarlaktır topa benzer.
- C) Dünya'mız yuvarlak bir elma gibidir.

12) Aşağıdakilerden hangisi **güneş pilleri sayesinde çalışabilir ?**

- A)  B)  C) 

13) Aşağıdakilerden hangisi **farklı bir elektrik kaynağı ile çalışır?**

- A) Cep telefonu B) Saat C) Diz üstü bilgisayar

14) Aşağıdakilerden hangisinde elektrik enerjisi , **hareket ettirme amacıyla kullanılır?**

- a) Ampul b) Projeksiyon c) Asansör

15) Elektriği güvenli kullanmak için;

- I. Islak elle prizlere dokunmamalıyız.
- II. Kopmuş elektrik tellerine dokunmamalıyız.
- III: Elektrik akımını hemen kapatmalıyız.

Yukarıda verilenlerden **hangilerini yapmamız gerekir?**

- A) I ve II B) I,II ve III C) I ve III

16) Aşağıdakilerden hangisi elektriğin **dikkatsiz bir şekilde kullanılmasının** sonuçlarından biri **olamaz?**

- A) Elektrik çarpmaları B) Yangınlar C) Heyelan

17) Aşağıdakilerden **hangisi doğrudur?**

- A) Elektrikli araçlar sadece aydınlanma amaçlı kullanılır.
- B) Elektriğin maliyeti yoktur. Bedava kullanabiliriz.
- C) Klimalar hem ısınma hem de soğutma amaçlı kullanılabilir.

18. Aşağıda verilen bilgilerden **hangisi yanlıştır?**

- A) Elektrik sobası, ısınma amaçlı kullanılır.
- B) Pillerin çevreye hiçbir zararı yoktur.
- C) Elektrik ,termik santrallerinde de üretilir.

19) **Ulaşım araçlarında** elektrik üreten **enerji kaynağı nedir?**

- A) Batarya B) Akü C) Pil

20) Pil ile ilgili aşağıdakilerden hangisi **söylenemez?**

- A) Elektrik kaynaklarından biridir.
- B) Şarj edilebilir piller yerine kolayca tükenen piller kullanmalıyız.
- C) Atık piller çevreye çok zarar verir.

## MATEMATİK DERSİ BÖLÜMÜ

1.

Babam , bahçe kenarındaki **çitin 3m 30 cm' sini sarıya , 1m 65 cm'sini de laciverte** boyadı. Babam ne kadar uzunluktaki çiti boyamıştır ?

- A.495 cm B. 165 cm C. 265cm

2. **3 m 14 cm kumaşın 1 m 45 cm 'si kesilirse geriye kaç cm kumaş kalır ?**

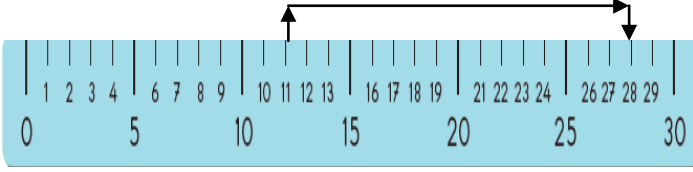
- A.459 cm B. 169 cm C. 255cm



3. Aşağıdaki sayılardan hangisi **1,7,6** sayılarıyla yapılacak **en büyük çift sayı** ile **en küçük tek sayının toplamı** kaçtır ?

- A) 883 B) 643 C) 864

4.



Cetvel üzerinde yazılı olan **rakamlar** arasındaki **uzunluk kaç cm ' dir ?**

- A) 39 B) 17 C) 18

5. Sınıfımızda **6 sıraya üçerli** oturduğumuzda **2 kişi ayakta** kalıyor. Sınıfımızın mevcudu kaçtır ?

- A) 23 B) 18 C) 20

6. Bir voleybol maçında salonda **156 erkek , 213 bayan koltuklarda** oturmaktadır. **57 tane de boş koltuk** olduğuna göre bu salon kaç kişilik bir salondur ?

- A) 326 B) 369 C) 426

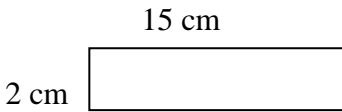
7.

- I.  $9 \times 100 = 900$   
II.  $53 \times 100 = 530$   
III.  $80 \times 10 = 800$

Yukarıda verilen işlemlerden kaç numaralı işlem **yanlıştır ?**

- A) I B) II C) III

8.

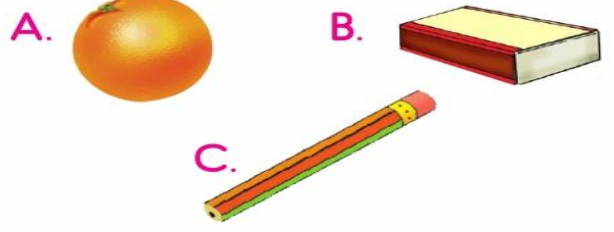


Yukarıdaki dikdörtgenin çevresi kaç cm 'dir ?

- A) 17 B) 34 C) 30

9.

Aşağıdaki cisimlerden hangisi prizmaya benzer?



10.

2.

Çocuklar, okulumuzda 278 kız öğrenci var. Erkek öğrenciler, kız öğrencilerden 75 kişi fazladır. Okulumuzda toplam kaç öğrenci vardır?



Hangi öğrenci öğretmenin sorusunu doğru yanıtlamıştır?

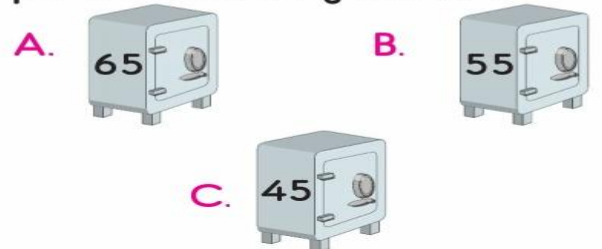
- A. Lale B. Cengiz C. Öykü

11.

135 TL'lik alışveriş yaptım. Kasaya 200 TL verdim. Geriye kaç lira para üstü almam gerekir?



Onur Bey'in sorusunun yanıtı hangi para kasasında yazılıdır?



12.

Havluları üçerli 4 eş gruba ayırdım.  
2 havlu arttı.



Açıklamasına göre Mervelerin kaç havlusu vardır?

- A. 12 B. 14 C. 16




13.

27 bilvevi üç arkadaş eşit olarak paylaşırsa her birine kaç bilve düşer ?

- A ) 30 B) 8 C) 9

14.

Aşağıdaki şekillerin hangisi kendisine ait bilgi vermemiştir?

- A.  → Üç açım vardır.
- B.  → Tüm kenarlarımın uzunlukları birbirine eşittir.
- C.  → Köşem ve kenarlarım birbirine eşittir.

15. 20 sayısının 4 katının 17 eksiği kaçtır?

- A ) 73 B) 63 C) 77

16.

6 m kumaşın 2 m 85cm 'sini satarsam geriye kaç m kaç cm kumaş kalır ?

- A) 3 m 15 cm  
B) 4 m 5 cm  
C) 3 m 5 cm

17.

Bir kenar uzunluğu 5 cm birbirine eş olan 4 kareyi yan yana getirip birleştirdiğimizde oluşan şeklin çevre uzunluğu kaç cm olur ?

- A ) 40 B) 25 C) 50

18.

Okulumuzun bahçesinin 2 m 'sine gül , çeyrek metresine orkide , 55 cm'sine lale ve 122 cm 'sine de karanfil ektik. Toplam ne kadar uzunluğa çiçek ektik ?

- A ) 402 B) 252 C) 502

19.

Aşağıda bir sınıfta en çok sevilen takım hakkında bilgi veren bir tablo yer almaktadır.

Takımlar	Öğrenci Sayısı
Fenerbahçe	12
Galatasaray	8
Beşiktaş	11
Trabzonspor	4

Bu tabloya göre verilen bilgilerden hangisi yanlıştır ?

- A) En çok sevilen takım Fenerbahçe'dir.  
B) Bu sınıfta toplam 34 öğrenci vardır.  
C) Galatasaray'ı sevenler , Trabzonspor'u sevenlerden 4 fazladır.

VATANINI EN ÇOK SEVEN ,  
GÖREVİNİ EN İYİ YAPANDIR.

KAĞIDINIZI KONTROL EDİN.  
KENDİNİZE GÜVENİN.