

3. Sınıf Deneme Sınavı

-4-

123

ADI : _____
SOYADI : _____
SINIFI : _____
NO : _____
OKULU : _____

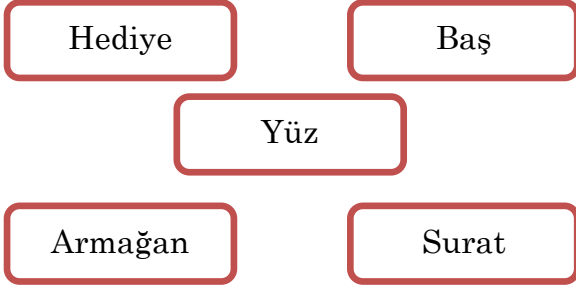


2018
Mart

Muhammet ÖZENÇ
Salih ÖZENÇ

3. SINIFLAR DENEME SINAVI

TÜRKÇE




1) Yukarıdaki kelimeler bir kurala göre eşleştirilip boyanacaktır. Hangi kelime **dışarıda kalır?**

- A) Baş B) Yüz
C) Surat D) Armağan

"Ders programıma göre bugün matematik çalışacağım."

2) Yukarıdaki cümlede, hangi kelimenin **yazımında yanlışlık** yapılmıştır?

- A) Ders B) program
C) matematik D) bugün



* Ahmet' in sıra arkadaşının adı üç harflidir.

* Ahmet' in sıra arkadaşı bir kızdır.

* Ahmet' in sıra arkadaşı kısa saçlıdır.

3) Yukarıdaki bilgilere göre Ahmet' in sıra arkadaşı **kimdir?**

- A) Ali B) Dilek
C) Eda D) Ahmet

- ☐ Kalem
☐ Yular
☐ Çocuklar

4) Yukarıdaki kelimeler çoğul ise önündeki kutuya "Ç", tekil ise önündeki kutuya "T" yazar isek hangi seçenek **doğru olur?**

- A) ☐ Ç ☐ T ☐ T ☐ T
B) ☐ Ç ☐ Ç ☐ T ☐ T
C) ☐ Ç ☐ Ç ☐ T ☐ Ç
D) ☐ Ç ☐ Ç ☐ T ☐ Ç

Melis :

_ Eyvah ()

_ Bardak kırıldı ()

Seda :

_ Annen bize kızarmı ()

5) Yukarıdaki parantezlere hangi noktalama işaretleri gelmelidir?

- A) (!) (.) (?) B) (.) (.) (?)
C) (!) (.) (.) D) (,) (!) (?)

"Boyalarımı evde unuttuğum için ..."

6) Yukarıdaki cümle aşağıdakilerden hangisiyle tamamlanırsa sebep-sonuç ilişkisi kurulmuş olur?

- A) Öğretmenim teşekkür etti.
B) Görsel sanatlar dersinde resmimi boyayamadım.
C) Hasta oldum.
D) Resimlerimi rahatlıkla boyadım.

3. SINIFLAR DENEME SINAVI

"Murat bir elin parmak sayısı kadar kardeşi ile birlikte, anne ve babasıyla aynı evde yaşamaktadır."

7) Murat' ın çekirdek ailesi kaç kişiden oluşmaktadır?

- A) 5 B) 6 C) 8 D) 7

"Sandığın içi tamamen dolu."

8) Yukarıda verilen cümledeki eş sesli sözcük, aşağıdaki cümlelerin hangisinde aynı anlamda **kullanılmamıştır?**

- A) Sepetin içinde çilek dolu.
B) Sürahi ağzına kadar su dolu.
C) Çantanın içi para dolu.
D) Yarın buraya dolu yağacakmış.

"Savurgan"

9) Hangi seçenekte yukarıdaki kelimenin **zıt anlamlısı** ile bir cümle oluşturulmuştur?

- A) Paramızı boşa harcamamalı, tutumlu olmalıyız.
B) Bardağı elimde tutuyorum.
C) Arda çok savurganlık yapıyor.
D) Marketten gereksiz eşyalar aldı.



10) Yukarıdaki şekillerde çaydanlıklar canlı, bardaklar cansız varlık adıdır.

Buna göre aşağıdaki sıralamalardan hangisi doğru **değildir?**

- A) Kedi - Taş - Kuş - Köpek - Silgi
B) Aysun - Kalem - Top - Arı - Taş
C) Ahmet - Top - Fil - Ayı - Kitap
D) Melis - Toka - Balık - Kuş - Taş

I - Annem dizime merhem sürdü.
II - Arkadaşlar, top oynamaya çağırdı.
III - Arkadaşlar beni eve getirdi..
IV - Top oynarken düştüm, dizim yaralandı.

11) Yukarıdaki anlatılan olayın, oluş sırası hangi seçenekte doğru verilmiştir?

- A) II - IV - I - III
B) I - II - III - IV
C) II - IV - III - I
D) II - III - IV - I

3. SINIFLAR DENEME SINAVI

İYİ ARKADAŞ OLMAK

Samet içine kapanık, hiç bir arkadaşı olmayan bir öğrenciydi. Dördüncü sınıfa gidiyordu. Öğretmeni ödevlerini yapmadığı için onu sürekli uyarıyordu. Samet de hiç kendini düzeltmek için çaba göstermiyordu. Sınıfta tek başına oturuyordu, yanında hiç bir arkadaşı oturmak istemiyordu. Sürekli arkadaşları onunla pis kokuyorsun diye dalga geçiyorlardı.

Okula yeni gelen Salih, sınıftaki tek boş yer olan Samet' in yanına oturdu. Samet, Salih' e bir hoş geldin bile demedi. Ama Salih çok neşeli ve sevimli bir çocuktur, bu durumu hiç kafasına takmadı. Salih, Samet' in durumunu biraz araştırınca annesinin vefat ettiğini öğrendi. Onun geçmiş yıllarda daha başarılı bir öğrenci olduğunu da öğrendi. Salih, Samet' in yüzünden kaybolan o neşeyi tekrar bulmasına yardım etmeye karar verdi. Onu ailesiyle bile tanıştırdı. Ve Salih ile Samet çok iyi arkadaş oldular. Samet' in dersleri de eskisi gibi tekrar düzeldi.

12 - 13 - 14 ve 15. soruları yukarıdaki metne göre cevaplayınız.

12) Samet kaçınıcı sınıfa gidiyordu?

- A) 1. sınıf B) 2. sınıf
C) 3. sınıf D) 4. sınıf

13) Arkadaşları neden Samet ile dalga geçiyorlardı?

- A) Pis kokuyor diye.
B) Tek oturduğu için.
C) Tembel olduğu için.
D) Ödevlerini yapmadığı için.

14) Salih nasıl bir öğrencidir?

- A) İçine kapanık bir öğrencidir.
B) Neşeli ve sevimli bir çocuk.
C) Sinirli bir çocuk.
D) Tembel bir öğrencidir.

15) Salih ile Samet' in çok iyi arkadaş olmaları sonucunda neler değişti?

- A) Samet sırasında tek oturmaya devam etti.
B) Salih neşesini yitirdi.
C) Samet' in dersleri eskisi gibi düzeldi.
D) Salih' in de dersleri düzeldi.

MATEMATİK

1) Aşağıdaki işlemlerden hangisinin sonucu bir **çift** sayıdır?

$$\begin{array}{r} 325 \\ + 144 \\ \hline \end{array}$$

$$\begin{array}{r} 452 \\ + 165 \\ \hline \end{array}$$

$$\begin{array}{r} 357 \\ + 212 \\ \hline \end{array}$$

$$\begin{array}{r} 277 \\ + 247 \\ \hline \end{array}$$

2) İçerisinde 213 tane portakal bulunan sandığın içinden 67 tanesi satılmıştır. Kalanların 48 tanesi ile de meyve suyu yapılmıştır. Bu sandıkta kaç tane portakal kalmıştır?

- A) 146 B) 115
C) 98 D) 165

3) Aşağıdaki sayıları en yakın onluğuna yuvarlama yapıyor. Hangi işlem yanlış yapılmıştır?

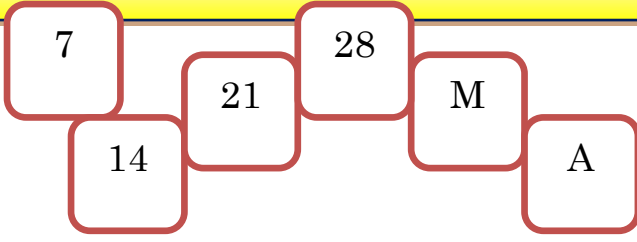
$$173 \rightarrow 170$$

$$189 \rightarrow 180$$

$$455 \rightarrow 460$$

$$771 \rightarrow 770$$

3. SINIFLAR DENEME SINAVI



4) Yukarıdaki ritmik saymada verilmemiş olan "M" ile "A" nın **çarpımı** kaçtır?

- A) 1470 B) 77
C) 1260 D) 210



Ahmet



5) Ahmet birinci atışında 9 puan, ikinci atışında 5 puan vurmuştur. Ahmet toplam kaç puan toplamıştır?

- A) **XII** B) **XV**
C) **XIII** D) **XIV**

6) Bir okulda 136 tane kız öğrenci, kızların 15 fazlası kadar da erkek öğrenci bulunmaktadır. Bu okulun toplam öğrenci mevcudu kaçtır?

- A) 151 B) 287
C) 277 D) 297

7) Yüzler basamağı 5 olan en küçük üç basamaklı sayının 147 eksiği kaçtır?

- A) 353 B) 142
C) 152 D) 647



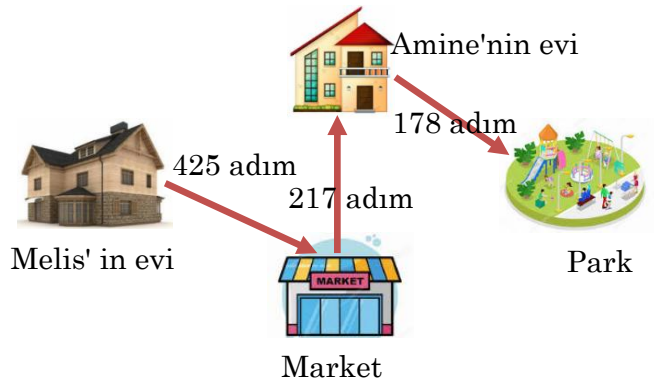
8) Yukarıda doğru-doğru parçası ve ışın örnekleri ve karşılarında sayılar bulunmaktadır. Buna göre:



- A) 439 B) 225
C) 326 D) 113

9) Bir meyve bahçesinde bulunan 422 meyve ağacının 109 tanesi kurumıştır. Bu bahçede kaç tane meyve ağacı kalmıştır?

- A) 531 B) 323
C) 313 D) 317

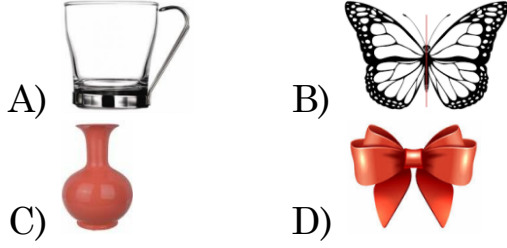


10) Melis, önce markete oradan da Amine' nin evine giderek oradan da birlikte parka gideceklerdir. Bu yolculukta Melis kaç adım yol gidecektir?

- A) 642 B) 395
C) 603 D) 820

3. SINIFLAR DENEME SINAVI

11) Aşağıdaki şekillerden hangisi simetrik **değildir**?



$$\square - \triangle = 1$$
$$\pentagon - \triangle = 2$$

12) Yukarıdaki işlemler bir mantığa göre yapılmıştır. Bu mantığa göre aşağıdaki işlemin sonucu kaçtır?

$$\square + \pentagon + \triangle = ?$$

- A) 3 B) 12
C) 6 D) 24

13) Ahmet her gün 25 sayfa kitap okuduğuna göre, Ahmet 2 haftada kaç sayfa kitap okur?

- A) 27 B) 175
C) 350 D) 39

14) Aşağıdaki işlemlerin sonuçları büyükten küçüğe doğru sıralandığında en başta hangi seçenekteki sonuç yer almalıdır?

- A) $\begin{array}{r} 425 \\ + 145 \\ \hline \end{array}$ B) $\begin{array}{r} 502 \\ - 195 \\ \hline \end{array}$
- C) $\begin{array}{r} 37 \\ + 12 \\ \hline \end{array}$ D) $\begin{array}{r} 377 \\ + 247 \\ \hline \end{array}$

41

X 24

15) Yukarıdaki işlemin sonucunun 199 **eksiği** kaçtır?

- A) 785 B) 65
C) 243 D) 47

HAYAT BİLGİSİ



Özel günlerde aile içerisinde hediyeleşmek, aile bağlarını

1) Yukarıdaki cümle hangi seçenkle devam ettirilmesi **uygun olur**?

- A) Zayıflatır. B) Kuvvetlendirir.
C) Kötü etkiler D) Bozar.



Osman, okul futbol takımı seçmelerine katıldı. Takıma seçilmeyi çok istiyordu. Ama seçilmeyi başaramadı.

2) Osman bundan sonra nasıl davranmalıdır?

- A) Bir daha ki seçmelere daha çok çalışmalı, asla pes etmemelidir.
B) Seçilemediği için bir daha futbol oynamamalıdır.
C) Futbol takımına seçilen arkadaşlarına küsmelidir.
D) Okul müdürüne gidip kendisinin de takıma seçilmesi için yalvarmalıdır.

3. SINIFLAR DENEME SINAVI

3) Aşağıdakilerden hangisi üçüncü sınıf öğrencisi için ulaşılabilir bir hedef **değildir**?

- A) Derslerinde başarılı olmak.
- B) Bisiklet almak.
- C) Tablet almak.
- D) Otomobil almak.



Ben görgü kurallarına uyan bir çocuğumdur.

Ahmet

4) Ahmet' in aşağıdaki hangi davranışı yapması beklenir?

- A) Yemek yerken ağzını şapırdatması
- B) Ağzında yemek varken konuşması
- C) Eve gelen misafirlere hoş geldin dememesi.
- D) Ağzında yemek varken konuşmaması.



5) Yukarıdaki insanlar hangi hakkını **kullanmaktadırlar**?

- A) Eğitim hakkı
- B) Seçme ve seçilme hakkı
- C) Haberleşme hakkı
- D) Seyahat hakkı

6) Hangisi ailelerin çocuklarından beklediği davranışlardan **değildir**?

- A) Para kazanmaları
- B) Saygılı olmaları
- C) Derslerine çalışmaları
- D) Temiz olmaları

Yemek	2 saat
Oyun	3 saat
Ders	3 saat
Uyku	9 saat

7) Yukarıdaki plana göre en çok zaman hangisine ayrılmıştır ?

- A) Yemek
- B) Oyun
- C) Ders
- D) Uyku



I



II



III

8) Yukarıdakilerden hangileri sözlü iletişim araçlarıdır?

- A) Yalnız I
- B) Yalnız II
- C) Yalnız III
- D) I ve II

9) Hangi seçenekte **beden dili** kullanılmıştır?



A)



B)



C)



D)

"Evcil hayvanların aşılarını yaparım. Onların hastalıklarını tedavi ederim."

10) Yukarıdaki meslek hangisidir?

- A) Doktor
- B) Mühendis
- C) Öğretmen
- D) Veteriner

3. SINIFLAR DENEME SINAVI

11) Hangi özelliklerimiz zamanla değişime uğramaz?

- A) Kilomuz B) Yaşımız
C) Parmak izimiz D) Boyumuz

12) Bulutsuz bir gece vakti hangisi bize yol gösterir?

- A) Güneş B) Kutup yıldızı
C) Ay D) Bulutlar



Ben hiç bir zaman yalan söylemem.

13) Yukarıdaki çocuk için ne söylenebilir?

- A) Güvenilir değildir.
B) Yanlı biridir.
C) Arkadaşları sevmez.
D) Güvenilir biridir.

Hakan, Cem' e okul çıkışı parka gitmeyi teklif etti. Cem biraz düşündü ve kararını verdi.

14) Cem' in hangi kararı vermesi uygundur?

- A) Annemin haberi yok diyerek hayır demelidir.
B) Hasan da gelirse gelirim demelidir.
C) Parka gitmeyi çok severim diyerek kabul etmelidir.
D) İlk salıncağa ben binersen giderim demelidir.

15) "155" Hangisinin numarasıdır?

- A) İtfaiyenin B) Polisin
C) Ambulansın D) Acil

FEN BİLGİSİ



I



II



III



IV

1) Yukarıdakilerden hangileri **yapay ses** kaynaklarına örnektir?

- A) I ve II B) III ve IV
C) I , II ve IV D) II , III ve IV

I. Ses dalgalar halinde her yöne yayılır.

II. Ses düz bir şekilde yayılır.

III. İnsanlar her sesi duyabilirler.

IV. Ses kaynakları doğal-yapay olarak ikiye ayrılır.

2) Yukarıdaki bilgilerden kaç tanesi **doğrudur**?

- A) Bir tanesi B) İki tanesi
C) Üç tanesi D) Dört tanesi



Yüksek sesli ortamlarda bulunmak işitme kaybına neden olabilir.



Ahmet

3) Ahmet' in verdiği bilgiye göre aşağıdakilerden hangisi işitme kaybına neden olabilecek bir ortam **değildir**?

- A) Kütüphane B) Konser salonu
C) Hava alanı D) İş makineleri

3. SINIFLAR DENEME SINAVI

4) Aşağıdakilerden hangisinin sesini duyamayız?



IŞIK KAYNAKLARI


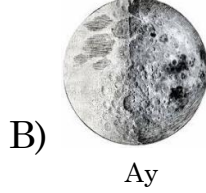

Doğal

Örnek: ?

Yapay

Örnek: Lamba

5) Aşağıdakilerden hangisi doğal ışık kaynaklarına örnek olarak gösterilemez?



1. AyrarI.... maddedir.
2. KayaII.... maddedir.
3. BuharIII.... maddedir.

6) Yukarıdaki cümlelerdeki boşluklara hangi kelimeler gelmelidir?

I	II	III
A) Katı	Sıvı	Gaz
B) Sıvı	Gaz	Katı
C) Sıvı	Katı	Gaz
D) Gaz	Katı	Sıvı

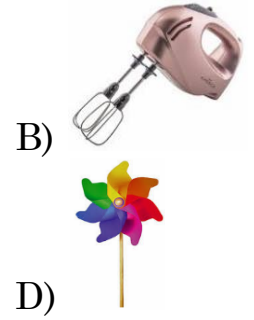



Komşumuzun çocuğu su sanıp içmiş. Üç gündür hastanede yatıyor.

7) Yukarıdaki anlatılan olayda noktalı yere hangisi yazılabilir?

- A) Ayrar B) Limonata
C) Soda D) Çamaşır suyu

8) Aşağıdakilerden hangisinin dönen kısmına dokunmak tehlikeli olabilir?



Murat

9) Murat, oturduğu masayı kendinden uzaklaştırmak istiyor. Murat hangi hareketi yapmalıdır?

- A) İtme B) Çekme
C) Döndürme D) Atma

3. SINIFLAR DENEME SINAVI



10) Yukarıdakilerden kaç tanesi dışarıdan bir etki olmadan hareket edebilirler?

- A) Bir B) İki
C) Üç D) Dört



I II III

11) Yukarıdaki görseli verilenler hangi duyu organlarımızdır?

- | I | II | III |
|------------|---------|----------|
| A) Görme | Duyma | Koklama |
| B) Görme | Koklama | Duyma |
| C) Koklama | Duyma | Hissetme |
| D) Duyma | Görme | Koklama |

I. Ellerimizle sık sık gözlerimize dokunmak.

II. Güneş gözlüğü kullanmak.

III. Yüksek sesle müzik dinlemek.

IV. Çok sıcak yiyecek ve içecekleri tüketmemek.

12) Yukarıdakilerden hangileri duyu organlarımıza zarar verebilir?

- A) I ve II B) I ve III
C) III ve IV D) II ve III

Esra, elindeki Dünya modelini boyayacaktır. Suları maviye, karaları yeşile boyayacaktır.

13) Hangi seçenekte söylenenler doğrudur?


- A) Mavi ve yeşili aynı oranda kullanacaktır.
B) Yeşili daha fazla kullanacaktır.
C) Maviyi daha fazla kullanacaktır.
D) Karalar daha fazla olduğu için yeşili çok kullanacaktır.

Dünyamızın şekli benzer.

14) Boşluğa gelecek ifade hangisi olmalıdır?

- A) Küpe B) Tepsiye
C) Koniye D) Küreye

15) Hangisinin sesine uzun süre maruz kaldığımızda işitme kaybına neden **olmaz**?



3. SINIFLAR DENEME SINAVI

İNGİLİZCE


1) Evde yemek yapılan bölüm neresidir?

- A) Kitchen B) Garden
C) Living room D) Bedroom



2) Hangisi görseldeki kişi olabilir?

- A) I am tired. B) I am sad.
C) I am happy. D) I am angry.



3) "How many playing cards are there?" sorusunun cevabı hangisidir?

- A) There are eleven playing cards.
B) There are twelve playing cards.
C) There are thirteen playing cards.
D) There are fourteen playing cards.



It is a ball.

Esra

4) Esra' nın cümlesinde bahsettiği oyuncak hangisidir?

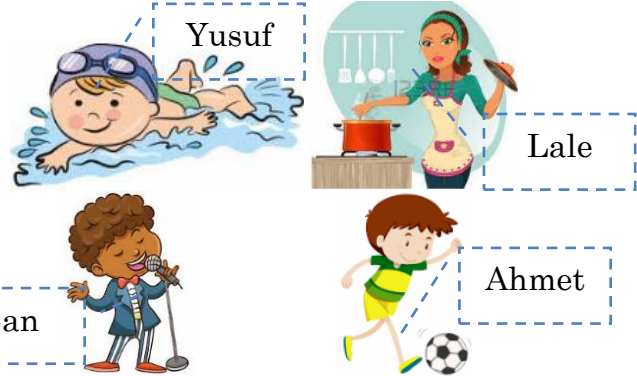


A)

B)

C)

D)



5) Yukarıdaki görsellere göre hangi cümle **yanlıştır**?

- A) Can is singing a song.
B) Yusuf is swimming.
C) Lale is cooking.
D) Ahmet is eating.

3. SINIFLAR DENEME SINAVI



Esra

My brother is tall.
He can play basketball.

6) Aşağıdakilerden hangisi Esra' nın erkek kardeşidir?



Mehmet


7) Hangisi Mehmet' in cümlesi olabilir?

- A) He is fast.
- B) He is fat.
- C) He is run.
- D) He is small.



8) Hangisi yukarıdaki görsele uygun bir ifadedir?

- A) He is my father.
- B) He is my grandfather.
- C) This is my aunt.
- D) He is my brother.



9) Yukarıdaki kaç tane arı vardır?

- A) Twenty
- B) Fifteen
- C) Sixteen
- D) Seventeen



Nisa

This is



10) Nisa' nın cümlesi hangisiyle tamamlanmalıdır?

- A) Cat
- B) Dog
- C) Monkey
- D) Cow

Sınavınız bitmiştir.