

<https://www.facebook.com/groups/277791212707127/>

## TÜRKÇE



1 ) Yukarıdaki kelime hangi seçenekte doğru bir şekilde hecelerine **ayrılmıştır**?

- A) o - to - mo - bil
- B) oto - mo - bil
- C) ot - o - mo - bil
- D) o - to - mob - il



2 ) Aşağıdakilerden hangisi, yukarıdaki kelimelerden birinin **zıt anlamlısı değildir**?

- A) Sığ
- B) Kısa
- C) Zor
- D) Soğuk



3 ) Yukarıdaki kelimeleri sözlük sırasına göre sıraladığımızda hangi seçenek **doğru olur**?

- A) deve - dağ - köpek - aslan
- B) aslan - deve - dağ - köpek
- C) aslan - dağ - deve - köpek
- D) dağ - deve - aslan - köpek

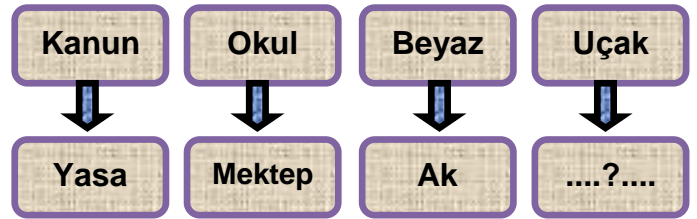


4 ) Yukarıdaki karışık verilmiş kelimelerin düzenli cümle hali hangisidir?

- A) Ayşe' nin dayısı ayın beşinde gelecekmiş.
- B) Ayşe' nin dayısı gelecekmiş.
- C) Ayşe' nin dayısı gelecek ayın beşinde gelecekmiş.
- D) Dayısı gelecekmiş Ayşe' nin ayın beşinde.

5 ) Aşağıdaki cümlelerden hangisinde " **bin** " kelimesi farklı bir anlamda kullanılmıştır?

- A) Dokuz yüz doksan dokuzdan sonra **bin** gelir.
- B) Bu tableti **bin** TL ye aldım.
- C) Babam eve **bin** tane ceviz aldı.
- D) Kardeşim bisiklete **bindi**.



6 ) Yukarıdaki etkinlikte soru işaretli yere aşağıdaki kelimelerden hangisi **gelmelidir**?

- A) Helikopter
- B) Balon
- C) Teyyare
- D) Roket

### 3. SINIFLAR DENEME SINAVI

Geçenlerde dayımla birlikte parka gitmiştik. Orda oynayan çocuklar, bisiklet sürenler vardı. Bir de ağaçta yavrularına yem getiren kuş vardı. O kuşu dakikalarca izledim. Kanatlarında mavi renkler de vardı...

7 ) Aşağıdaki verilen bilgilerden hangisi yukarıdaki metinde **anlatılmamıştır?**

- A) Bisiklet sürenler varmış.
- B) Çocuk düşen kuşu eve götürmüş.
- C) Oynayan çocuklar varmış.
- D) Kuşun kanadında mavilikler varmış.

8 ) Aşağıdaki kelimelerden hangisinin yazımında **kesme işareti ( ' ) kullanılmaldır?**

- A) Ahmetin      B) Çocuklar
- C) Kalemeler      D) Gözlük

9 ) " **Bu çocuk kimin kardeşi diye sordum** " cümlesinin sonuna hangi noktalama işareti konmalıdır?

- A) Nokta      B) Virgül
- C) Ünlem      D) Soru işareti



10 ) Melis Sare yukarıdaki resmi **annesine yapmıştır.**

Melis Sare' nin annesine vermek istediği mesaj hangisidir?

- A) Beni parka götür.
- B) Seni çok seviyorum.
- C) Kalbimi kırdın.
- D) Karnım çok acıktı.

#### MAVİ PANTOLON

Ömer' in ailesi çok fakir bir aileydi. Ömer' in babası ona bir pantolon almak için söz vermişti. Ama pantolonu ne zaman alacağını bilmiyordu. Ömer hep babasının ona alacağı pantolonu hayal ediyordu. Acaba ne renk olacaktı. Ömer mavi renkli olmasını istiyordu. Bir gün derste öğretmeni bir hayalinizin resmini yapın demişti. Ömer de mavi renkli bir pantolon resmi yapmıştı. Pantolonun her ayrıntısını ayrı ayrı çizmişti. Sanki pantolon gerçek gibiydi. Babası tesadüfen bu resmi görmüştü ve Ömer' e pantolon almaya gitti. Babası Ömer' e mavi renkli bir pantolon aldı. Ömer de çok mutlu oldu.

11 - 12 - 13 - 14 - 15. soruları yukarıdaki metne göre cevaplayınız.

11 ) Ömer' in babası ne söz vermişti?

- A) Para vermek için
- B) Mavi bir oyuncak almak için.
- C) Yeni bir kazak almak için.
- D) Pantolon almak için.

12 ) Ömer' in babası neden mavi renkli pantolon aldı?

- A) En sevdiği renk olduğu için.
- B) En ucuzu olduğu için.
- C) Ömer' in çizdiği resmi gördüğü için.
- D) Tek o renk kaldığı için.

### 3. SINIFLAR DENEME SINAVI

13 ) Ömer neden pantolon resmi çizdi?

- A) Öğretmeni hayalinizi çizini dediği için.
- B) Canı sıkılıyordu bu yüzden.
- C) Babası istediği için.
- D) Resim yapmayı sevdiği için.

14 ) Ömer' in babası için hangi ifade kullanılabilir?


- A) Çok sinirli birisidir.
- B) Çocuğunun beğenilerini önemser.
- C) Çok zengin birisidir.
- D) Ömer' i hiç sevmez.

15 ) 'Mavi Pantolon' metninde aşağıdaki kelimelerden hangisinin eş anlamlısı yoktur?

- A) Muallim
- B) Yoksul
- C) Düş
- D) Mektep

### MATEMATİK

$$\begin{array}{r} 364 \\ + 215 \\ \hline \end{array}$$



1 ) Yukarıdaki işlemin sonucu kaçtır?





- A) 579
- B) 564
- C) 580
- D) 578




2 ) Yusuf 1. gün 138 sayfa kitap okudu. 2. gün ise 167 sayfa daha kitap okudu. Yusuf iki günde toplam kaç sayfa kitap okumuştur?





- A) 295
- B) 305
- C) 395
- D) 205






3 ) Yukarıdaki saati hangi seçenek satın alabilir?


A)     


B)    


C)     


D)   


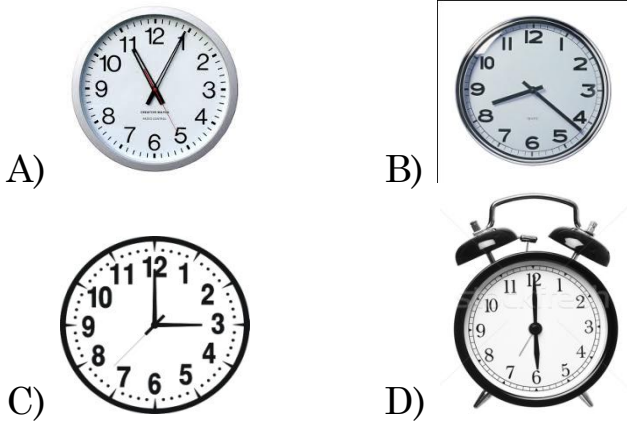
4 ) Aşağıdakilerden hangisi ışına örnektir?



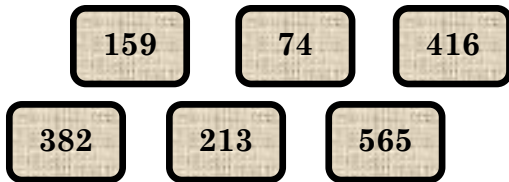
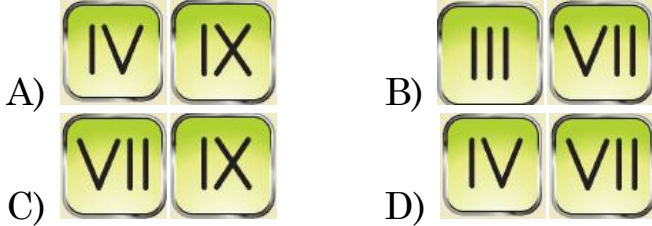


### 3. SINIFLAR DENEME SINAVI

5 ) Aşağıdaki saatlerden hangisi dar açığa örnektir?



6 ) Yukarıdaki romen rakamlarından hangileri 5 ten büyüktür?



7 ) Yukarıdaki sayılardan hangileri tek sayılardır?

- A) **159 - 74 - 416**
- B) **159 - 213 - 382**
- C) **74 - 416 - 382**
- D) **159 - 213 - 565**

8 ) Ayşe' nin bu günkü yaşı 13 tür, kardeşi ise 4 yaşındadır. Ayşe ile kardeşinin 5 yıl sonraki yaşları toplamı kaç olur?

- A) 22 B) 27
- C) 17 D) 37

4 - 8 - 12 - ..... - 20 - 24 -

9 ) Yukarıdaki sayı örüntüsünde boş bırakılan yere aşağıdakilerden hangisi gelmelidir?

- A) 13 B) 16
- C) 14 D) 15



10 ) Yukarıdaki rakamlar bir kere kullanılarak yazılabilecek en büyük çift sayı kaçtır?

- A) **521** B) **152**
- C) **512** D) **125**



11 ) Yukarıdaki işlemin sonucu kaçtır?

- A) 428 B) 642
- C) 742 D) 652

Çiftlikteki hayvan sayısı	
İnek	
Koyun	
Tavuk	

NOT : Her şekil 5 hayvanı göstermektedir

12 ) Yukarıdaki tablodaki verilere göre bu çiftlikteki ineklerin sayısı kaçtır?

- A) 25 B) 5  
C) 60 D) 12

13 ) Yukarıdaki çiftlikte toplam kaç hayvan bulunmaktadır?

- A) 12 B) 60  
C) 24 D) 36



14 ) Yukarıdaki resimler sırasıyla hangi geometrik cisimlere örnektir?

- A) Kare prizma - Küp - Piramit  
B) Silindir - Kare prizma - koni  
C) Silindir - Küre - Üçgen prizma  
D) Silindir - Küp - Üçgen prizma

395	713	456	735
-----	-----	-----	-----

15 ) Yukarıdaki sayılar hangi seçenekte doğru bir şekilde sıralanmıştır?

- A)  $395 > 713 > 456 > 735$   
B)  $735 > 713 > 395 > 456$   
C)  $735 > 713 > 456 > 395$   
D)  $713 > 735 > 456 > 395$

### 3. SINIFLAR DENEME SINAVI

#### FEN BİLİMLERİ



Elektrik üreten rüzgar türbinleri .....?.... hareketi yapar.

1 ) Yukarıdaki cümlede boş bırakılan yeri hangisiyle **tamamlamalıyız**?

- A) Sallanma B) Dönme  
C) Hızlanma D) Yavaşlama



2 ) Yukarıdaki at arabasını hareket ettirmek için, at hangi kuvveti **uygular**?

- A) Çekme hareketi  
B) İtme hareketi  
C) Kuvvet uygulamaz  
D) Sallanma hareketi



I



II



III

3 ) Yukarıdaki görsellerden hangisi veya hangileri sallanma hareketi yapmaktadır?

- A) Yalnız I B) II ve III  
C) I ve II D) I ve III

4 ) 'Yeraltı suları da bu katmandadır. Bu bilgiye göre hangi katmandan bahsedilmektedir?

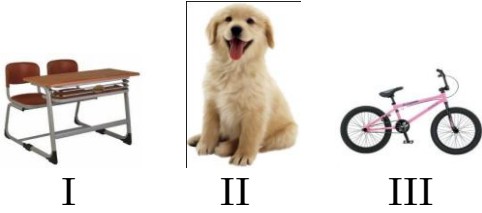
- A) Hava katmanı B) Su katmanı  
C) Kara katmanı C) Atmosfer

### 3. SINIFLAR DENEME SINAVI



5 ) Görseldeki oyunu oynayan çocuklar ipe hangi kuvveti uygulamaktadır?

- A) İtme B) Çekme  
C) Yön değiştirme D) Kaldırma

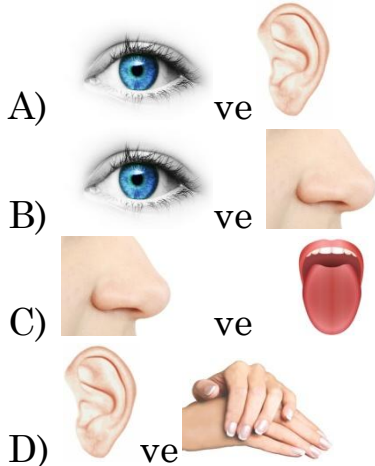


6 ) Yukarıdaki görsellerdeki varlıklardan hangisi veya hangileri dışarıdan bir etki olmadan kendiliğinden hareket edebilir?

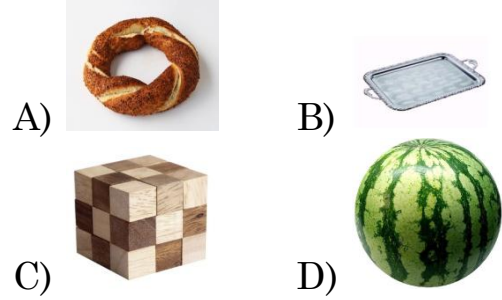
- A) I , II ve III B) I ve II  
C) Yalnız III D) Yalnız II

Çiftçi Ahmet tarlasına gitmekteydi. Tarlasına yaklaşınca yanık kokuları aldı. Tarlasına varınca baktı ki bütün ekinleri yanmıştı. Tarlasındaki ekinler simsiyah küle dönmüştü.

7 ) Yukarıdaki metinde hangi duyu organları kullanılmıştır?



8 ) Hangisi Dünyamızın şekline benzemektedir?



Tüm insanlar, tüm hayvanlar ve bitkiler bu katmanda yaşarlar.



Bu katmanın diğer adı atmosferdir.



Okyanusla, denizler, göller, akarsular ve yer altı suları bu katmanda bulunur.

9 ) Yukarıdaki bilgilere göre hangi seçenek doğru verilmiştir?

- |          |      |      |
|----------|------|------|
| ★        | ☾    | #    |
| A) Hava  | Kara | Su   |
| B) Kara  | Hava | Su   |
| C) Kara  | Su   | Hava |
| D) Manto | Kara | Su   |



10 ) Yukarıdaki testereyi kullanan bir kişi **hangi iki** hareketi yapar?

- A) Sallanma - Dönme  
B) Kaldırma - İtme  
C) İtme - Çekme  
D) İtme - Dönme

### 3. SINIFLAR DENEME SINAVI

Mert



Bu duyu organımız aynı zamanda düzgün konuşmamıza da yardımcı olur.

11 ) Mert' in bahsettiği duyu organımız hangisidir?

- A) Kulak B) Dil  
C) Deri D) Burun



Bir polis köpeği, binlerce kişi arasından aranan kokuya sahip kişiyi ya da maddeyi bulabilir.

12 ) Bu bilgiye göre köpek hayvanının hangi **duyusu** daha gelişmiştir?

- A) Görme B) İşitme  
C) Tat alma D) Koklama

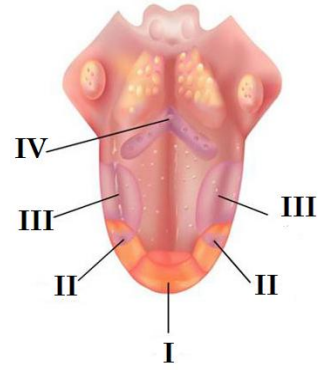


13 ) Yukarıdaki resimde okun hareket etmesini sağlayan kuvvet hangisidir?

- A) İtme B) Dönme  
C) Çekme D) Sallanma

14 ) "Çok fazla aydınlıkta ve çok az ışıklı ortamda bulunmak. Televizyon, bilgisayar gibi aletlere çok yakından bakmak." Bu durumlar hangi duyumuzun sağlığına zarar verebilir?

- A) Kulak B) Burun  
C) Deri D) Göz



15 ) Dilin tat alma bölümleri hangi seçenekte **doğru verilmiştir**?

- |          | I     | II    | III   | IV |
|----------|-------|-------|-------|----|
| A) Tatlı | Ekşi  | Tuzlu | Acı   |    |
| B) Acı   | Tatlı | Ekşi  | Tuzlu |    |
| C) Tatlı | Tuzlu | Ekşi  | Acı   |    |
| D) Acı   | Tuzlu | Tatlı | Ekşi  |    |

### HAYAT BİLGİSİ

1 ) Aşağıdakilerden hangisi okul eşyalarından **değildir**?

- A) B) C) D)

2 ) Aşağıdaki ifadelerden hangisi **doğru değildir**?

- A) Her akşam kitap okurum.
- B) Kişisel temizliğime özen gösteririm.
- C) Tanımadığım kişiler bana para verirse alırım.
- D) Tanımadığım kişilerin arabasına binmem.





3 ) Trafikte yukarıdakilere benzer bir çok trafik levhası ve işaretleri bulunmaktadır. Bu levhalar neden konulmuştur?

- A) Trafik işaret ve levhaları trafikte düzeni sağlamak içindir.
- B) Yol kenarlarını süslemek için.
- C) Kuşların üstlerine konmaları için.
- D) Bu ışıklar ve levhalar çok gereksiz.



4 ) "Zeynep okuldan eve dönerken, tanımadığı bir kişi onu evine götürmeyi teklif etti."

Zeynep' in bu durumda nasıl davranması gerekir?

- A) Arabaya binmeli ve teşekkür etmeli.
- B) Hayır demeli ve oradan hızla uzaklaşmalı.
- C) Arabaya binmeli ama arka koltuğa oturmalı.
- D) Arabaya binmeli ama harçlığından adama da vermeli.

5 ) Hangisi **yanlış** bir davranıştır?

- A) Gereksiz yanan lambaları kapatmak.
- B) Boşa akan muslukları kapamak.
- C) Kağıtlardan uçak yapıp atmak.
- D) Yerlere çöp atmamak.



6 ) Yukarıdaki araca ihtiyacımız olursa hangi numarayı aramamız gerekir?

- A) 145
- B) 155
- C) 110
- D) 112

7 ) Aşağıdakilerden hangisi ilk cumhur başkanımızdır?



A)

M. Kemal Atatürk

B)

M. Akif ERSOY

C)



İsmet İNÖNÜ

D)



R. Tayyip ERDOĞAN

8 ) Aşağıdaki milli bayram ve tarihleri eşleştirmelerinden hangisi **yanlıştır**?

- A) 29 Ekim Cumhuriyet Bayramı
- B) 30 Temmuz Zafer Bayramı
- C) 23 Nisan Ulusal Egemenlik ve Çocuk Bayramı
- D) 19 Mayıs Atatürk' ü Anma Gençlik ve Spor Bayra.

### 3. SINIFLAR DENEME SINAVI



Yumurta

I



Kola

II



Süt

III



Cips

IV

9 ) Yukarıdaki yiyeceklerden hangileri sağlıklıdır?

- A) I ve II                      B) III ve IV  
C) I ve III                     D) II ve IV



10 ) Yukarıdaki krokiye göre Deniz Apt. nerededir?

- A) Devlet Hastanesinin karşısında.  
B) Eczanenin güneyindedir.  
C) Okulun doğusundadır.  
D) Manav ile bizim evin arasındadır.

11 ) "Her yıl 29 Ekim günü bayram olarak kutlanır."

Bu kutlamaların yapılma nedeni nedir?

- A) Cumhuriyetin ilan edildiği gün olduğu için.  
B) Meclis açıldığı gün olmasından.  
C) Atatürk' ün doğum günü olduğundan.  
D) Kurtuluş Savaşı' nın başladığı gün olduğundan.

12 ) Okullarda kuralların olmasının nedeni nedir?

- A) İsteddiğimiz gibi davranmak için kurallar vardır.  
B) Düzenli bir eğitim-öğretim yapılması için.  
C) Daha iyi eğlenmek için.  
D) Cezalar vermek için.

13 ) Aşağıdakilerden hangisi fiziksel özelliklerinden dolayı mutlu olduğunu belirtmiştir?

- A) Saçlarım uzun ancak Murat' ın saçları benden daha güzel  
B) Boyum çok kısa olduğu için basketbol oynayamıyorum.  
C) Yanaklarım tombuldur, gülünce sevimli olurum.  
D) Yüzümdeki çiller bana hiç yakışmıyor. onları sevmiyorum



14 ) Yukarıdaki resimdeki gibi bir yangın gördüğümüzde ilk önce aramamız gereken numara hangisidir?

- A) 110                      B) 145  
C) 186                     D) 170



15 ) Alışverişlerimizde aşağıdakilerden hangisini yapmamız **doğru olmaz**?

- A) TSE damgasının olup olmadığına bakmalıyız.
- B) Ürünün son kullanma tarihine bakmalıyız.
- C) Ambalajlı ürünlerin açılmamış olmasına dikkat etmeliyiz.
- D) Alışverişlerde fiş almamıza gerek yoktur.

### İNGİLİZCE



1 ) Yukarıdaki resmi anlatan ifade hangisidir?

- A) He is strong.
- B) He is heavy.
- C) He is small
- D) He is thin.



Young



...?...


2 ) Yukarıdaki boşluğa hangisi yazılmalıdır?

- A) Big
- B) Old
- C) Fast
- D) Slow



3 ) Yukarıdaki sayı örüntüsünde boşluğa hangisi gelmelidir?

- A) Eleven
- B) Twelve
- C) Thirteen
- D) Sixteen



How many apples?

4 ) Yukarıdaki öğrencinin sorusunun cevabı hangisidir?

- A) Eleven
- B) Twelve
- C) Thirteen
- D) Sixteen



Fast




...?...

5 ) Soru işaretli yere ne yazılmalı?

- A) Slow
- B) Big
- C) Tall
- D) Strong

### 3. SINIFLAR DENEME SINAVI



6 ) Yukarıdaki ailede işaretli olan kimdir?

- A) Father B) Mother  
C) Sister D) Brother



7 ) Yukarıdaki resimdeki hayvan nedir?

- A) Camel B) Cat  
C) Bird D) Dog







Bu kişi annemin  
kardeşidir. Ona ben  
nasıl seslenirim?  
This is my .....

8 ) Bu çocuk nasıl seslenmelidir?

- A) Uncle B) Aunt  
C) Mother D) Sister



9 ) Aşağıdakilerden hangisine "Grandfather" deriz.

- A)  B)   
C)  D) 



...?...



Small

10 ) Soru işaretli yere hangisi yazılmalıdır?

- A) Big B) Thin  
C) Short D) Fast

BAŞARILAR DİLERİM