

## Şubat Ayı Kazanım Değerlendirme Sınavı

### Türkçe

İhsan amca çocuklar için oyun parkı yaptırmak istedi. Çünkü çocuklar apartman aralarında ya da yol kenarlarında oynuyorlardı. Çocukları tehlikelerden korumak isteyen İhsan amca birçok kişiden yardım toplayarak güzel bir oyun parkı yaptırdı. Bu parkta çocuklar oyun oynuyor, aileler geziyor, gençler de betik okuyorlardı.



(İlk 2 soruyu metne göre cevaplayınız.)

1.) Parçada hangi sorunun cevabı yoktur?

- a) Gençler parkta ne yapıyorlar?
- b) Parkta kaç kişi gezmiştir?
- c) Park yapılmadan önce çocuklar nerede oynuyorlardı?

2.) İhsan amcanın kişiliği hakkında aş. hang. söylenbilir?

- a) Öfkeli
- b) Tembel
- c) Duyarlı

3.)

Gamze dün sabah koşarak okula gitti.

Yukarıdaki cümleye göre hangi sorunun cevabı yoktur?

- a) Ne kadar?
- b) Ne zaman?
- c) Kim?

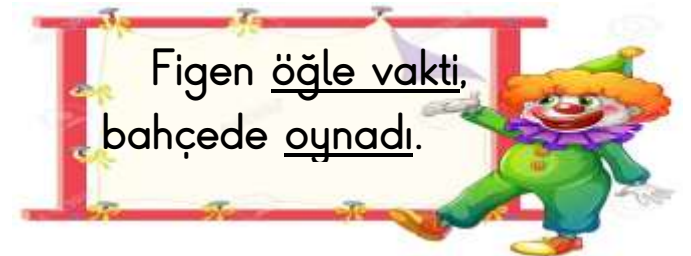
4.)



Remzi, Mehmet, Serdar ve Nihat abecesel sıraya göre dizilmişlerdir. Buna göre 3. sırada kim yer alır?

- a) Remzi
- b) Serdar
- c) Nihat

5.)



Altı çizili sözcükler sırasıyla hikayenin hangi unsurlarını belirtmektedir?

- a) Yer-Zaman
- b) Karakter-Olay
- c) Zaman-Olay

6.) Aş. hangisinde yanlışlık yapılmamıştır?

- a) Ben Tok Sokakta oturuyorum.
- b) Ben Tok Sokak'ta oturuyorum.
- c) Ben Tok Sokak'ta oturuyorum?

7.)

● Evin salonundan yavaşça ve sessizce geçti.

■ Okulda arkadaşı ile sohbet etti.

▲ Sema odasındaki kitapları çantasına koydu.

★ Kapıyı kapatıp servise binerek okula gitti.

Yukarıda verilen cümleleri oluş sırasına göre sıralarsak

sıralama nasıl olur?

- a) ▲ ★ ■ ●
- b) ● ■ ★ ▲
- c) ▲ ● ★ ■

8.)



Yukarıdaki kelimelerin anlam ilişkisi aş. hangisinde yoktur?

- a) Al-Kırmızı      b) Konuk-Misafir
- c) En-Boy

9.) Aş. hangisinde hayali unsur kullanılmıştır?

- a) Fatma yıldızlara su verdi.
- b) Enes dişlerini çok güzel biçimde temizledi.
- c) Şeyma ayakkabısının bağcıklarını çözdü.

10.)



Altı çizili kelimelerden yanlış yazılanlar hangileridir?

- a) 1-2      b) 2-4      c) 3-4

11.)

Giray ders çalıştığı için başarılı oldu.

Yukarıdaki sebep-sonuç cümlesi için aş. hangisi yanlıştır?

- a) "Giray" olay kısmıdır.
- b) "ders çalıştığı için" sebep kısmıdır.
- c) "başarılı oldu" sonuç kısmıdır.

12.) Aşağıdakilerden hangisinde yanlışlık yapılmıştır?

- a) Mardin'den geldi mi?
- b) Aslının elbisesi çok temizdi.
- c) 9 Nisan 2018'de gezi düzenlenecek.

13.)



Yukarıdaki sözcük hangi şıkta

yanlış yerden ayrılmıştır?

- a) Defterlerin-  
dekiler
- b) Defterlerindek-  
iler
- c) Defterle-  
rindekiler

14.) Aşağıdakilerden hangisi cümledir?

- a) Kapıdaki çöpleri sırası ile çöp poşetlerine
- b) Yunus ile Ceren kitaplarını sınıfa bırakıp
- c) Ailem ile birlikte bu akşam film izleyeceğiz

15.)









Yukarıdaki kelimelerle oluşturulan cümlelerin hangisi devrik cümledir?




- a) Eve Defne şimdi gitti.
- b) Defne şimdi eve gitti.
- c) Defne eve şimdi gitti.

## Matematik

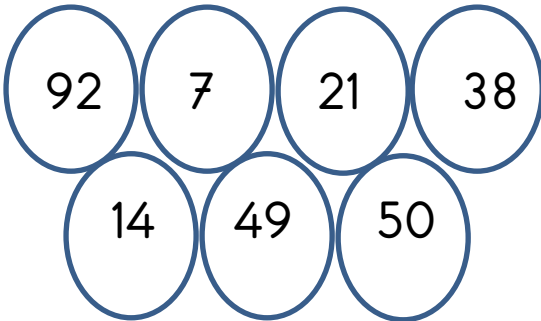
1.)

Sayı	89	
Onluk-Birlik		
Basamak Adları		
Sayı Değeri		
Basamak Değeri		

Tabloda verilenler için aşağıdakilerden hangisi yanlıştır?

- a)  yerine "onlar basamağı" yazılmalıdır.  
b)  yerine "80" yazılmalıdır.  
c)  yerine "9" yazılmalıdır.

2.)



Yukarıda verilen sayılarla ilgili hangi ifade doğrudur?

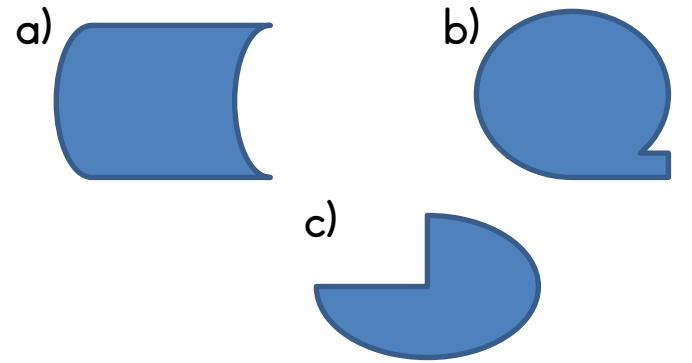
- a) 3 tane tek sayı vardır.  
b) 5 tane çift sayı vardır.  
c) "38" sayısı tek sayıdır.

3.)




Aşağıda verilen sayılardan hangisi en yakın onluğuna yuvarlandığında yukarıdaki sayılardan biri elde edilir?  
a) 95      b) 76      c) 67

4.) Aş. hangisi simetriktir?



5.)



Yukarıda verilen sayılar küçükten büyüğe sıralandığında baştan 3. sayı hangisi olur?  
a) 87      b) 94      c) 96

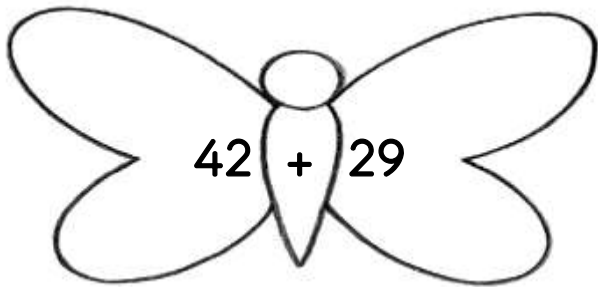
6.)



Murat eli ile gösterdiği tarafa bakmaktadır. Murat saat yönünde yarım dönüş yaparsa hangi hayvana bakmış olur?

- a) Tavşan      b) Koyun      c) At

7.)



Tahmini Sonuç	Gerçek Sonuç	Fark

Kelebek üzerinde verilen işlemin tahmini sonucu ile gerçek sonucu arasındaki farkı kaç olur?

- a) 3      b) 2      c) 1

8.)

Fiyat tablosu

Ekmek : 1 TL	Sakız : 50 Kr
Şeker: 25 Kr	Defter : 5 TL

Esmâ'nın 20 lirası ile alışveriş yaptı. Esmâ 1 defter, 4 sakız, 8 şeker ve 3 ekmek almıştır. Esmâ kaç lira para üstü alır?

- a) 12 TL      b) 8 TL      c) 10 TL

9.)

Renkli Kalemler Tablosu

Renkler	Nesne
Mavi	
Kırmızı	
Yeşil	

(Her şekil 4 kalemi göstermektedir.)

Tüm kalemlerin toplamı

kaçtır?

- a) 48      b) 52      c) 56


10.)



4 fincan su ile 1 kupa bardağı doluyor. 3 kupa su ile kaç fincan dolar?

- a) 8      b) 12      c) 16

11.)



Yukarıda verilenlere göre

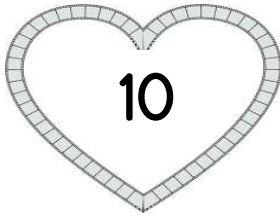
kitaplar kaç kilogramdır?

- a) 10 kg      b) 6 kg      c) 4 kg

12.) Meryem 9 yaşındadır. Fuat, Meryem'den 4 yaş küçüktür.

İkisinin yaşları toplamı kaçtır?

- a) 14      b) 13      c) 5



13.)

Aşağıdakilerden hangisinin sonucu yukarıdaki sayı ile aynı değildir?

- a)  $5+5$       b)  $2 \times 5$   
c)  $2+2+2+2$

14.) Bahçede 6 tane tavşan vardır. Atlar, tavşanların 4 katıdır.

Bahçede kaç at vardır?

- a) 10      b) 24      c) 30

15.) Semra 8 sayısının 2 fazlasını buluyor. Bulduğu sayı ile 3 sayısını çarpıyor. Semra en son hangi sonuca ulaşmıştır?

- a) 30      b) 18      c) 13



## Hayat Bilgisi

### 1.) Aş. hangisi yanlıştır?

- a) Araçta iken emniyet kemerimizi takmalıyız.
- b) Bisiklet ile hız yarışması yapabiliriz.
- c) Acil yardım telefon numaralarını bilmeliyiz.

### 2.)



Yukarıdaki fotoğrafa göre hangi ifade doğru olur?

- a) Yolda oyun oynarsak başımıza bir kaza gelebilir.
- b) Her yerde oyun oynamalıyız.
- c) Yollarda oyun oynanır.

### 3.)



Bisiklet kullanırken hangilerini takmalıyız?

- a) Kask ve dizlik
- b) Şemsiye ve kask
- c) Dizlik ve şemsiye

### 4.)



Tanımadığımız birisi ile karşılaşırsak hangisini yapmalıyız?

- a) Telefon numaramızı vermeliyiz.
- b) Adresimizi vermeliyiz.
- c) Onu tanımadığımızı söylemeliyiz.

### 5.)



Yayalar için kırmızı ışık yanmıştır. Bu durumda yayalar ne yapmalıdır?

- a) Karşıya geçmelidirler.
- b) Yolun ortasına doğru yürümelidirler.
- c) Yeşil ışığın yanmasını beklemelidirler.

6.)



Ekmek



Patates



Makarna

Yukarıdaki yiyecekler için aş.

hangisi söylenebilir?

- a) Bizi hastalıktan korurlar.
- b) Bize enerji verirler.
- c) Bizi çok fazla büyütürler.

7.) Aşağıdakilerden hangisi doğrudur?

- a) Spor yaparsak hasta oluruz.
- b) İlaçlarımızı zamanında kullanmalıyız.
- c) Trafik polisi bizi muayene eder.

8.)



Okulumuzda hangisini

yapmamalıyız?

- a) Ortak kullanım alanlarına özen göstermemeliyiz.
- b) Gereksiz yanan lambaları söndürmeliyiz.
- c) Sütlerimizi ve üzümlerimizi dikkatli tüketmeliyiz.

9.)



Merve elini iyice yıkadı. Daha sonra zamanında sofraya geldi. Ailesi ile yemek yedi. Yemeği yapanlara “eline sağlık” dedi. Daha sonra sofranın toplanmasına yardım etti. Elini yıkamadan odasına geçti. Ödevlerini yaptı.

Merve'nin hangi davranışı yanlıştır?

- a) Nezaket ifadeleri kullanmaması.
- b) Yemekten sonra elini yıkamaması.
- c) Sofraya geç oturması.

10.)



Annemizin erkek kardeşine ne deriz?

- a) Amca
- b) Dede
- c) Dayı



11.)



Aş. hangisi doğrudur?

- a) Bayramlarda akrabalarımızı ve büyüklerimizi ziyaret etmeliyiz.
- b) Evde sadece istediğimiz işleri yapmalıyız.
- c) Ailemiz ile sohbet etmeyip televizyon izlemeliyiz.

12.)



Aşağıdakilerden hangisi

yanlıştır?

- a) Başkentimiz İstanbul'dur.
- b) Şanlıurfa bir ilimizdir.
- c) Şehir sayımız 81'dir.

13.)



Yukarıdakilerden kaç tanesi zorunlu ihtiyacımızdır?

- a) 5
- b) 4
- c) 3

14.)



Aşağıdakilerden hangisi yanlıştır?

- a) Arkadaşlarımızı olduğu gibi kabul etmeliyiz.
- b) Oynadığımız her oyunu kazanmak zorundayız.
- c) Grup çalışmalarında arkadaşlarımıza destek olmalıyız.

15.) Aşağıdakilerden hangisi doğrudur?

- a) Boy uzunluğu fiziksel özelliktir.
- b) Kaynaklarımızı istediğimiz kadar kullanabiliriz.
- c) Oyunda kazanan arkadaşlarımızı tebrik etmeliyiz.

## Türkçe

### Kazanımlar ve Sonuçlar

(Sınıfça doğru ve yanlış yapılan soruları değerlendirme tablosu)

Soru no	Konular	D	Y
1	Okuduğu parçayı anlama		
2	Okuduğu parçayı anlama - Kelime anlamı bilgisi		
3	5N 1K		
4	Alfabetik sıralama		
5	Hikayenin unsurları		
6	Yazım ve noktalama kuralları		
7	Olayların oluş sırası		
8	Eş-zıt anlam		
9	Gerçek-hayali unsurlar		
10	Yazımı karıştırılan kelimeler		
11	Sebeup-sonuç cümleleri		
12	Yazım ve noktalama kuralları(2)		
13	Yazım ve noktalama kuralları(3) Satır sonuna sığmayan sözcükler		
14	Cümle bilgisi		
15	Cümle bilgisi(2) Karışık halde verilen kelimelerden anlamlı ve kurallı cümleler kurma		

## Matematik

### Kazanımlar ve Sonuçlar

(Sınıfça doğru ve yanlış yapılan soruları değerlendirme tablosu)

Soru no	Konular	D	Y
1	Onluk-Birlikler, Basamak adı-değeri		
2	Tek ve çift sayılar		
3	Sayıları en yakın onluğa yuvarlama		
4	Simetri		
5	Sayılarda karşılaştırma/sıralama		
6	Yer, yön, hareket		
7	Tahmini sonuç, gerçek sonuç ile farkları		
8	Paralarımız		
9	Tablolar		
10	Sıvıları ölçme		
11	Tartma		
12	Toplama-çıkarma problemleri		
13	Çarpma işlemi-Temel işlemler		
14	Çarpma işlemi(2)-Problemler		
15	Çarpma işlemi(3)-Problemler		

## Hayat Bilgisi

### Kazanımlar ve Sonular

(Sınıfa doėru ve yanlış yapılan soruları deėerlendirme tablosu)

Soru no	Konular	D	Y
1	Güvenli Hayat		
2	Güvenli Hayat		
3	Güvenli Hayat		
4	Güvenli Hayat		
5	Güvenli Hayat(5)		
6	Saėlıklı Hayat		
7	Saėlıklı Hayat		
8	Saėlıklı Hayat		
9	Saėlıklı Hayat(4)		
10	Ailem ve Evim		
11	Ailem ve Evim		
12	Ailem ve Evim(3)		
13	Ben ve Okulum		
14	Ben ve Okulum		
15	Ben ve Okulum(3)		

Adı Soyadı:.....

Sınıfı:..... No:.....

Türkçe

- 1 ☐ A ☐ B ☐ C
- 2 ☐ A ☐ B ☐ C
- 3 ☐ A ☐ B ☐ C
- 4 ☐ A ☐ B ☐ C
- 5 ☐ A ☐ B ☐ C
- 6 ☐ A ☐ B ☐ C
- 7 ☐ A ☐ B ☐ C
- 8 ☐ A ☐ B ☐ C
- 9 ☐ A ☐ B ☐ C
- 10 ☐ A ☐ B ☐ C
- 11 ☐ A ☐ B ☐ C
- 12 ☐ A ☐ B ☐ C
- 13 ☐ A ☐ B ☐ C
- 14 ☐ A ☐ B ☐ C
- 15 ☐ A ☐ B ☐ C

D / Y: .....

Matematik

- 1 ☐ A ☐ B ☐ C
- 2 ☐ A ☐ B ☐ C
- 3 ☐ A ☐ B ☐ C
- 4 ☐ A ☐ B ☐ C
- 5 ☐ A ☐ B ☐ C
- 6 ☐ A ☐ B ☐ C
- 7 ☐ A ☐ B ☐ C
- 8 ☐ A ☐ B ☐ C
- 9 ☐ A ☐ B ☐ C
- 10 ☐ A ☐ B ☐ C
- 11 ☐ A ☐ B ☐ C
- 12 ☐ A ☐ B ☐ C
- 13 ☐ A ☐ B ☐ C
- 14 ☐ A ☐ B ☐ C
- 15 ☐ A ☐ B ☐ C

D / Y: .....

Hayat Bilgisi

- 1 ☐ A ☐ B ☐ C
- 2 ☐ A ☐ B ☐ C
- 3 ☐ A ☐ B ☐ C
- 4 ☐ A ☐ B ☐ C
- 5 ☐ A ☐ B ☐ C
- 6 ☐ A ☐ B ☐ C
- 7 ☐ A ☐ B ☐ C
- 8 ☐ A ☐ B ☐ C
- 9 ☐ A ☐ B ☐ C
- 10 ☐ A ☐ B ☐ C
- 11 ☐ A ☐ B ☐ C
- 12 ☐ A ☐ B ☐ C
- 13 ☐ A ☐ B ☐ C
- 14 ☐ A ☐ B ☐ C
- 15 ☐ A ☐ B ☐ C

D / Y: .....

Adı Soyadı:.....

Sınıfı:..... No:.....

Türkçe

- 1 ☐ A ☐ B ☐ C
- 2 ☐ A ☐ B ☐ C
- 3 ☐ A ☐ B ☐ C
- 4 ☐ A ☐ B ☐ C
- 5 ☐ A ☐ B ☐ C
- 6 ☐ A ☐ B ☐ C
- 7 ☐ A ☐ B ☐ C
- 8 ☐ A ☐ B ☐ C
- 9 ☐ A ☐ B ☐ C
- 10 ☐ A ☐ B ☐ C
- 11 ☐ A ☐ B ☐ C
- 12 ☐ A ☐ B ☐ C
- 13 ☐ A ☐ B ☐ C
- 14 ☐ A ☐ B ☐ C
- 15 ☐ A ☐ B ☐ C

D / Y: .....

Matematik

- 1 ☐ A ☐ B ☐ C
- 2 ☐ A ☐ B ☐ C
- 3 ☐ A ☐ B ☐ C
- 4 ☐ A ☐ B ☐ C
- 5 ☐ A ☐ B ☐ C
- 6 ☐ A ☐ B ☐ C
- 7 ☐ A ☐ B ☐ C
- 8 ☐ A ☐ B ☐ C
- 9 ☐ A ☐ B ☐ C
- 10 ☐ A ☐ B ☐ C
- 11 ☐ A ☐ B ☐ C
- 12 ☐ A ☐ B ☐ C
- 13 ☐ A ☐ B ☐ C
- 14 ☐ A ☐ B ☐ C
- 15 ☐ A ☐ B ☐ C

D / Y: .....

Hayat Bilgisi

- 1 ☐ A ☐ B ☐ C
- 2 ☐ A ☐ B ☐ C
- 3 ☐ A ☐ B ☐ C
- 4 ☐ A ☐ B ☐ C
- 5 ☐ A ☐ B ☐ C
- 6 ☐ A ☐ B ☐ C
- 7 ☐ A ☐ B ☐ C
- 8 ☐ A ☐ B ☐ C
- 9 ☐ A ☐ B ☐ C
- 10 ☐ A ☐ B ☐ C
- 11 ☐ A ☐ B ☐ C
- 12 ☐ A ☐ B ☐ C
- 13 ☐ A ☐ B ☐ C
- 14 ☐ A ☐ B ☐ C
- 15 ☐ A ☐ B ☐ C

D / Y: .....



## YANIT ANAHTARI

### Türkçe

1.b  
2.c  
3.a  
4.a  
5.c  
6.b  
7.c  
8.c  
9.a  
10.b  
11.a  
12.b  
13.b  
14.c  
15.a

### Matematik

1.b  
2.a  
3.c  
4.a  
5.a  
6.c  
7.c  
8.b  
9.c  
10.b  
11.b  
12.a  
13.c  
14.b  
15.a

### Hayat Bilgisi

1.b  
2.a  
3.a  
4.c  
5.c  
6.b  
7.b  
8.a  
9.b  
10.c  
11.a  
12.a  
13.c  
14.b  
15.b