

## TÜRKÇE

Berat okuldan eve doğru yürüyordu. Yolda yaralı bir köpek gördü. Köpeğin durumuna çok üzüldü. Berat bu durumu babasına açıkladı. Berat'ın babası da yetkililere haber verdi. Yetkililer köpeği tedavi etti.



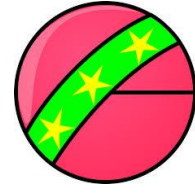

(İlk 2 soruyu parçaya göre cevaplayınız)

1.) Berat yaralı köpeği görünce hangi duyguyu hissetti?  
a) Korku b) Mutluluk c) Üzüntü

2.) Parçaya göre hangi sonuca ulaşamayız?  
a) Hayvanlara duyarlı olmalıyız.  
b) Hayvanlardan kaçmalıyız.  
c) Hayvanlara yardım etmeliyiz.

3.) Aşağıdakilerden hangisinde kelime sayısı daha fazladır?  
a) Murat iki poşet elma aldı.  
b) Ali evinde kitap okudu.  
c) Kapılarını iyice kilitlediler mi?

4.)




Yukarıda verilenleri sözlük sırasına koyarsak en sonda hangi görsel yer alır?

a)

b)

c)



5.)

Eda( )nın kalemi( ) kitabı var mı( )

Parantez içlerine sırasıyla hangi noktalama işaretleri gelmelidir?

a) (')(?)(.)

b) (')(,)(?)

c) (,)(,)(?)

6.)



Yukarıda verilen kelime hangi şıkta doğru ayrılmıştır?

a)

Önce-  
likli

b)

Öncel-  
ikli

c)

Önceli-  
kli

7.)

- ♥ Eve gidip parasını aldı.
- 🚫 Yeşim bir kitap gördü.
- 🌸 Parasını ödeyip kitabı aldı.
- ✗ Gördüğü kitabı çok beğendi.

Yukarıdaki cümleleri olayların oluş sırasına göre sıralarsak sıralama nasıl olur?

- a) 🌸 ♥ 🚫 ✗
- b) 🚫 ✗ ♥ 🌸
- c) ♥ 🚫 🌸 ✗

8.)



Yukarıda verilen kelimelerin anlam ilişkisi aşağıdakilerden hangisinde yoktur?

- a) Siyah - Beyaz
- b) Dar - Geniş
- c) Büyük - İri

9.) Aşağıdakilerden hangisinde hayali unsur kullanılmıştır?

- a) Dağlarla beraber türkü söyledi.
- b) Rüya gördü.
- c) Otobüse yavaşça bindi.

10.) 1- mutlu 2- kitap  
3-okuyunca 4- oldu

Yukarıda verilen kelimelerden anlamlı ve kurallı cümle oluşturulursa sıralama nasıl olur?

- a) 2-1-4-3
- b) 2-3-1-4
- c) 1-4-2-3

11.)

Ali ile Murat öğle arası beraber yemek yediler.

Yukarıdaki cümlede hikayenin unsurlarından hangisi yoktur?

- a) Zaman
- b) Karakterler
- c) Yer

12.)







Yukarıdaki cümlede yanlış yazılan kelimeler hangileridir?

- a) soğuk-sepze
- b) soğuk-yersek
- c) sepze-oluruz

## MATEMATİK

1.)


Sayı	83	
Basamak Adları		
Basamak Değerleri		

Yukarıda verilenlere göre

 ve  yerlerine ne yazılmalıdır?

		
a)	8	Birler basamağı
b)	3	Onlar basamağı
c)	80	Birler basamağı

2.)

8	12	16		24
---	----	----	---	----

Tabloya göre  yerine hangi sayı yazılmalıdır?

a) 18      b) 20      c) 24

3.)



Aşağıdakilerden hangisi en yakın onluğuna yuvarlanırsa sonuç tabeladaki sayı olur?

a) 81      b) 75      c) 68

4.)  $34 - 23 - 32 - 43$


Yukarıdaki sayıları büyükten küçüğe sıralarsak 3. sayı kaç olur?

a) 23      b) 32      c) 34

5.) Hangisinin sonucu çift sayıdır?

a)	b)	c)
29	91	50
+ 57	- 48	- 37

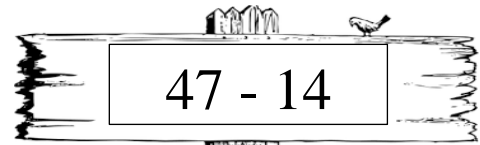
6.)



Ok yönüne bakan kişi saat yönünde 3 çeyrek dönüş yaparsa kimi görür?

a)       b)       c) 

7.)



Yukarıda verilen işlemin tahmini sonucu kaçtır?

a) 40      b) 30      c) 20

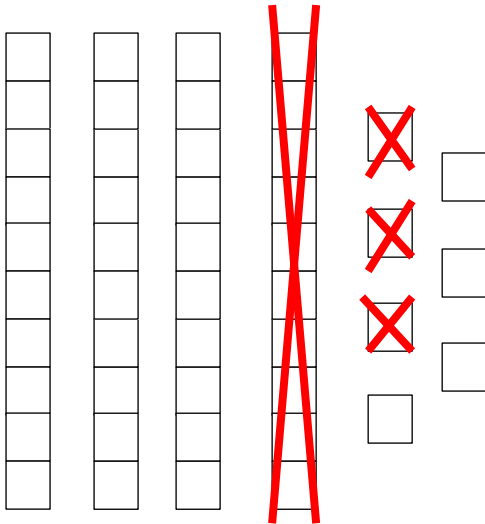
8.) 3 deste kalemin 2 düzinesini kullandım. Kaç tane kalemim kaldı?

- a) 16      b) 10      c) 6

9.) 70 sayfalık bir kitabın ilk gün 24, ikinci gün 15 sayfasını okudum. Okumadığım kaç sayfa kalmıştır?

- a) 31      b) 39      c) 49

10.)



Yukarıda verilen işlemin sonucu kaçtır?

- a) 3 onluk 3 birlik  
b) 3 onluk 4 birlik  
c) 4 onluk 3 birlik

11.) 43 liramın bir kısmı ile kitap aldım. Geriye 22 liram kaldığına göre kitap kaç liradır?

- a) 65      b) 21      c) 25

12.)



Yukarıda verilen şeklin simetrisi aşağıdakilerden hangisidir?

a)



b)



c)




## HAYAT BİLGİSİ

1.) Aşağıdakilerden hangisi fiziksel bir özelliktir?

- a) Dürüstlük                      b) Göz rengi  
b) Çalışmak

2.) Aşağıdakilerden hangisi öncelikli ihtiyacımızdır?

- a)                       b)                       c) 

3.) Aşağıdakilerden hangisi yanlıştır?

- a) Grupla çalışırsak başarımız artar.  
b) Kaynaklarımızı çokça tüketmeliyiz.  
c) Oyun oynarken kaybedebiliriz.

4.) Aşağıdakilerden hangisi diğerlerine göre daha büyüktür?

a) İl                      b) Sokak                      c) Cadde

5.)



Annemin  
kardeşlerini  
ziyaret ettik.

Özge hangi akrabasını ziyaret etmiş olamaz?

- a) Dayı                      b) Teyze                      c) Amca

6.) Aşağıdakilerden hangisi yanlıştır?

- a) Evdeki tüm işleri annemiz yapmalıdır.  
b) Babamız cam silebilir.  
c) Sofrayı biz de toplayabiliriz.

7.)



Bayram günü yaşanan olay aşağıdakilerden hangisidir?

- a) Aile ziyareti  
b) Alışveriş  
c) Piknik

8.)




Serhat nasıl beslenmektedir?

- a) Sağlıksız
- b) Düzensiz
- c) Dengeli

9.) Hastalıklardan korunmak isteyen biri aşağıdakilerden hangisini tüketmelidir?



a)



b)



c)

10.) Aşağıdakilerden hangisi doğrudur?

- a) Yemek yedikten sonra yemeği yapanlara "eline sağlık" demeliyiz.
- b) Sofraya ailemizle hep birlikte oturmamalıyız.
- c) Yemek yerken ağızımızı şapırdatmalıyız.

11.) Sağlıklı olmak için hangisi yapmamalıyız?

- a) Erken uyuyup erken uyanmalıyız.
- b) Düzenli spor yapmalıyız.
- c) Ayda 1 defa banyo yapmalıyız.

12.) Aşağıdaki bilgilerden hangisi doğru değildir?

- a) İlaçlarımızı eczaneden almalıyız.
- b) Odamızı her zaman annemiz toplamalıdır.
- c) Dişlerimizi düzenli olarak fırçalamalıyız.

## Cevap Anahtarı

### Türkçe

1. c
2. b
3. a
4. a
5. b
6. a
7. b
8. c
9. a
10. b
11. c
12. a

### Matematik

1. c
2. b
3. c
4. b
5. a
6. b
7. a
8. c
9. a
10. b
11. b
12. a

## Hayat Bilgisi

1. b
2. c
3. b
4. a
5. c
6. a
7. a
8. c
9. b
10. a
11. c
12. b