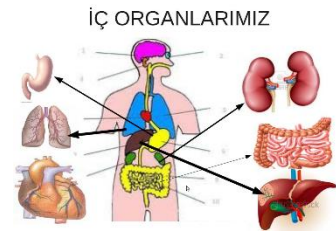


VÜCUDUM

Vücudum bir ağaç gibi.
Baş, gövde, kol ve bacakla,
İçi, dışı bir harika,
Durmaksızın çalışıyor.

Böbrekler birer fabrika
Ciğerlerim hava dolu.
Aklım çelik bir kutuda
Hayat verir nefes yolu



Midem tıpkı değirmen gibi
Dişlerim değirmen taşı.
Dilim tanır her bir tadı,
Acı, tatlı, tuzlu aşı.

Ayaklarım taşır beni,
Bir harika parmaklarım.
Nasıl dolaşır kanım bilmem ki
Olmasaydı damarlarım.

Aşağıdaki soruları metne göre cevaplayınız.


1 - Şair hangi organlardan söz ediyor?



2 - Şair çelik bir kutuyu neye benzetiyor?



3 - Midemizin görevi nedir?



Aşağıdaki cümlelerin başına doğru ise (D), yanlış ise (Y) yazınız.

1 - ☐ Vücudumuz bazen çalışıyor bazen duruyormuş.

2 - ☐ Vücudumuzdaki kan, damarlar sayesinde vücudumuzda dolaşır.

Aşağıdaki cümlelerde boş bırakılan yerleri metinden yararlanarak doldurunuz.

1 - Vücudum bir gibi

2 - Midem tıpkı gibi

3 - Dilim tanır her bir tadı. aşı

4 - Ayaklarım taşır beni. Bir harika

NOKTALAMA İŞARETLERİ

Aşağıdaki cümlelerde boş bırakılan noktalama işaretlerini yazınız.



Eyvah okula geç kaldım

Sınıfta kaç öğrenci var

Kalem kutusunda silgi açacak cetvel var

Of bütün gün çok yoruldum

Babam Ankara ya gidecek

Süt içmeyi sever misin

Hey çukura dikkat et

Akşam saat 21 30 da yatağıma yattım

Bu metinden değişik kelimeler öğrendim

Sınıf olarak TBMM ye mektup yolladık

Kardeşinin ödevlerine yardım ediyor musun

Ağacın dalındaki kuşlar nereye uçtu

Cumartesi Pazar ve Pazartesi günü yüzme kursuna gittim

Annem Pamuk un tüylerini bir güzel taradı

Kantin sırasında baştan 4 üncü idim

Yaşasın dedem bana bisiklet almış

Teyzem 1 0 04 1 982 yılında Samsun da doğmuş

Sevgili kardeşim

Masamdaki kağıt kalem ve kitaplarımı topladım

Boyalarımı evde unutunca Derya dan istedim

Okulumuzdan bir arkadaşımız basketbolda 3 oldu

Hangi oyunları seviyorsun




PROBLEMLER

2 deste çiçeğin 17 fazlası kaç tane çiçek eder?

Çözüm:

Sincap ağaçtaki 46 fındığın bir kısmını yiyince, ağaçta 21 fındık kalmıştır. Sincap kaç tane fındık yemiştir?

Çözüm:



Birler basamağı 4 olan iki basamaklı en büyük sayının 23 eksiği kaçtır?

Çözüm:

[illegible]

1 düzine oyuncak ile 2 deste
oyuncağın toplamı kaç eder?

Çözüm:

[illegible]

Baloncu amca, 19 balon satın alırken geriye 34 balonu kalmıştır. İlk başta kaç tane balonu vardır?

Çözüm:

[illegible]

Otoparkta 54 tane taksi vardı. Başka taksiler de gelince sayıları 72 olmuştur. Sonradan kaç taksi gelmiştir?

Çözüm:

[illegible]

Çiftlikte 28 tane inek ve ineklerden 15 tane fazla koyun vardır. Çiftlikte toplam kaç hayvan vardır?

Çözüm:

[illegible]

Onlar basamağı 5 olan iki basamaklı en büyük çift sayının 20 eksiği kaçtır?

Çözüm:

[illegible]

SAĞLIKLI BÜYÜME

Aşağıdaki görselleri inceleyiniz. Sağlıklı büyümemiz için neler yapılması gerektiğini kutucuklara yazınız.



.....

.....



.....

.....



.....

.....



.....

.....



.....

.....



.....

.....

Aşağıdaki cümlelerde boş bırakılan yerleri uygun kelimelerle tamamlayınız.

dengeli

el ve ayak

spor

uyku

banyo

kıyafetler

iki

yemek

Sağlıklı olmak için yaşımıza uygun yapmalıyız.

Günde kere dişlerimizi fırçalamalıyız.

Mevsime uygun giymeliyiz.

Sağlıklı olmak için beslenmeliyiz.

En iyi dinlenme yolu dur

Her gün 3 öğün yemeliyiz.

Haftada 2 kere yapmalıyız.

Sağlığımız için tırnaklarımızı kesmeliyiz.