

TÜRKÇE

(İlk 2 soruyu aşağıdaki metne göre cevaplayınız.)

Çetin okula gitmek için hazırlandı ve yola çıktı. Kırtasiyeden resim defteri ve boya kalemleri aldı. Çetin'in öğretmeni öğrencilerden resim defterlerini çıkarmalarını istedi. Öğrenciler resim yapacağı sayfaları kalemle ikiye böldüler. Sayfanın alt tarafına sevdikleri her şeyi çizdiler. Sayfanın üst tarafına ise ailelerinin resmini çizdiler. Öğretmen, öğrencilere bu resimleri neden yaptıklarını sordu. Çetin parmak kaldırarak cevap verdi:

- "İstedığımız ve sevdiğimiz eşyaların hiçbiri ailemizden üstün değildir." dedi.



1.) Parçaya göre aş. hang. ulaşırız?

- a) Öğrenciler resim yapmamıştır.
- b) Çetin ailesini üzmüştür.
- c) Ailemiz çok önemlidir.

2.) Parçaya en uygun başlık aş. hangisi olabilir?

- a) Çetin'in Alışverişi
- b) Ailemizin Değeri
- c) Öğrencilerin Dersleri

3.)

Dize Kalp Kafa Sema
Baş Gökyüzü Mısra

Kelimeler eş anlamlılarıyla eşleştirilirse hangi kelime dışta kalır?

- a) Kalp
- b) Sema
- c) Dize

4.)



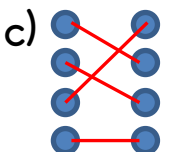
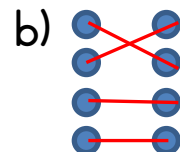
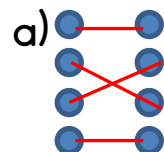
Kağan, Rojda, Temel ve Sami alfabetik sıraya göre yarışacaklardır. 3. sırada kim yer alır?

- a) Temel
- b) Sami
- c) Rojda

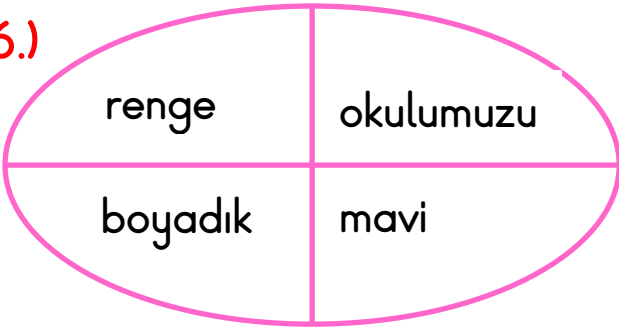
5.)

| | | | |
|----------|---|---|--------------|
| Olay | ● | ● | Yeşim |
| Yer | ● | ● | Oyun oynamak |
| Karakter | ● | ● | Okul |
| Zaman | ● | ● | Öğle vakti |

Öykü unsurlarını eşleştirirsek aş. hangisi doğru cevap olur?



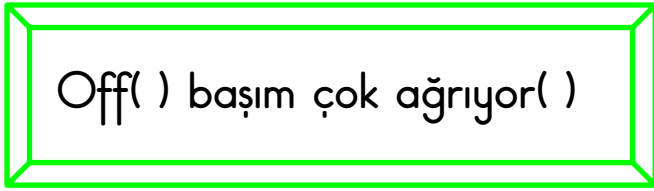
6.)



Yukarıdaki kelimelerle anlamlı ve kurallı bir cümle oluşturulursa 2. ve 4. kelimeler sırasıyla aş. hang. olur?

- a) mavi - boyadık
- b) mavi - renge
- c) okulumuzu - boyadık

7.)



Ayraçlarla belirtilen yerlere sırasıyla aş. hang. gelmelidir?

- a) (!)(.)
- b) (.)()
- c) (,)(!)

8.)

"Picama giydim, meyva yidim, sipor yaptım."

Cümlesinde hatalı yazılan kaç sözcük vardır?

- a) 3
- b) 4
- c) 5

9.) Aş. hangisi sebep-sonuç cümlesi değildir?

- a) Tarık çok başarılı bir öğrencidir.
- b) Koştuğu için çok yoruldu.
- c) Hastalandığından okula gidemiyordu.

10.) Aş. hangisinde hayali unsur kullanılmıştır?

- a) Parasının hepsini harcadı.
- b) Babası yemek yapıyordu.
- c) Elleriyle yıldızlara dokundu.

11.)

Çok düzenli olduğu ¹ herkes ona saygı duyuyordu.

Çilek ² şeftali aldı.

Hızlıca geldi, ³ yetişemedi.

Numaralandırılmış yerlere sırasıyla aş. hang. gelmelidir?

- a) ve - ama - için
- b) için - ve - ama
- c) çünkü - ve - için

12.)



Önce biraz dinlendi.



En sonunda kitabın arkasındaki soruları cevapladı.



Hasan okuldan eve geldi.



Sonra kitabını okumaya başladı.

Yukarıdaki cümleleri olayların oluş sırasına göre sıralarsak sıralama nasıl olur?

a)



b)



c)



13.)

| | |
|-------------|--------------|
| Ley-lek-ler | Dur-mad-an |
| Dom-at-es | Bi-na-la-ra |
| Ça-ma-şır | Nok-tal-a-ma |

Yukarıdaki kelimelerden kaç tanesi hecelerine yanlış ayrılmıştır?

a) 3

b) 4

c) 5

14.) Aşağıdakilerden hangisi cümle değildir?

a) İşlerinin hepsi bitti mi

b) Kitapları hazırlayıp yukarıya

c) Ödevlerim yarım kaldı

15.) Aş. hangisinin tek başına bir anlamı yoktur?

a) t

b) o

c) ot

MATEMATİK

1.) 3 düzinenin ifade ettiği sayının birler basamağında hangi rakam vardır?

- a) 36 b) 3 c) 6

2.) 12'den başlayarak 24'e kadar 3'er ritmik sayarsak kaç tane tek sayı, kaç tane çift sayı söylemiş oluruz? (12 ve 24 dahildir.)

- a) Tek sayı: 3 - Çift sayı: 2
b) Tek sayı: 2 - Çift sayı: 3
c) Tek sayı: 3 - Çift sayı: 3

3.)

| | | | |
|----|----|----|----|
| 57 | 75 | 64 | 69 |
|----|----|----|----|

Yukarıda verilen sayıları büyükten küçüğe sıralarsak 3. sayı aş. hang. olur?

- a) 64 b) 69 c) 57

4.)

40

80

76

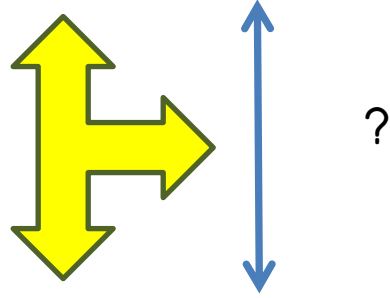
85

37

Çember içinde verilen sayılar en yakın onluklarına yuvarlandığında kare içindeki sayılarla eşleştiriliyor. Hangi sayı boşta kalır?


- a) 37 b) 76 c) 85

5.)

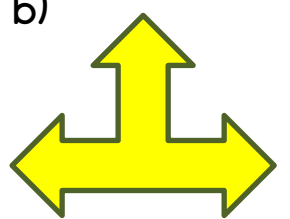


Yukarıda verilen şeklin çizilen doğruya göre simetrisi aş. hang?


a)



b)



c)

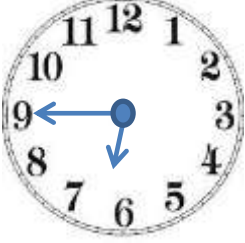


6.)

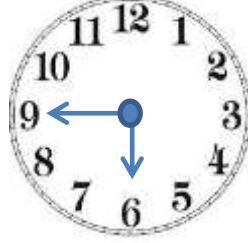


Yukarıda verilen dijital saatin analog gösterimi ař. hang?

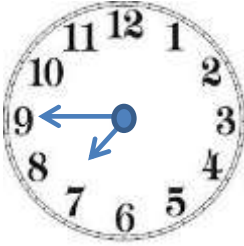
a)



b)



c)



7.)

| Hayvanlar | Boyları |
|-----------|---------------|
| Köpek | 62 santimetre |
| Kedi | 30 santimetre |
| Tavřan | 24 santimetre |

Yukarıda verilenlere göre kedi kaç santimetre daha uzun olsaydı boyu köpeğin boyu ile aynı olurdu?

a) 30

b) 32

c) 38

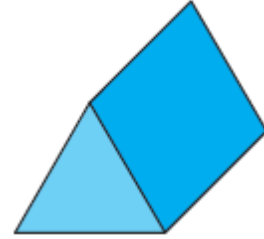
8.)



Verilen örüntüde istenilen yerlere sırasıyla ař. hang. gelmelidir?



9.)



Yukarıda verilen geometrik cismin köře sayısı ve yüz sayısı sırası ile ař. hang. doğru olarak verilmiştir?

a) 6-3

b) 6-5

c) 3-4

10.)



Ahmet'in cebinde yukarıdaki paraların hepsi vardır. Ahmet kaç lira harcarsa 29 lirası kalır?

a) 39

b) 49

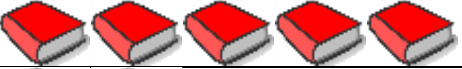


c) 59

11.) Ali bir elmayı önce 4 eşit parçaya bölmüştür. Sonra 2 parçasını yemiştir.

Yukarıda verilen bilgilere göre aş. hang. yanlıştır?

- a) Ali toplamda çeyrek elma yemiştir.
- b) Ali yarım elma yemiştir.
- c) Parçaların her biri çeyrek.

12.) Sevilen Renkler Tablosu

| Renkler | Kişi Sayısı |
|---------|---|
| Mavi |  |
| Yeşil |  |
| Kırmızı |  |

(Her nesne 4 kişiyi göstermektedir.)

Tabloya göre aş. hang. doğrudur?

- a) Kırmızı ve yeşil rengini sevenlerin farkı 2'dir.
- b) Mavi ve yeşil rengini sevenlerin toplamı 24'tür.
- c) Yeşil rengini sevenlerin 5 katı 40'tır.

13.) Murat 18 kilogramdır. Sinan, Murat'tan 4 kilogram daha hafiftir. İkisinin kütleleri toplamı kaç kilogramdır?

- a) 40
- b) 36
- c) 32

14.) 3 tavuk ve 5 tavşanın toplam kaç ayağı vardır?

- a) 22
- b) 26
- c) 8

15.) 18 kalemim vardı. 12 kalem daha aldım. Aldığım kalemleri 5 kişiye eşit olarak paylaştırdım. Kişi başına kaç kalem düşer?

- a) 7
- b) 6
- c) 5

HAYAT BİLGİSİ

- 1.) Aş. hang. doğru değildir?
- a) Sınıf başkanını öğretmen seçer.
 - b) Sınıf başkanını öğrenciler seçer.
 - c) İstedğimiz kişiye oy verebiliriz.

- 2.) Defne akşam erken yatıp sabah da erken uyanmaktadır. Ders çalışma ve kitap okuma saatlerini de hiç aksatmaz.

Defne nasıl bir öğrencidir?

- a) Tembel
- b) Düzensiz
- c) Planlı

- 3.) Aş. hang. sadece bize aittir?
- a) Kanepe
 - b) Televizyon
 - c) Diş fırçası

- 4.) Aş. hang. bizi büyüten yiyeceklerdendir?
- a) Makarna
 - b) Balık
 - c) Muz

- 5.) Aş. hangisi doğrudur?
- a) İlaçlarımızı vaktinde kullanmalıyız.
 - b) İstedğimiz zaman ilaçlarımızı kullanırız.
 - c) Hastalanırsak ilk önce eczaneye gitmeliyiz.

- 6.) Araçlardan inerken hangi kapıyı kullanmalıyız?
- a) Sağ
 - b) Sol
 - c) Şoför kapısı

- 7.) Yayalar için konulan trafik ışıkları için aş. hang. doğrudur?
- a) 3 tane ışık vardır.
 - b) 2 tane ışık vardır.
 - c) Yeşil yanınca insanlar durmalıdır.

- 8.) Aş. hang. Türkiye'nin komşusudur?
- a) İngiltere
 - b) Fransa
 - c) Bulgaristan

9.) 30 Ağustos
Bayramı'dır.

..... Atatürk'ü Anma
Gençlik Ve Spor Bayramı'dır.

Numaralandırılmış yerlere
sırasıyla aş. hang. gelmelidir?

- a) Ulusal Egemenlik ve Çocuk Bayramı - 29 Ekim
- b) Zafer - 19 Mayıs
- c) Cumhuriyet - 23 Nisan

10.) Dini bayramlar için aş. hang. yanlıştır?

- a) Evimizi bayraklarla donatırız.
- b) 2 tanedir.
- c) Akrabalarımızı ziyaret ederiz.

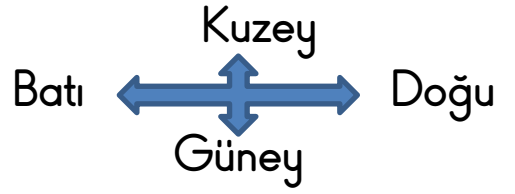
11.) Bitkiler için aş. hang. doğru değildir?

- a) Bitkilerin büyümesi için su gereklidir.
- b) Bitkiler bize oksijen verirler.
- c) Bitkiler havayı kirletirler.

12.) "Ekim" ayı hangi mevsimdedir?

- a) Kış
- b) Yaz
- c) Sonbahar

13.)



| | | |
|----------------|--------|--------|
| Hastane | Eczane | |
| Hasanların evi | Okul | Fırın |
| Pastane | Park | Bakkal |

Yukarıdaki şekle göre aş. hang. doğru değildir?

- a) Bakkalın batısında park vardır.
- b) Hastane, eczanenin doğusundadır.
- c) Pastane, Hasanların evinin güneyindedir.

14.) Toprağın üst kısmının sel ve rüzgar ile başka yerlere taşınması hangi doğal afettir?

- a) Heyelan
- b) Erozyon
- c) Deprem

Genel Kültür Sorusu

15.) Dünyamızın kaç türlü hareketi vardır?

- a) 1
- b) 2
- c) 3

Adı Soyadı:.....

Sınıfı:..... No:.....

Türkçe

- 1 ☐ A ☐ B ☐ C
- 2 ☐ A ☐ B ☐ C
- 3 ☐ A ☐ B ☐ C
- 4 ☐ A ☐ B ☐ C
- 5 ☐ A ☐ B ☐ C
- 6 ☐ A ☐ B ☐ C
- 7 ☐ A ☐ B ☐ C
- 8 ☐ A ☐ B ☐ C
- 9 ☐ A ☐ B ☐ C
- 10 ☐ A ☐ B ☐ C
- 11 ☐ A ☐ B ☐ C
- 12 ☐ A ☐ B ☐ C
- 13 ☐ A ☐ B ☐ C
- 14 ☐ A ☐ B ☐ C
- 15 ☐ A ☐ B ☐ C

D / Y:

Matematik

- 1 ☐ A ☐ B ☐ C
- 2 ☐ A ☐ B ☐ C
- 3 ☐ A ☐ B ☐ C
- 4 ☐ A ☐ B ☐ C
- 5 ☐ A ☐ B ☐ C
- 6 ☐ A ☐ B ☐ C
- 7 ☐ A ☐ B ☐ C
- 8 ☐ A ☐ B ☐ C
- 9 ☐ A ☐ B ☐ C
- 10 ☐ A ☐ B ☐ C
- 11 ☐ A ☐ B ☐ C
- 12 ☐ A ☐ B ☐ C
- 13 ☐ A ☐ B ☐ C
- 14 ☐ A ☐ B ☐ C
- 15 ☐ A ☐ B ☐ C

D / Y:

Hayat Bilgisi

- 1 ☐ A ☐ B ☐ C
- 2 ☐ A ☐ B ☐ C
- 3 ☐ A ☐ B ☐ C
- 4 ☐ A ☐ B ☐ C
- 5 ☐ A ☐ B ☐ C
- 6 ☐ A ☐ B ☐ C
- 7 ☐ A ☐ B ☐ C
- 8 ☐ A ☐ B ☐ C
- 9 ☐ A ☐ B ☐ C
- 10 ☐ A ☐ B ☐ C
- 11 ☐ A ☐ B ☐ C
- 12 ☐ A ☐ B ☐ C
- 13 ☐ A ☐ B ☐ C
- 14 ☐ A ☐ B ☐ C
- 15 ☐ A ☐ B ☐ C

D / Y:

Adı Soyadı:.....

Sınıfı:..... No:.....

Türkçe

- 1 ☐ A ☐ B ☐ C
- 2 ☐ A ☐ B ☐ C
- 3 ☐ A ☐ B ☐ C
- 4 ☐ A ☐ B ☐ C
- 5 ☐ A ☐ B ☐ C
- 6 ☐ A ☐ B ☐ C
- 7 ☐ A ☐ B ☐ C
- 8 ☐ A ☐ B ☐ C
- 9 ☐ A ☐ B ☐ C
- 10 ☐ A ☐ B ☐ C
- 11 ☐ A ☐ B ☐ C
- 12 ☐ A ☐ B ☐ C
- 13 ☐ A ☐ B ☐ C
- 14 ☐ A ☐ B ☐ C
- 15 ☐ A ☐ B ☐ C

D / Y:

Matematik

- 1 ☐ A ☐ B ☐ C
- 2 ☐ A ☐ B ☐ C
- 3 ☐ A ☐ B ☐ C
- 4 ☐ A ☐ B ☐ C
- 5 ☐ A ☐ B ☐ C
- 6 ☐ A ☐ B ☐ C
- 7 ☐ A ☐ B ☐ C
- 8 ☐ A ☐ B ☐ C
- 9 ☐ A ☐ B ☐ C
- 10 ☐ A ☐ B ☐ C
- 11 ☐ A ☐ B ☐ C
- 12 ☐ A ☐ B ☐ C
- 13 ☐ A ☐ B ☐ C
- 14 ☐ A ☐ B ☐ C
- 15 ☐ A ☐ B ☐ C

D / Y:

Hayat Bilgisi

- 1 ☐ A ☐ B ☐ C
- 2 ☐ A ☐ B ☐ C
- 3 ☐ A ☐ B ☐ C
- 4 ☐ A ☐ B ☐ C
- 5 ☐ A ☐ B ☐ C
- 6 ☐ A ☐ B ☐ C
- 7 ☐ A ☐ B ☐ C
- 8 ☐ A ☐ B ☐ C
- 9 ☐ A ☐ B ☐ C
- 10 ☐ A ☐ B ☐ C
- 11 ☐ A ☐ B ☐ C
- 12 ☐ A ☐ B ☐ C
- 13 ☐ A ☐ B ☐ C
- 14 ☐ A ☐ B ☐ C
- 15 ☐ A ☐ B ☐ C

D / Y:

Cevap Anahtarı

Türkçe

1.c
2.b
3.a
4.b
5.c
6.a
7.c
8.b
9.a
10.c
11.b
12.c
13.a
14.b
15.a

Matematik

1.c
2.b
3.a
4.c
5.a
6.a
7.b
8.c
9.b
10.b
11.a
12.c
13.c
14.b
15.b

Hayat Bilgisi

1.a
2.c
3.c
4.b
5.a
6.a
7.b
8.c
9.b
10.a
11.c
12.c
13.b
14.b
15.a