
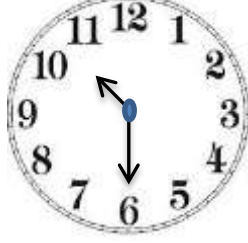


## ZAMANI ÖLÇME

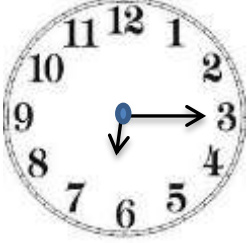
➤ Verilen saatlerin dijital saat karşılıklarını yazınız.



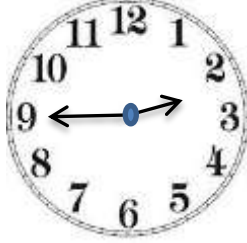
.... : ....



.... : ....



.... : ....



.... : ....

➤ Dijital karşılıkları verilen saatlerin analog saat çizimlerini yapınız.

08 : 45

03 : 15



02 : 00

06 : 30



➤ Okunuşları verilen saatlerin analog saat karşılıklarını çiziniz ve dijital gösterimlerini yazınız.

Saat 4



.... : ....

Saat 7 buçuk



.... : ....

4'ü çeyrek geçiyor.



.... : ....

1'i 45 geçiyor



.... : ....

\* 4'ü 45 geçiyor ifadesinin analog ve dijital saat karşılıklarını gösteriniz. Saatin 2 farklı okunuşunu yazınız.




.... : ....

-

.....

- .....

Aşağıdaki saatlerde yelkovanı 1 tam tur attırırsak saatler kaç gösterir, altlarına yazınız.



➤ Verilen bilgileri uygun olarak eşleştiriniz.

1 hafta	30 gündür
1 ay	4 mevsimdir
1 mevsimde	7 gündür
1 yıl	3 ay vardır
1 saat	24 saattir
1 gün	60 dakikadır

Verilen mevsimlerde hangi aylar olduğunu yazınız.

Kış	
İlkbahar	
Yaz	
Sonbahar	

1.) Elif her gün 3 sayfa etkinlik okuma yapıyor. Elif 1 haftada kaç sayfa okuma yapar?

2.) Çalışmalar saat 10:00'da başladı ve 2 saat sonra bitti. Çalışmalar saat kaçta bitti?

3.) "2 hafta, 3 gün" toplam kaç gün eder?

4.) "1 ay, 3 hafta" toplam kaç gün eder?

5.) Bugün 17 Mayıs'tır. 8 gün sonra oluşacak tarihi yazınız.

6.) Bugün 4 Nisan'dır. 2 hafta sonra oluşacak tarihi yazınız.

7.) Akif 1 günde 8 saat uyuyor ve 5 saatini okulda geçiriyor. Akifin gün içinde kalan süresi kaç saattir?

8.) 3 yıl önce 7 yaşında olan Ali 5 yıl sonra kaç yaşında olacaktır?

9.) 2 yıl önce 6 yaşında olan Elif, 8 yıl sonra kaç yaşında olacaktır?

10.) Defne günde 9 saat uyuyor. Defne'nin gün içinde kalan süresi kaç saattir?

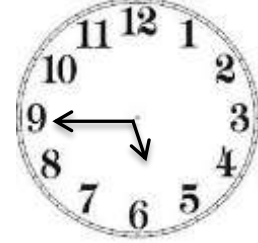
11.) Eren 3 günde bir kursa gidiyor. Kursu cuma günü başlayan Eren'in bir sonraki kursu hangi gündür?

12.) Saat 7:00 için aşı. doğru-yanlış sorularını cevaplayınız.

- ( ) Yelkovan 7'yi gösterir.
- ( ) Tam saattir.
- ( ) Akrep 7'yi gösterir.
- ( ) Çeyrek saattir.
- ( ) Yelkovan 12'yi gösterir.

13.) 1 hafta - 1 gün - 1 ay  
Yukarıda verilenleri süresi en fazla olandan en az olana sıralayınız.

14.)



Verilen saat için doğru-yanlış sorularını cevaplayınız.

- ( ) Saat 6:45'tir.
- ( ) 6'ya 15 vardır.
- ( ) Yelkovan 5 ile 6 arasındadır.
- ( ) Analog saat modelidir.
- ( ) 5'i 45 geçiyor.
- ( ) Dijital saat modelidir.

15.) 2 ay kaç gündür?

16.) 4 hafta kaç gündür?

17.) 3 ay kaç gündür?

18.) 2 ay, 3 hafta, 4 gün toplam kaç gün eder?

Verilen saatleri istediğiniz tam saat şeklinde çiziniz, dijital gösterimlerini yazınız.



.... : ....



.... : ....



.... : ....



.... : ....

Verilen saatleri istediğiniz yarım saat şeklinde çiziniz, dijital gösterimlerini yazınız.



.... : ....



.... : ....



.... : ....



.... : ....


Verilen saatleri istediğiniz çeyrek saat şeklinde çiziniz, dijital gösterimlerini yazınız.



.... : ....



.... : ....



.... : ....



.... : ....