

SAYILARI EN YAKIN ONLUKLARINA YUVARLAMA

Verilen sayıların hangi 2 on-
lul arasında olduklarını yanlarına
yazınız.

74			63		
26			37		
59			45		
91			27		
18			64		
43			98		
87			72		
35				
62				

Verilen sayıların hangi onlu-
ğa yakın olduklarını bulunuz.

97:.....

12:

75:

23:

47:

54:

25:

71:

64:

65:

1.) "43" sayısı hangi onluğa daha
yakındır?

a) 40 b) 50 c) 60

2.) "56" sayısı en yakın onluğuna
yuvarlanırsa hangi sayı elde edilir?

a) 40 b) 50 c) 60

3.) Hangi sayının en yakın olduğu
onluk 70'tir?

a) 64 b) 65 c) 75

4.) "4 düzine" sayısının en yakın
olduğu onluk aşı. hang?

a) 40 b) 50 c) 60

5.) "7 onluk 4 birlik" sayısı aşı. on-
luklardan hangisine daha yakındır?

a) 60 b) 70 c) 80

6.) "40" "50"

Aşı. sayılardan hangisi en ya-
kın onluğuna yuvarlanırsa yukarı-
daki sayılardan biri elde edilir?

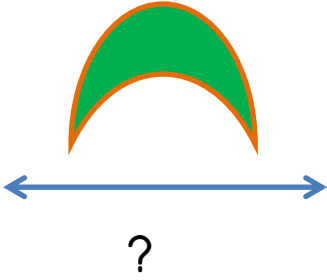
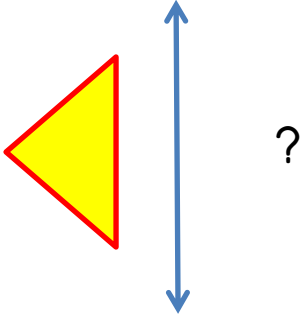
a) 36 b) 55 c) 61

7.) İki basamaklı en büyük çift sayı
hangi onluğa yakındır?

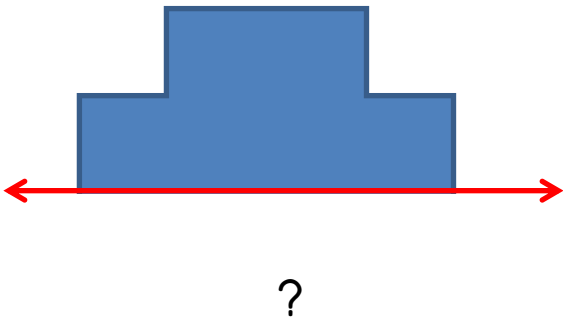

a) 100 b) 10 c) 100

SİMETRİ

Verilen şekillerin doğrulara göre simetrisini çiziniz.






Verilen şekillerin simetrisini tamamlayınız.



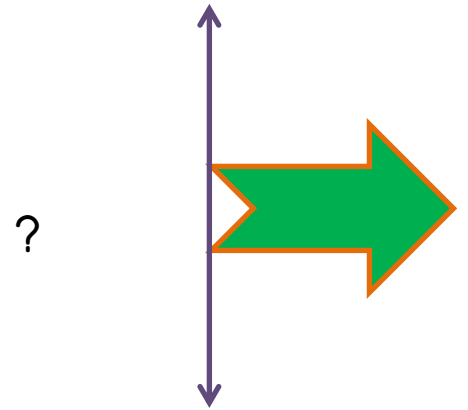
1.) Aş. hang. simetriktir?

- a) L b) P c) D



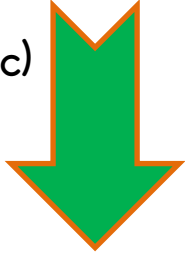
2.) Aş. hang. simetrik değildir?

- a)  b) 
c) 

3.)



Verilen doğruya göre şeklin simetrisi aş. hang?

- a)  b) 
c) 

4.) - Dikdörtgen - Çember

- Kare - Silindir

Verilenlerden kaç tanesi simetriktir?

- a) 2 b) 3 c) 4