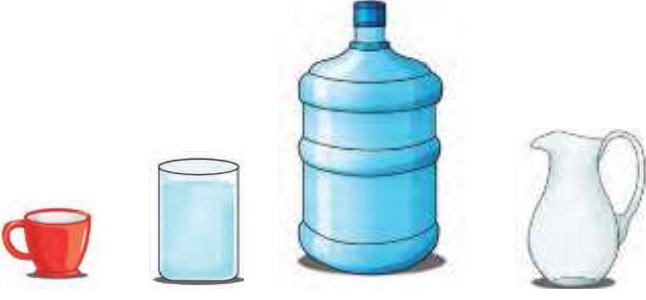


SIVI ÖLÇME



Verilenleri en çok sıvı alandan en az sıvı alana doğru sıralayınız.

.....
.....




Yukarıdaki 3 nesneye de 1'er bardak su konuluyor. Nesnelerdeki sıvılar ile ilgili aş. hang. doğrudur?

- a) En çok kovada sıvı vardır.
- b) En az maşrapada sıvı varır.
- c) Tüm nesnelerdeki sıvı miktarları eşittir.



Yukarıdaki kovadaki sıvı miktarı ile 6 şişedeki toplam sıvı miktarı eşittir. 4 kova ile kaç şişe sıvı dolar?



2 fincan su ile 1 bardak doluyor. 5 bardak su ile 1 sürahi doluyor.

Verilenlere göre;


- 4 bardak sıvı ile kaç tane fincan dolar?



Yukarıdaki fincanla 3 sefer bardağa su boşaltırsak bardak doluyor. 12 bardak su ile kaç fincan dolar?

- 3 sürahi sıvı ile kaç fincan dolar?

TARTMA




Verilenler göre tavşan kaç kilogramdır?

1.) Merve ile Seda'nın kütleleri toplamı 53 kg'dır. Merve 27 kg ise Seda kaç kg'dır?

2.) Defne 28 kg'dır. Figen, Defne'den 5 kg hafiftir. İkisinin kütleleri toplamı kaç kg'dır?

3.) Ali 24 kg'dır. Hakan, Ali'den 2 kg daha ağırdır. İkisinin kütleleri toplamı kaç kg'dır?



Verilenlere göre kitaplar kaç kg'dır?

1.) Pirinç: 5kg Salça: 2 kg
Soğan: 4 kg Patates: 6 kg
Ayten yukarıdaki ürünleri yanlarında yazan kütleler kadar almıştır. Buna göre;

- En ağır olan ürün hangisidir?
- En hafif olan ürün hangisidir?
- Soğan ve pirinç toplam kaç kg'dır?
- Patates, salçadan kaç kg fazladır?
- Soğan, pirinçten kaç kg eksiktir?