

MATEMATİK SEVİYE TESPİT SINAVI



Yukardaki toplar bir desteden kaç eksiktir?

- a)6 b) 8 c)4

2)-Aşağıdaki rakamların yanlarına yazılışlarını yazın.

27: 43:

35: 50:

89:

3)-Yazılışı verilen sayıları, rakamla ifade ediniz.

Kırk: Yirmi beş:

Yirmi: On sekiz :


Doksan bir:

- 4)-

91: Doksan bir	82: Seksen beş
30: Elli iki	45: Kırk beş

Yukarıda verilen rakamlardan kaç tanesi doğru yazılmıştır.

- a) 3 b) 2 c) 4



Yukardaki elmalara kaç elma daha eklersek bir düzine elma olur.

- a) 5 b) 7 c) 6

6)- 43 sayısında kaç onluk vardır?

.....onluk

7)-

1. 12 ayrıtı vardır.
2. Bütün yüzleri karedir.
3. 8 köşesi vardır.
4. 6 yüzü vardır

Yukarıda hangi geometrik cismin özellikleri yazılmıştır.

- a) Koni b) Küp c) Silindir

8)- Aşağıdaki rakamları en yakın onluğa yuvarlayınız.

35: 48:

51: 78:

95:

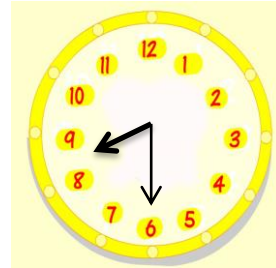
9)-



Birler basamağı 9, onlar basamağı 7 olan rakam hangisidir

- a) 79 b) 97 c) 75

10)-

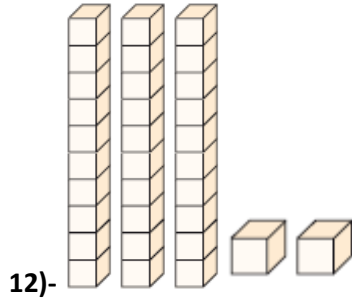


Yandaki saat kaç göstermektedir?

- a) 8:30 b) 6:00 c) 8:00

11)- 70 sayısında kaç birlik vardır?

.....birlik



Yukarıda onluk ve birlikler şeklinde verilen sayı aşağıdakilerden hangisidir?

- a) 23 b) 28 c) 32

13)-



Silindir ile ilgili aşağıdaki ifadelerden hangisi yanlıştır?

- a) Köşesi yoktur
b) Eğri yüzü vardır
c) 2 köşesi vardır

14)- Aşağıdakilerden hangisi standart olmayan uzunluk ölçülerinden değildir?

- a) Karış b) Metre c) Adım

15)- Aşağıdaki işlemleri yapınız.

$\begin{array}{r} \boxed{8} \\ \boxed{2} \\ \hline \boxed{} \end{array}$	$\begin{array}{r} \boxed{} \\ \boxed{4} \\ \hline \boxed{6} \end{array}$	$\begin{array}{r} \boxed{12} \\ \boxed{} \\ \hline \boxed{5} \end{array}$
$\begin{array}{r} \boxed{9} \\ \boxed{6} \\ \hline \boxed{} \end{array}$	$\begin{array}{r} \boxed{8} \\ \boxed{} \\ \hline \boxed{12} \end{array}$	

16)- Selen ile Kadir'in yaşları toplamı 15'tir. Selen 8 yaşında ise Kadir kaç yaşındadır?

17)- Sınıfta yapılan diş taramasında 16 öğrenciden 7 tanesinde çürük tespit edilmiştir. Çürük dişi olmayan kaç öğrenci vardır?

18)- Pazardan aldığım 13 muzun bazılarıyla annem pasta yaptı. Geriye 9 muz kaldı. Annem pasta için kaç muz kullandı?

19)- Ali kalemlerinden 7 tanesini arkadaşlarına dağıtınca geriye 8 kalem kalıyor. Ali'nin başta kaç kalem vardı?

20)- Ayşe teyze manavdan 4 kilogram elma, 3 kilogram armut, 2 kilogram da muz aldı. Toplam kaç kilogram meyve aldı?

Her Soru 5 puandır.

BAŞARILAR