

ŞEKİL VE SAYI ÖRÜNTÜLERİ

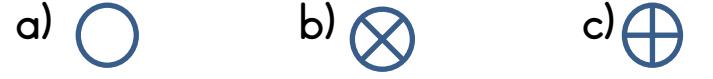
Verilen örüntüleri bir adım ilerletiniz.



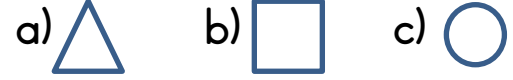
x - + ÷ x - + ÷



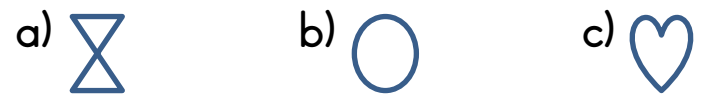
Örüntüde eksik bırakılan yere aş. hang. gelmelidir?



Örüntüde eksik bırakılan yere aş. hang. gelmelidir?



Örüntüde eksik bırakılan yere aş. hang. gelmelidir?



Örüntüde eksik bırakılan yere aş. hang. gelmelidir?



Sayı örüntülerinde eksik bırakılan yerleri tamamlayınız.

4 - 7 - 10 - 13 - - 19 -

1 - 5 - 9 - - - 21

51 - 49 - 47 - - 43 -

34-39-44-.....-54-59-.....-69

9 ile başlayan ve 5'er artan örüntüyü 6 adım boyunca yazınız.

.....
.....

82 ile başlayan ve 3'er azalan örüntüyü 7 adım boyunca yazınız.

.....
.....

Aşağıdaki örüntünün 4. adımını tamamlayınız.

1.adım 2.adım 3.adım 4.adım

Aşağıdaki örüntünün 4. adımını tamamlayınız.

1.adım 

2.adım 

3.adım 

4.adım
.....
.....
.....

1.) 2-5-8--14--20-23

 ve  yerine sırasıyla aş. hang. gelmelidir?

a) 9 - 15 b) 11 - 17 c) 10 - 18

2.) "47-43-39-.....-.....-.....-23

Örüntüde eksik bırakılan yerleri tamamlayınız.