

SAATLER

Saat kadrarlarında ve dijital saat kısımlarında eksik olan yerleri tamamlayınız. Saatlerin okunuşunu yazınız.



09 : 00



11 : 30



08 : 30



04 : 00

Saat dokuz


.....

.....


.....



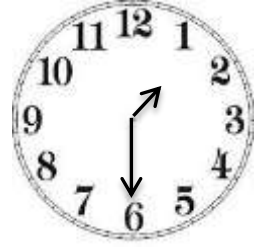
... : ...



... : ...



... : ...



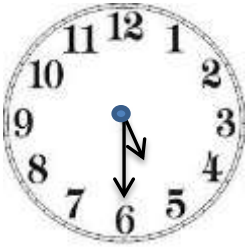
... : ...

.....


.....

.....

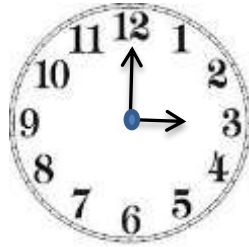
.....



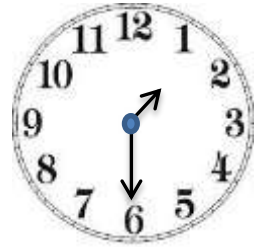
... : ...



... : ...



... : ...



... : ...

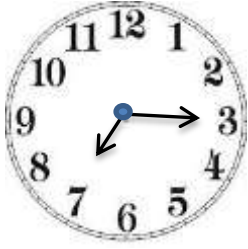
.....

.....

.....

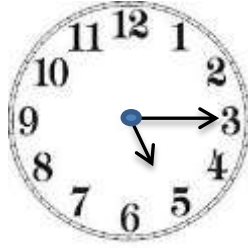
.....

Saat kadrarlarında ve dijital saat kısımlarında eksik olan yerleri tamamlayınız. Saatlerin okunuşunu yazınız.



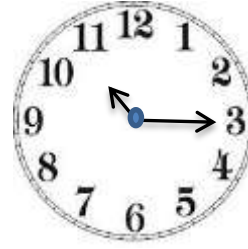
.... :

.....



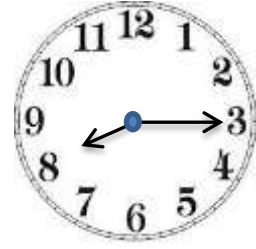
.... :

.....



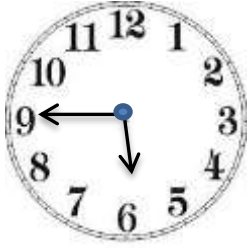
.... :

.....



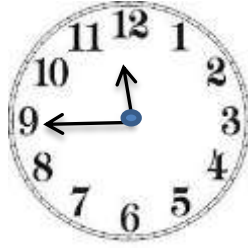
.... :

.....



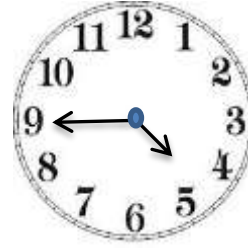
.... :

.....



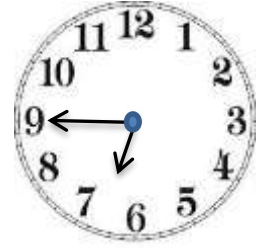
.... :

.....



.... :

.....



.... :

.....


.....

.....

.....


.....

Aş. saatleri istediğiniz biçimde doldurunuz.



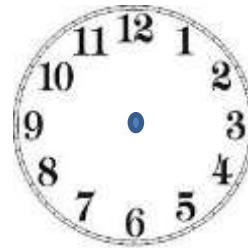
.... :

.....




.... :

.....



.... :


.....




.... :

.....

Aş. verilen saatlerde yelkovanlar tam 1 tur atarlarsa saatler kaç gösterir? Altlarına yazınız.



.... :



.... :



.... :



.... :

.....

.....

.....

.....

* * * 1 SAAT DAKİKADIR. * * *

* * * 1 HAFTA GÜNDÜR. * * *

* * * 1 AY GÜNDÜR. * * *

* * * 1 AYDA HAFTA VARDIR. * * *

* * * 1 MEVSİMDE AY VARDIR. * * *

* * * 1 GÜN SAATTİR. * * *

1.) Ali her gün 2 saat çalışıyor. Ali 1 haftada kaç saat çalışır?

2.) Cumartesi günü saat 9:00'da kitap okumaya başladım. Saat 11:00'da kitap okumayı bıraktım. Kaç saat kitap okudum?

3.) Murat saat 08:00'da çalışmaya başlamıştır. 3 saat çalıştıktan sonra 1 saat dinleniyor. Dinlenme süresi bittiğinde saat kaç gösterir?

4.) 2 hafta, 5 gün toplam kaç gün eder?

5.) Bugün 2 Mayıs ise 13 gün sonra hangi ayın kaçınıcı gününde oluruz?

6.) 3 gün kaç saattir?

7.) 2 ay kaç gündür?

8.) 3 mevsimde toplam kaç ay vardır?

9.) 2 ay, 1 hafta kaç gündür?

10.) 1 ay, 2 hafta, 4 gün toplam kaç gün eder?

11.) 4 yıl önce 7 yaşında olan biri bugün kaç yaşında olur?

12.) Saat 10'da çalışmaya başlayan biri 4 saat çalışıyor. Çalışma bittiğinde saat kaç gösterir? Çiziniz.



13.) 3 yıl sonra 9 yaşında olacak olan Eda şimdi kaç yaşındadır?

14.) Efe 1 günde 8 saat uyuyor ve 6 saatini okulda geçiriyor. Efe'nin gün içinde kalan süresi kaç saattir?

15.) 2 yıl önce 5 yaşında olan Rifat 4 yıl sonra kaç yaşında olacaktır?

16.) Çarşamba gününden 4 gün sonra kursa gidecek olan Can hangi gün kursa başlar?

17.) 6 yıl önce 10 yaşında olan Elif 9 yıl sonra kaç yaşında olacaktır?