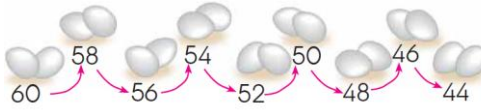


1)



Yukarıdaki ritmik sayma için aşağıdakilerden hangisi söylenemez?

- A) 2' şer 2' şer ileriye doğru sayılmaktadır.  
 B) 5. saymada 52 sayısı söylenmiştir.  
 C) Bu ritmik sayma devam ettirmek istenirse 42 sayısı söylenmelidir.

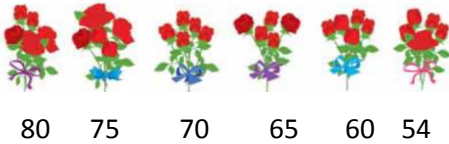
2)

38, 40, 42, 44, 46, ... , ... , 52

Yukarıdaki ritmik saymada verilmeyen sayılar aşağıdakilerden hangisidir ?

- A) 50 ve 52      B) 48 ve 50  
 C) 47 ve 48

3)



Ahmet, yukarıdaki gülleri 80 ' den başlayarak 5'er 5' er geri sayarken bir yanlışlık yapmıştır.

Aşağıdaki söylenenlerden hangisini yaparsak bu yanlışlığı düzeltilmiş olur?

- A) 70 yerine 71 yazarak.  
 B) 54 yerine 55 yazarak.  
 C) 80 yerine 85 yazarak.

5) 3' er 3' er 5 defa sayan bir öğrenci aşağıdaki hangi sayıyı bulur ?

- A) 20      B) 18      C) 15

6)



Yukarıdaki öğrencileri 4' er ritmik saydığımızda aşağıdakilerden hangisini söylemeyiz ?

- A) 8      B) 12      C) 15

7) 44, 48, 52, ... , 60, 64

Yukarıdaki ritmik saymada verilmeyen sayı aşağıdaki hangi seçenekte verilmiştir?

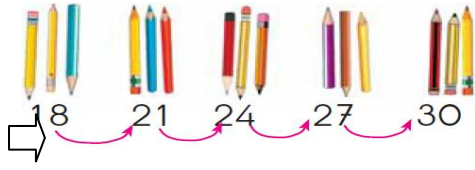
- A) 56      B) 40      C) 68

8) Kaç tane 3 sayarsak 18 sayısına ulaşırız ?

- A) 5  
 B) 6  
 C) 21



9)



Yukarıdaki ritmik sayma aşağıdaki hangi sayı ile devam ettirilebilir ?

- A) 15      B) 33      C) 31

10)



Yukarıdaki ritmik saymadaki boşluklar hangi sayılarla doldurulmalıdır ?

- A) 74 - 73  
B) 74 - 70  
C) 82-64

11) 10 ' ar ritmik sayma yaparken 6. saymada hangi sayıyı söyleriz ?

- A) 50      B) 60      C) 70

12)



Yukarıdaki ritmik saymanın doğru olabilmesi için hangi sayıyı değiştirilmesi gerekmektedir ?

- A) 32  
B) 28  
C) 26

13)



Yukarıdaki ritmik saymada boş bırakılan yere hangi sayı gelmelidir?

- A) 26      B) 38      C) 18

14)

3, 6, 9, 12, 15, 18, 21, ...



Ayşegül

Yukarıdaki görsel ile ilgili olarak söylenenlerden hangisi yanlıştır?

- A) Ayşegül, 3' er ritmik sayma yapmaktadır.  
B) Ayşegül , 4. saymada 12'yi söylemiştir.  
C) Ayşegül, 21 den sonra 25'i söylemelidir.

Kolaylıklar diliyorum....

