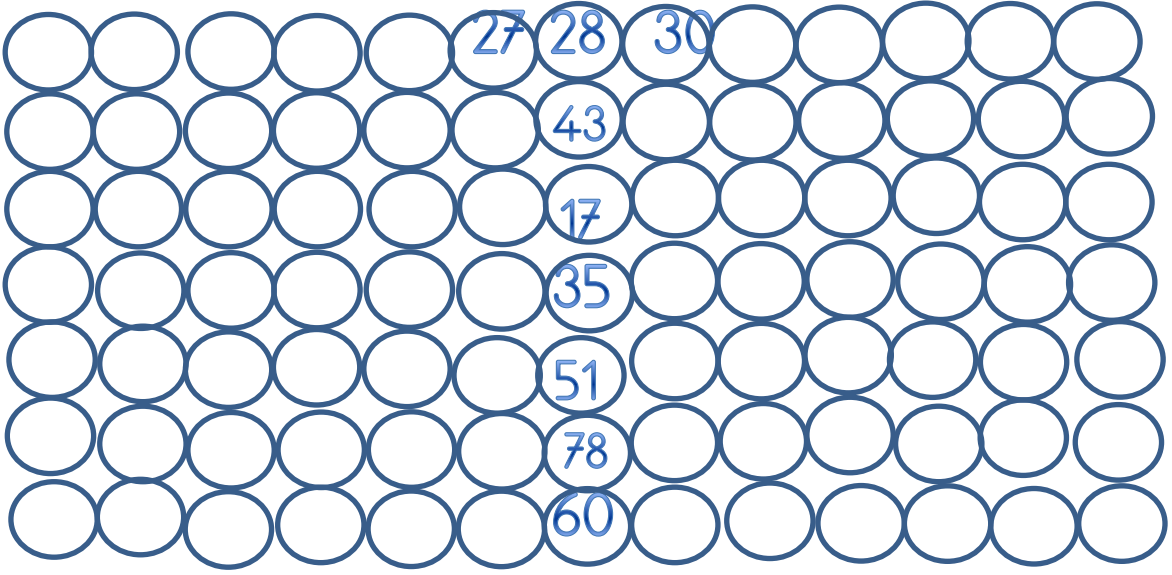


Ritmik Saymalar

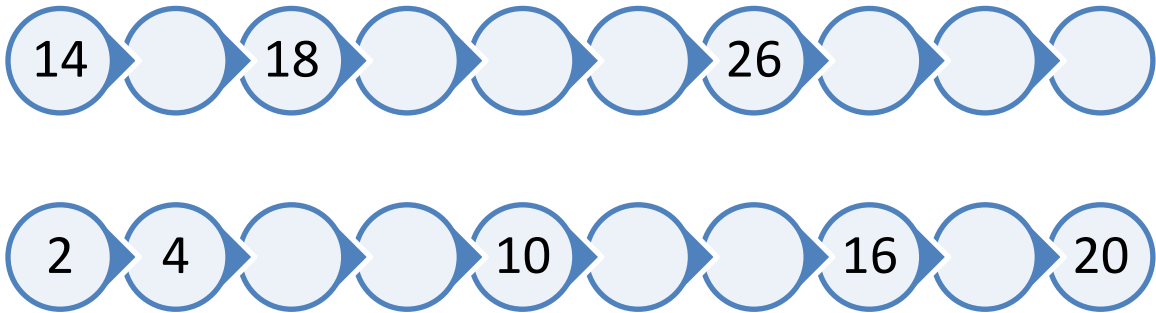
1- Geriye doğru birer  İleriye doğru ikişer



2- Verilen sayıdan başlayarak geriye birer ritmik sayınız

24	23	22	21						
66	65	64							
33	32								
71	70								
40	39								

3- İkişer ritmik saymalarda verilmeyen sayıları tamamlayınız




Ritmik Saymalar

4-Üçer ritmik saymalarda verilmeyen sayıları tamamlayınız



5-Dörder ritmik saymalarda verilmeyen sayıları tamamlayınız



6-Beşer ritmik saymalarda verilmeyen sayıları tamamlayınız



7-Onar ritmik saymalarda verilmeyen sayıları tamamlayınız.

